

23) Изменения в литосфере:

① образование почвы

② формирование ряда полезных ископаемых

260

Олимпиадная работа по экологии  
Обучающийся 10 В класса гимназии  
№409 отп. п/8

Седовой Елены Павловны

2023-2024 уч. год.

- 1) ~~a~~
- 2) 2
- 3) ~~8 a~~
- 4) 5
- 5) 6
- 6) 6
- 7) ~~8~~
- 8) 2
- 9) ~~8 a~~
- 10) 2
- 11) 6

7

- 12) 1-5; 2-3; 3-1; 4-1 25
- 13) A-2; 5-1; B-4; P-3 25
- 14) ~~1-A; 2-5; 3-B~~ X 0

- 15) Восстановительное природопользование
- 16) Мониторинг
- 17) Климобийоты
- 18) Гумус
- 19) Улитка-камушка  
сколачивание

Явный цепочка  
паразитизм

линей-фильтрация

20) 1) Самый способ борьбы с вредителями культурных растений является биологическим способом

2) Преимущества: такой способ не загрязняет окружающую среду и не оказывает негативное воздействие на растения.

21) Это явление объясняется тем, что личинки беззубок паразитируют по конечным покровам рогов. и так как из-за вылова рого сокращается численность их популяции, то и меньшее количество личинок беззубок может развиться во взрослую особь. Меньше рогов → меньше беззубок.

22) 1) Приемы по которым не происходит вытеснение? Биологические виды занимают разные экологические ниши (разные пища, способ ее добывания и время активности) в одном и том же сообществе.

2) присутствует избыток ресурса  
3) численность более сильного конкурента ограничивается третьим видом.

4) Отсутствие полного вытеснения не противоречит правилу конкурентного исключения, потому что в условиях среды создается равновесие из-за того, что эти становятся биологически разными по отношению к одному виду, но для другого.

Дипломная работа по дисциплине  
«Физика» 10 Б масса механическая  
МАОУ СОКМ №8

Кисилёва Анна Александровна

2023-2024 г. г.

1. 2
- ✓ 2. ~~б~~
- ✓ 3. ~~а~~
4. б
5. б
6. б
- ✓ 7. ~~а~~
8. 2
9. б
10. 2
11. б ~~9~~
12. 1-Б; 2-Б; 3-Д; 4-А ~~25~~
13. А-2; Б-1; В-А; Д-3 ~~25~~
- ✓ 14. ~~1-Б; 2-Б; 3-А~~ 0 ~~48~~
15. Восстановительное приращивание 1
16. Мониторинг 1
17. Консольная 1
18. Туше 1 ~~48~~
19. индив - ориентирование  
уника - капсула - складывание  
двух членов → паразитизм ~~25~~

20. 1) Этот способ борьбы с вредителями называется: биологическим

- 2) - не заражает окружающую среду
- не оказывает отрицательного воздействия на растения

21. Не констатируя, что это явление произошло в природе, то мелкие беззубки паразитируют над корнями растений, а при интенсивной выщелачивании сокращается их численность из-за конкуренции. Тем самым рощи, чем меньше мелких личинок беззубок, тем больше разлагаются во взрослой стадии.

22. - пылевые не проникают в почву, то беззубки в почве занимают разные экологические ниши в зависимости от типа почвы, например: разрыхленная почва, способ добычи корма, разная временная активность.

- изобилие ресурса
- специализация 3 видов (более сильная конкуренция)
- из-за условий среды создается равновесие, она инвариантна биологически, но для одного, но для другого. Поэтому существуют разные выходы к краевому пределу сокращения численности.

23. Благодаря конкурентности почвы организмы образуются почва разрушилась почва паразитизирует сформировались рощи почвенных насекомых.

~~275~~

как неорты, понав по крыль, мешаем  
летать, поэтому живомное поидаем и  
одедом по дню. Вследствие организмы,  
живушие на дню, могут умирать. 25

119

Согласно закону эволюции Кэрринга:  
растения будут самыми тяжёлыми, т.к.  
их больше всего, а животные будут  
самыми лёгкими, т.к. их меньше.

225

Интеллектуальная работа по экологии  
обучающейся в классе "А"  
МАОУ СОШ №8  
Лозарёвой Лидии Васильевны

- Ответ: 2      √1
- Ответ: 5      √2
- Ответ: а      √3
- Ответ: а      √4
- Ответ: а      √5
- Ответ: а      √6
- Ответ: в      √7
- Ответ: в      √8
- Ответ: а 2      √9
- Ответ: 5      √10
- Ответ: а-3, б-1, в-2      √11
- Ответ: а-1, б-2, в-3      √12
- Ответ: 1-б, 2-а, 3-2, 4-б      √13

- Ответ: Порогитиди      √13
- Ответ: Симбиоз      √14
- Ответ: Коучероки      √15
- Ответ: Устойчивость      √16
- Кеорть не растворяема в воде и при попадании в водоемы покрывает их. Плакми образы, кеорть препятствует попаданию света к обитателям водной среды. Из-за этого растения, находящиеся в водоемах не могут фотосинтезировать, так как нет света. Если растения не фотосинтезируют, то это влияет и на другие организмы, так как кислорода становится недостаточно. От кеорти страдают и водонаводящие птицы, так

- №1 (2)
- №2 (5)
- №3 (2)
- №4 (2)
- №5 (2)
- №6 (8)
- №7 (0)
- №8 (2)
- №9 (8)

195

- №10 A-3 ; B-1 ; B-2 1.5
- №11 A-1 ; B-3 ; B-2 15.5
- №12 1-6 ; 2-6 ; 3-2 ; 4-1 15.5
- №13 Паразитизм 0
- №14 Симбиоз
- №15 Концелоген
- №16 Самоопыление 13.5

№17 и далее время жизни  
и морозостойкость и др. 28

№18

40000 яиц : 4 яйца/г = 10000 =  
= 10 кг сухой массы яйца.

18

№19

- 1) Через 10 часов пухляк будет
- 2) самые тяжелые будут рождаться
- 3) самые легкие - только в воде, ро-  
ждения

35

№20

Ведьб распростирается на боль-  
ше расстояние так как вода  
меньше сопротивлению между водой  
и атмосферой.

15

235

Список задач по Ботанике  
по Иллюстрациям

Обучающегося 9Б класса

№04 СОШ №8

Вознесенском Районе Александрийской  
обл.

2023-2024 учебный год



- 1) 2
- 2) б
- 3) а
- 4) а
- 5) 2
- 6) в
- 7) в
- 8) 2
- 9) б
- 10) 1-б, 2-в, 3-а 1б
- 11) 1-а, 2-б, 3-в 1,5б
- 12) 2-в, 1-б, 3-2, 4-а 1,5б
- 13) Паразитизм 0
- 14) Симбиоз 1
- 15) Канцероген 1
- 16) Саморегуляция 1
- 17) 0
- 18) 1) Закон 10 процентов.  
2) Самые тяжёлые - растения.  
3) Самые лёгкие - шейные позвонки 3б

9б

20) 1) Перья образует пинна, которая препятствует газообмену между водой и атмосферой.

2) Из-за недостатка кислорода страдают все обитатели водоёма.

3) Пинна перья покрывает перья птиц (водоплавающих), из-за этого птицы не могут летать и погибают.

17) 1) Длительное время жизни.

2) Устойчивость к морозу.

3б

2б

24б.

Вышитадная работа по зоологии.

обучающейся 9<sup>Ф</sup> класса

МАОУ СОШ №8

Линковой Елизаветы Александровны

2023-2024 учебный год.

- 1) б                    20) 1. Автографенорт
- 2) з                    2. Презентация цветной металлуры
- 3) в                    3. Нефтеперерабатывающие предприятия
- 4) ~~а~~ **в**                21) 1. Климатические факторы **3**
- 5) а                    2. Врози птиму - хищники, которые поедают яйца, птимуцов и взрослых птиму.
- 6) в
- 7) з                    3. Внимательство человека **3**
- 8) б                    22) 1. Помогает наескопые
- 9) б                    2. Уменьшается кол-во птиму.
- 10) з                    3. Это приводит к уменьшению рождаемости **3**
- 11) ~~в~~ **10**
- 12) в, а, б, з **2 б**
- 13) б, з, а, в **2 б**
- 14) б, в, з, а **2 б**
- 15) в, а, б **1,5**
- 16) Плотность **1**
- 17) **0**
- 18) Кешоблюитт **1**
- 19) Гулус **1**

**29,50**

Олимпиадная работа по экологии

Обучающейся 11А класса естественно-научного  
МАОУ СОШ №8 <sup>профиль</sup>

Себровой Анны Алексеевны

2023 - 2024 уч. года

- |     |            |     |   |
|-----|------------|-----|---|
| 1   | б          | 20. | 1. Выхлопные газы автомобилей.              |
| 2   | г          | 2.  |   |
| 3   | б          | 3.  | Нефтеперерабатывающ. предприятия            |
| 4   | г          |     |   |
| 5.  | а          | 21. | 1. Погодные условия среды                   |
| 6   | б          | 2.  | Личинки, поедающ. птиц                      |
| 7   | г          | 3.  | Деятельность человека                       |
| 8.  | б          | 22. | 1. Уничтожаются насекомые                   |
| 9.  | б          | 2.  | Из-за уничтожения насекомых, поедают птиц и |
| 10. | г          | 3.  | Все приводит к уменьшению растительности.   |
| 11  | б          |     |   |
| 12  | б а б г    |     |   |
| 13  | б г а в    |     |   |
| 14  | б в г а    |     |   |
| 15. | б а б      |     |   |
| 16  | плотность  |     | 1   |
| 17. | Кооператив |     | г   |
| 18  | Кембрик    |     | г   |
| 19. | Гул        |     | г   |

20

21

22

11 б

12 б а б г

13 б г а в

14 б в г а

15 б а б

30, 5 б

Олимпиадная работа по экологии  
Обучающейся 11А класса естественно-научного  
профиля  
МАОУ СОШ №8

Захаровой Ксении Александровны

2023 - 2024 гг. 30г

115

2) 2

3) 8

4) 2

5) a

6) 8

115

7) 2

8) 5

9) 5

10) 2

11) 8

12)  $\begin{matrix} A & B & B & A \\ 3 & 4 & 2 & 1 \end{matrix}$  00

13) 3 1 4 2 20

14) 4 1 2 3 20

15) 2 3 1 150

16) Плотность популяции 10

17) Погода в день 10

18) Число 10

20) Автоматический, предприятия цветной металлургии, нефтепереработки, химической промышленности 30

21. Психологические факторы, ассимиляция, деятельность человека. 30

22. Температурное насыщение, уменьшение количества пищи, сокращение растительности, нарушается стабильность экосистемы. 30

28,50

Аспирантская работа по теме:  
Ограничения в А-классе  
естественно-научного профиля  
М.А.И. ОИИ и др  
Пурянской Валерии Павловны  
2023-2024 учебный год



## Задание № 1

Выбери верные ответы на вопросы.

1. Как ещё называют эпоху Возрождения?

- А. Ренессанс +  
 Б. Просвещение  
 В. Романтизм  
 Г. Новейшее время

2. Как называется собрание репродукций картин, изданных в виде книги, часто с пояснительным текстом?

- А. Портфолио  
 Б. Альбом +  
 В. Блокнот  
 Г. Альманах

3. Какой из перечисленных видов искусства нельзя отнести к пластическим?

- А. Музыка + 0,5  
 Б. Графика  
 В. Живопись  
 Г. Театр  
 Д. Скульптура

4. Как в живописи называется вид спереди?

- А. Анфас +  
 Б. Экстерьер  
 В. Абрис  
 Г. Профиль

5. Голландцы, немцы, англичане называют этот жанр "Тихая природа" или "Тихая жизнь", французы и итальянцы говорят "Мёртвая природа".

- А. Анималистический.  
 Б. Пейзаж.  
 В. Батальный.  
 Г. Натюрморт. +

6. Что из перечисленного не является жанром изобразительного искусства?

- А. Готический  
 Б. Портрет  
 В. Пейзаж  
 Г. Ботанический 0,5  
 Д. Анималистический  
 Е. Библейский  
 Ж. Барокко  
 З. Натюрморт

7. Как по-другому называется картина Леонардо да Винчи "Мона Лиза"?

- А. "Джоконда" +  
 Б. "Диана"  
 В. "Олимпия"  
 Г. "Юдифь"

8. Кто из художников родился раньше?

- А. Винсент Ван Гог  
 Б. Сальвадор Дали  
 В. Рафаэль Санти +  
 Г. Питер Пауль Рубенс

9. Художник, автор картины "Боярыня Морозова"

- А. Серов  
 Б. Шишкин  
 В. Суриков +  
 Г. Левитан

10. Какому архитектурному стилю свойственны признаки:

величественность, религиозность, устремлённость ввысь, наличие скульптур, лепнины, стрельчатых композиций, витражей на окнах...

- А. Барокко  
 Б. Готика +  
 В. Классицизм  
 Г. Древнеегипетский

## Задание № 2

Перед вами названия музыкальных произведений:

«Ленинградская», «Реквием», «Ромео и Джульетта», «Золушка», «Форель», «Детский уголок».

- 1). Определите жанровую принадлежность каждого из них.
- 2). Укажите номер иллюстрации с изображением автора.
- 3). Приведите пример произведения и его автора в оставшейся строке.
- 4). Заполните таблицу

Музыкальный жанр	Название произведения	Номер иллюстрации с изображением автора
Сюита	Детский уголок +	6. +
Симфония	Ленинградская +	1. +
Опера	Ромео и Джульетта +	2. +
Балет	Золушка +	4. +
Месса	Реквием +	3. +
Песня	Форель +	5. +
Серенада	Вечерняя серенада	Ф. П. Шуберт. — 18

135



Д. Д. Шостакович



Ш. Ф. Гуно



В. А. Моцарт



С. С. Прокофьев



Ф. П. Шуберт



А. К. Дебюсси

## Задание № 3

**РАССМОТРИТЕ КАРТИНУ**



Заполните таблицу, ответив на вопросы


1. Название картины	Последний день Помпеи	+
2. Художник	Брайон	+
3. Жанр изо	сюжет из истории	+
4. Факты о создании картины (Годы создания, место; где хранится картина; на чём основан сюжет и т.д..)	Русский художник написал это место перед копированием картины музей в Санкт-Петербурге	+

108

по 1 баллу за каждый верный ответ

#### Задание № 4

На фотографиях памятники древних цивилизаций. Назвать их и страны, в которых они находились. (6 баллов)



Заполни таблицу

1	Колизей	+	2	Греция	+	3	Египет	+
	Рим	+						

48

**Всероссийская олимпиада школьников**  
**Школьный этап по Искусству (мировой художественной культуре) 9 класс**  
**2023-2024 год**

**Задание № 1**

485

**Выбери верные ответы на вопросы. Каждый верный ответ - 1 балл**

**1. Кто такой живописец?**

- А. Человек, умеющий быстро писать.  
 Б. Писатель, пишущий живые, весёлые рассказы.  
 В. Художник. +  
 Г. Очень быстро и много рисующий человек.

**2. Что такое автопортрет?**

- А. Изображение любимого автомобиля  
 Б. Портрет человека в автомобиле.  
 В. Портрет, часто переезжающий с выставки на выставку. +  
 Г. Портрет художника, выполненный им самим.

**3. Как называется картина Васнецова?**

- А. "Гармонь"  
 Б. "Баян" +  
 В. "Аккордеон"  
 Г. "Флейта"

**4. Какой памятник является достопримечательностью Санкт-Петербурга?**

- А. "Медный всадник" +  
 Б. "Жокей из поместья"  
 В. "Весёлый наездник"  
 Г. "Морской ковбой"

**5. Какой цвет получится, если смешать красный, зелёный и синий цвета?**

- А. Коричневый 0,5  
 Б. Серый  
 В. Чёрный  
 Г. Лиловый

**6. Цвета радуги подразделяются на тёплые и холодные. Выбери самое верное утверждение.**

- А. Тёплые: красный, оранжевый, жёлтый, зелёный. Холодные: голубой, синий, фиолетовый.  
 Б. Тёплые: красный, оранжевый, жёлтый, зелёный. Холодные: зелёный, голубой, синий, фиолетовый. +  
 В. Тёплые: красный, оранжевый, жёлтый. Холодные: зелёный, голубой, синий, фиолетовый.

**7. Как в изобразительном искусстве называется закон, позволяющий показать на картине глубину изображения?**

- А. Закон Ома.  
 Б. Закон перспективы.  
 В. Закон удалённости.  
 Г. Закон глубины. -

**8. Голландцы, немцы, англичане называют этот жанр "Тихая природа" или "Тихая жизнь", французы и итальянцы говорят "Мёртвая природа".**

- А. Пейзаж.  
 Б. Анималистический.  
 В. Натюрморт. +  
 Г. Батальный.

**9. Как называются кусочки цветного непрозрачного стекла для создания мозаики?**

- А. Витраж.  
 Б. Бисер. +  
 В. Смальта.  
 Г. Галька.

**10. Какой из перечисленных видов искусства нельзя отнести к пластическим?**

- А. Музыка  
 Б. Театр 0,5  
 В. Живопись  
 Г. Графика

85

**Задание № 2**

Даны слова.

1. Запишите их в таблицу.
2. Дайте им краткое определение, пояснение.
3. Запишите жанр музыкального искусства, объединяющий эти слова.
4. Запишите примеры из музыкального наследия, относящиеся к определенному Вами жанру музыкального искусства.

Поясните свой выбор. Увертюра, ария, хор, сцена, дуэт, акт.

Слова	Определения	
Увертюра	Развернутая пьеса, инструментальная вступительная ко действию симфонии.	+
Ария	Эпизод в опере, исполняемый одним персонажем в сопровождении оркестра.	+
Хор	совместное звучание нескольких голосов.	+
Сцена	структурная единица оперы.	-
Дуэт	музыкальная композиция для двух исполнителей.	+
Акт	завершенная часть драматического представления.	-
Жанры музыки	Классика.	+
Примеры музыкального наследия, Пояснение Выбора		

58

РАССМОТРИТЕ КАРТИНУ



Заполните таблицу, ответив на вопросы

1. Название картины	Возвращение блудного сына	+
2. Художник	Рембрандт	+
3. Жанр изо	Религиозная живопись. Г	
4. Факты о создании картины (Годы создания, место; где хранится картина; на чём основан сюжет и т.д...)	1668-1669 гг. Намесяна в последние годы художника. Темой послужила евангельская притча. Находится картина в Эрмитаже.	+

105

по 1 баллу за каждый верный ответ

Задание № 4

Соедините слогарь, поле искусства и произведения, проставив в таблице соответствующие буквы и цифры.

Максимальная оценка – 31 балл

А – литература	1 – Петропавловский собор	9 – «Ветхозаветная Троица»
Б – живопись	2 – «Золушка»	10 – «Иван Сусанин»
В – архитектура	3 – «Евгений Онегин»	11 – «Явление Христа народу»
Г – музыка	4 – «Пер Гюнт»	12 – «Лебединое озеро»
Д – скульптура	5 – «Мона Лиза дель Джоконда»	13 – Михайловский дворец
Е – поэзия	6 – «Ромео и Джульетта»	
Ж – кино	7 – «Одиссея»	
З – театр	8 – «Медный всадник»	

Автор	Вид искусства	Произведение	
П.И. Чайковский	Г	12	2
К.И. Росси	В	13	2
С. С. Прокофьев	Г	6	2
А.С. Пушкин	А	3	2
А.А. Иванов	Б		1
Гомер	А	7	2
Г. Ибсен	Г —	4	1
М.И. Глинка	Г	10	2
М. Фальконе	В	8	1
У. Шекспир	А	6	2
Д. Грезини	В	1	2
А. Рублев	Е	9	2
Э. Грэг	Г	4	2
Л. да Винчи	Б	5	2

25

**Всероссийская олимпиада школьников**  
**Школьный этап по Искусству (мировой художественной культуре) 9 класс**  
 2023-2024 год

## Задание № 1

548

Выбери верные ответы на вопросы. Каждый верный ответ - 1 балл

## 1. Кто такой живописец?

- А. Человек, умеющий быстро писать.  
 Б. Писатель, пишущий живые, весёлые рассказы.  
 В. Художник. +  
 Г. Очень быстро и много рисующий человек.

## 2. Что такое автопортрет?

- А. Изображение любимого автомобиля  
 Б. Портрет человека в автомобиле.  
 В. Портрет, часто проезжающий с выставки на выставку. +  
 Г. Портрет художника, выполненный им самим.

## 3. Как называется картина Васнецова?

- А. "Гармонь"  
 Б. "Баян" +  
 В. "Аккордеон"  
 Г. "Флейта"

## 4. Какой памятник является достопримечательностью Санкт-Петербурга?

- А. "Медный всадник" +  
 Б. "Жокей из поместья"  
 В. "Весёлый наездник"  
 Г. "Морской ковбой"

## 5. Какой цвет получится, если смешать красный, зелёный и синий цвета?

- А. Коричневый  
 Б. Серый 0,5  
 В. Чёрный  
 Г. Лиловый

## 6. Цвета радуги подразделяются на тёплые и холодные. Выбери самое верное утверждение.

- А. Тёплые: красный, оранжевый, жёлтый, зелёный. Холодные: голубой, синий, фиолетовый.  
 Б. Тёплые: красный, оранжевый, жёлтый, зелёный. Холодные: зелёный, голубой, синий, фиолетовый. —  
 В. Тёплые: красный, оранжевый, жёлтый. Холодные: зелёный, голубой, синий, фиолетовый.

## 7. Как в изобразительном искусстве называется закон, позволяющий показать на картине глубину изображения?

- А. Закон Ома.  
 Б. Закон перспективы. +  
 В. Закон удалённости.  
 Г. Закон глубины.

## 8. Голландцы, немцы, англичане называют этот жанр "Тихая природа" или "Тихая жизнь", французы и итальянцы говорят "Мёртвая природа".

- А. Пейзаж.  
 Б. Анималистический. +  
 В. Натюрморт.  
 Г. Батальный.

## 9. Как называются кусочки цветного непрозрачного стекла для создания мозаики?

- А. Витраж. +  
 Б. Бисер.  
 В. Смальта.  
 Г. Галька.

## 10. Какой из перечисленных видов искусства нельзя отнести к пластическим?

- А. Музыка  
 Б. Театр 0,5  
 В. Живопись —  
 Г. Графика —

88

## Задание № 2



Даны слова.

1. Запишите их в таблицу.
2. Дайте им краткое определение, пояснение.
3. Запишите жанр музыкального искусства, объединяющий эти слова.
4. Запишите примеры из музыкального наследия, относящиеся к определенному Вами жанру музыкального искусства.

Поясните свой выбор. Увертюра, ария, хор, сцена, дуэт, акт.

Слова	Определения
Увертюра	Вступление к спектаклю +
Ария	Вокальное произведение +
Хор	Музыкальный ансамбль из певцов +
Сцена	Площадка для представления +
Дуэт	Муз. произ. для двоих. +
Акт	Отдел. часть сценического представ. +
Жанры музыки	Опера +
Примеры музыкального наследия, Пояснение Выбора	Вальсовая флейта. +

85

РАССМОТРИТЕ КАРТИНУ



Заполните таблицу, ответив на вопросы

1. Название картины	Возвращение блудного сына
2. Художник	Рембрандт
3. Жанр изо	Историческая живопись
4. Факты о создании картины (Годы создания, место; где хранится картина; на чём основан сюжет и т.д...)	<p>1) Сюжет взят из Библии.</p> <p>2) Картина писалась 3 раза в 1633, 1636 и 1635 года.</p> <p>3) Образ блудного сына на картине - образ самого Рембрандта</p> <p>В данной момент картина наход. в Эрмитаже в Санкт-Петербурге. Точной даты создания неизвестно, примерно 1666-1669.</p>

по 1 баллу за каждый верный ответ

(108)

Задание № 4

Соотнесите авторов, вид искусства и произведения, проставив в таблице соответствующие буквы и цифры.

Максимальная оценка – 31 балл

А – литература

Б – живопись

В – архитектура

Г – музыка

Д – скульптура

Е – иконопись

Ж – кино

З – театр

1 – Петропавловский собор

2 – «Золушка»

3 – «Евгений Онегин»

4 – «Пер Гюнт»

5 – «Мона Лиза дель Джоконда»

6 – «Ромео и Джульетта»

7 – «Одиссея»

8 – «Медный всадник»

9 – «Ветхозаветная Троица»

10 – «Иван Сусанин»

11 – «Явление Христа народу»

12 – «Лебединое озеро»

13 – Михайловский дворец

Автор	Вид искусства	Произведение	
П.И. Чайковский	Г	12	2
К.И. Росси	В	13	2
С. С. Прокофьев	Г	2	2
А.С. Пушкин	А	3	2
А.А. Иванов	Б	11	2
Гомер	А	7	2
Г. Ибсен	А	4	2
М.И. Глинка	Г	10	2
М. Фальконе	Д	8	2
У. Шекспир	А	6	2
Д. Трезини	В	1	2
А. Рублев	Е	9	2
Э. Григ	Г	4	2
Л. да Винчи	В	5	2

285

Автор	Вид искусства	Произведение
П.И. Чайковский		
К.И. Росси		
С. С. Прокофьев		
А.С. Пушкин		
А.А. Иванов		
Гомер		
Г. Ибсен		
М.И. Глинка		
М. Фальконе		
У. Шекспир		
Д. Трезини		
А. Рублев		
Э. Григ		
Л. да Винчи		

Короosteлева  
95

Всероссийская олимпиада школьников  
Школьный этап по Искусству (мировой художественной культуре) 9 класс  
2023-2024 год

Задание № 1

(575)

Выбери верные ответы на вопросы. Каждый верный ответ - 1 балл

1. Кто такой живописец?

- А. Человек, умеющий быстро писать.
- Б. Писатель, пишущий живые, весёлые рассказы.
- В. Художник. —
- Г. Очень быстро и много рисующий человек.

2. Что такое автопортрет?

- А. Изображение любимого автомобиля
- Б. Портрет человека в автомобиле.
- В. Портрет, часто переезжающий с выставки на выставку.
- Г. Портрет художника, выполненный им самим. +

3. Как называется картина Васнецова?

- А. "Гармонь"
- Б. "Баян" +
- В. "Аккордеон"
- Г. "Флейта"

4. Какой памятник является достопримечательностью Санкт-Петербурга?

- А. "Медный всадник" +
- Б. "Жокей из поместья"
- В. "Весёлый наездник"
- Г. "Морской ковбой"

5. Какой цвет получится, если смешать красный, зелёный и синий цвета?

- А. Коричневый —
- Б. Серый
- В. Чёрный
- Г. Лиловый

6. Цвета радуги подразделяются на тёплые и холодные. Выбери самое верное утверждение.

- А. Тёплые: красный, оранжевый, жёлтый, зелёный. Холодные: голубой, синий, фиолетовый.
- Б. Тёплые: красный, оранжевый, жёлтый, зелёный. Холодные: зелёный, голубой, синий, фиолетовый.
- В. Тёплые: красный, оранжевый, жёлтый. Холодные: зелёный, голубой, синий, фиолетовый. —

7. Как в изобразительном искусстве называется закон, позволяющий показать на картине глубину изображения?

- А. Закон Ома.
- Б. Закон перспективы. —
- В. Закон удалённости.
- Г. Закон глубины.

8. Голландцы, немцы, англичане называют этот жанр "Тихая природа" или "Тихая жизнь", французы и итальянцы говорят "Мёртвая природа".

- А. Пейзаж. +
- Б. Анималистический.
- В. Натюрморт. +
- Г. Батальный.

9. Как называются кусочки цветного непрозрачного стекла для создания мозаики?

- А. Витраж.
- Б. Бисер.
- В. Смальта. +
- Г. Галька.

10. Какой из перечисленных видов искусства нельзя отнести к пластическим?

- А. Музыка
  - Б. Театр
  - В. Живопись
  - Г. Графика
- 0,5 (60)

Задание № 2

Даны слова.

1. Запишите их в таблицу.
2. Дайте им краткое определение, пояснение.
3. Запишите жанр музыкального искусства, объединяющий эти слова.
4. Запишите примеры из музыкального наследия, относящиеся к определенному Вами жанру музыкального искусства.

Поясните свой выбор. **Увертюра, ария, хор, сцена, дуэт, акт.**

Слова	Определения	
Увертюра	вступление к опере	+
ария	это вокальное произведение для одного голоса	+
хор	группа певцов, исполняющая вокальное произведение	+
сцена	площадка, на которой происходит театр. действие	+
дуэт	музыкальное произв. для двух инструментов или двух голосов	+
акт	единичное действие, постановка, действие (в знач.)	+
Жанры музыки	Опера.	+ 2
Примеры музыкального наследия, Пояснение Выбора	„Война и мир“ Сергей Прокофьев. Опера Прокофьева - грандиозное историческое произведение, поставленное на режиссера Льва Толстого.	+

205

**РАССМОТРИТЕ КАРТИНУ**



Заполните таблицу, ответив на вопросы

1. Название картины	„Возвращение блудного сына“ +	
2. Художник	Рембрандт.	+
3. Жанр изо	Портрет	≠
4. Факты о создании картины (Годы создания, место; где хранится картина; на чём основан сюжет и т.д...)	1662г - 1669г. Особа: холст. + На картине изображен финальный эпизод притчи, когда блудный сын возвращается домой. Сейчас картина находится в Амстердаме.	

по 1 баллу за каждый верный ответ

88

**Задание № 4**

Соотнесите авторов, вид искусства и произведения, проставив в таблице соответствующие буквы и цифры.

Максимальная оценка – 31 балл

- |                 |                               |                              |
|-----------------|-------------------------------|------------------------------|
| А – литература  | 1 – Петропавловский собор     | 9 – «Ветхозаветная Троица»   |
| Б – живопись    | 2 – «Золушка»                 | 10 – «Иван Сусанин»          |
| В – архитектура | 3 – «Евгений Онегин»          | 11 – «Явление Христа народу» |
| Г – музыка      | 4 – «Пер Гюнт»                | 12 – «Лебединое озеро»       |
| Д – скульптура  | 5 – «Мона Лиза дель Джоконда» | 13 – Михайловский дворец     |
| Е – иконопись   | 6 – «Ромео и Джульетта»       |                              |
| Ж – кино        | 7 – «Одиссея»                 |                              |
| З – театр       | 8 – «Медный всадник»          |                              |

Автор	Вид искусства	Произведение
П.И. Чайковский	Г	3,12 +
К.И. Росси	В	13 +
С. С. Прокофьев	Г	2,6 +
А.С. Пушкин	А	3,8 +
А.А. Иванов	Б	11 +
Гомер	З	2 -
Г. Ибсен	Д -	4 +
М.И. Глинка	Г	10 +
М. Фальконе	А -	8 +
У. Шекспир	В -	6 +
Д. Трезини	В	1 +
А. Рублев	Е	9 +
Э. Григ	Г	4 +
Л. да Винчи	Б	5 +

10

235



Всероссийская олимпиада школьников  
Школьный этап по Искусству (мировой художественной культуре) 9 класс  
2023-2024 год

## Задание № 1

658

Выбери верные ответы на вопросы. Каждый верный ответ - 1 балл

1. Кто такой живописец?

- А. Человек, умеющий быстро писать.  
Б. Писатель, пишущий живые, весёлые рассказы.  
 В. Художник. +  
Г. Очень быстро и много рисующий человек.

2. Что такое автопортрет?

- А. Изображение любимого автомобиля  
Б. Портрет человека в автомобиле.  
В. Портрет, часто переезжающий с выставки на выставку. +  
 Г. Портрет художника, выполненный им самим.

3. Как называется картина Васнецова?

- А. "Гармонь" +  
 Б. "Баян"  
В. "Аккордеон"  
Г. "Флейта"

4. Какой памятник является достопримечательностью Санкт-Петербурга?

- А. "Медный всадник" +  
Б. "Жокей из поместья"  
В. "Весёлый наездник"  
Г. "Морской ковбой"

5. Какой цвет получится, если смешать красный, зелёный и синий цвета?

- А. Коричневый  
 Б. Серый  
В. Чёрный  
Г. Лиловый 0,5

6. Цвета радуги подразделяются на тёплые и холодные. Выбери самое верное утверждение.

- А. Тёплые: красный, оранжевый, жёлтый, зелёный. Холодные: голубой, синий, фиолетовый.  
Б. Тёплые: красный, оранжевый, жёлтый, зелёный. Холодные: зелёный, голубой, синий, фиолетовый. —  
 В. Тёплые: красный, оранжевый, жёлтый. Холодные: зелёный, голубой, синий, фиолетовый.

7. Как в изобразительном искусстве называется закон, позволяющий показать на картине глубину изображения?

- А. Закон Ома.  
 Б. Закон перспективы. +  
В. Закон удалённости.  
Г. Закон глубины.

8. Голландцы, немцы, англичане называют этот жанр "Тихая природа" или "Тихая жизнь", французы и итальянцы говорят "Мёртвая природа".

- А. Пейзаж.  
Б. Анималистический. +  
 В. Натюрморт.  
Г. Батальный.

9. Как называются кусочки цветного непрозрачного стекла для создания мозаики?

- А. Витраж.  
Б. Бисер. +  
 В. Смальта.  
Г. Галька.

10. Какой из перечисленных видов искусства нельзя отнести к пластическим?

- А. Музыка  
 Б. Театр 0,5  
В. Живопись  
Г. Графика

88

## Задание № 2

Даны слова.

1. Запишите их в таблицу.
  2. Дайте им краткое определение, пояснение.
  3. Запишите жанр музыкального искусства, объединяющий эти слова.
  4. Запишите примеры из музыкального наследия, относящиеся к определенному Вами жанру музыкального искусства.
- Поясните свой выбор. Увертюра, ария, хор, сцена, дуэт, акт.

Слова	Определения
Увертюра	музыкальное вступление к опере, балету. +
Ария	вокальное произведение для одного голоса. +
Хор	организованный коллектив певцов. +
Сцена	площадка, на которой проходит представление. +
Дуэт	музыкальное сочинение для 2 инструментов, голосов. +
Акт	заключительная часть драматического произведения. +
Жанры музыки	Опера +
Примеры музыкального наследия,	Опера - музыкальное спектакль, сценическое действие которого сопровождается пением. Опера объединяет в едином театральном действии хор, арию, дуэт, увертюру.
Пояснение	Примеры опер:
Выбора	"Иван Султанов" Глинки, "Пиковая дама" Чайковского, "Калигула" Прокофьева. Опера представляет собой смесь музыки, вокала, пения и актерского мастерства, и высоко ценится в классическом искусстве.

**РАССМОТРИТЕ КАРТИНУ**



Заполните таблицу, ответив на вопросы

1. Название картины	<i>"Возвращение блудного сына."</i>
2. Художник	<i>Рембрандт Ван Рей</i>
3. Жанр изо	<i>Исторический жанр.</i>
4. Факты о создании картины (Годы создания, место; где хранится картина; на чём основан сюжет и т.д...)	<i>Картина была создана в 1669г. Эшштеде  Стоит картина в музее на новозаветской улице в Блудном сыне. Сын после долгих лет разгульной жизни, скитаний вернулся в родительский дом и сильно раскаивается.</i>

по 1 баллу за каждый верный ответ

10

**Задание № 4**

Состнесите авторов, вид искусства и произведения, проставив в таблице соответствующие буквы и цифры.

Максимальная оценка – 31 балл

А – литература	1 – Петропавловский собор	9 – «Ветхозаветная Троица»
Б – живопись	2 – «Золушка»	10 – «Иван Сусанин»
В – архитектура	3 – «Евгений Онегин»	11 – «Явление Христа народу»
Г – музыка	4 – «Пер Гюнт»	12 – «Лебединое озеро»
Д – скульптура	5 – «Мона Лиза дель Джоконда»	13 – Михайловский дворец
Е – иконопись	6 – «Ромео и Джульетта»	
Ж – кино	7 – «Одиссея»	
З – театр	8 – «Медный всадник»	

Автор	Вид искусства	Произведение	
П.И. Чайковский	З	12	2
К.И. Росси	В	13	2
С. С. Прокофьев	Г	2	2
А.С. Пушкин	А	3	2
А.А. Иванов	Б	11	2
Гомер	А	7	2
Г. Ибсен	З	4	2
М.И. Глинка	З	10	1
М. Фальконе	А	8	2
У. Шекспир	З	6	2
Д. Трезини	В	1	2
А. Рублев	Е	9	2
Э. Григ			0
Л. да Винчи	Б	5	2

255

Всероссийская олимпиада школьников  
Школьный этап по Искусству (мировой художественной культуре) 10 класс  
2023-2024 год

328

Задание № 1

Выбери верные ответы на вопросы. Каждый верный ответ - 1 балл

1. Как в изобразительном искусстве называется закон, позволяющий показать на картине глубину изображения? А. Закон удалённости. Б. Закон Ома. <input checked="" type="checkbox"/> В. Закон перспективы. + Г. Закон глубины.	6. Какой материал используется в качестве основы при художественной росписи в технике "БАТИК"? А. Береста Б. Дерево В. Бумага <input checked="" type="checkbox"/> Г. Ткань +
2. Что из перечисленного не является архитектурным жанром? А. Классицизм Б. Готический В. Барокко <input checked="" type="checkbox"/> Д. Древнеазиатский + Д. Модерн	7. Как в живописи называется вид спереди? А. Экстерьер <input checked="" type="checkbox"/> Б. Анфас + В. Абрис Г. Профиль
3. Какой из перечисленных видов искусства не можно отнести к пластическим? А. Скульптура Б. Театр В. Живопись Г. Графика Д. Музыка -	8. Какая из этих росписей выполняется по металлу? А. Полхов-Майданская Б. Хохломская В. Палехская Г. Гжельская <input checked="" type="checkbox"/> Д. Жостовская +
4. Как называются кусочки цветного непрозрачного стекла для создания мозаики? <input checked="" type="checkbox"/> А. Витраж. Б. Галька. В. Слюда. <input checked="" type="checkbox"/> Г. Смальта. + Д. Бисер.	9. Как называется собрание репродукций картин, изданных в виде книги, часто с пояснительным текстом? А. Портфолио Б. Альманах В. Блокнот <input checked="" type="checkbox"/> Д. Альбом +
5. Как ещё называют эпоху Возрождения? А. Ренессанс Б. Просвещение <input checked="" type="checkbox"/> В. Ренессанс + Г. Новейшее время	10. Видом какого пластического искусства является искусство силуэта? А. Скульптуры Б. Графики <input checked="" type="checkbox"/> В. Живописи Г. Архитектуры

85

Задание № 2

Распределите следующие произведения по эпохе их сочинения.

Группа А: Барокко

Группа Б: Классицизм

1. Й. Гайдн «Семь слов Спасителя на Кресте»
2. И.С. Бах «Страсти по Иоанну»
3. В.А. Моцарт «Реквием»
4. Г. Перселл «Дидона и Эней»
5. К.В. Глюк «Орфей и Эвридика»
6. Л.В. Бетховен Симфония № 3 «Героическая»
7. Ж.-Ф. Рамо «Галантные Индии»
8. Г.Ф. Гендель «Мессия»

Закончите таблицу.

Группа А:	2, 4, 7, 8	
Группа Б:	1, 3, 5, 6	108

За каждый правильный ответ – 1 балл.  
Всего за задание 10 – 8 баллов.

### Задание № 3

РАССМОТРИТЕ КАРТИНУ



Заполните таблицу, ответив на вопросы

1. Назовите картину	
2. Кто автор	Василий Суриков +
3. Жанр	Историческая живопись +

4. Фрагменты о создании картины (дата создания, место где находится картина, на чём основан сюжет и т.д...)	1848-1916	произведение создано благодаря истор. год. в конце XVIII века	В Третьковской галерее в Москве	+
--	-----------	--	---------------------------------	---


по 1 баллу за каждый верный ответ

85

### Задание № 4

Заполни таблицу.

Определи разновидность	1	2	3	4	5	6	7	
Скульп							+	+
Фондрик					+			+
Фондиск			+		<del>+</del>			+
Монумент						+		+
Статуэтка	+							+
Бюст			+					-
Аглант				+				+



65

Всероссийская олимпиада школьников  
Школьный этап по Искусству (мировой художественной культуре) 10 класс  
2023-2024 год

Задание № 1

328

Выбери верные ответы на вопросы. Каждый верный ответ - 1 балл

<p>1. Как в изобразительном искусстве называется закон, позволяющий показать на картине глубину изображения?</p> <p>А. Закон удалённости. Б. Закон Ома. <input checked="" type="checkbox"/> В. Закон перспективы. Г. Закон глубины. +</p>	<p>6. Какой материал используется в качестве основы при художественной росписи в технике "БАТИК"?</p> <p>А. Береста Б. Дерево В. Бумага <input checked="" type="checkbox"/> Г. Ткань +</p>
<p>2. Что из перечисленного не является архитектурным жанром?</p> <p>А. Классицизм Б. Готический В. Барокко <input checked="" type="checkbox"/> Г. Древнеазиатский + Д. Модерн</p>	<p>7. Как в живописи называется вид спереди?</p> <p>А. Экстерьер <input checked="" type="checkbox"/> Б. Анфас + В. Абрис Г. Профиль</p>
<p>3. Какой из перечисленных видов искусства нельзя отнести к пластическим?</p> <p>А. Скульптура Б. Театр В. Живопись Г. Графика <input checked="" type="checkbox"/> Д. Музыка 0,5</p>	<p>8. Какая из этих росписей выполняется по металлу?</p> <p>А. Полхов-Майданская Б. Хохломская В. Палехская Г. Гжельская <input checked="" type="checkbox"/> Д. Жостовская +</p>
<p>4. Как называются кусочки цветного непрозрачного стекла для создания мозаики?</p> <p>А. Витраж. Б. Галька. В. Слюда. <input checked="" type="checkbox"/> Г. Смальта. + Д. Бисер.</p>	<p>9. Как называется собрание репродукций картин, изданных в виде книги, часто с пояснительным текстом?</p> <p>А. Портфолио Б. Альманах В. Блокнот <input checked="" type="checkbox"/> Г. Альбом +</p>
<p>5. Как ещё называют эпоху Возрождения?</p> <p>А. Романтизм Б. Просвещение <input checked="" type="checkbox"/> В. Ренессанс + Г. Новейшее время</p>	<p>10. Видом какого пластического искусства является искусство силуэта?</p> <p>А. Скульптуры <input checked="" type="checkbox"/> Б. Графики + В. Живописи Г. Архитектуры</p>

108

Задание № 2



Распределите следующие произведения по эпохе их сочинения.

Группа А: Барокко

Группа Б: Классицизм

1. Й. Гайдн «Семь слов Спасителя на Кресте»
2. И.С. Бах «Страсти по Иоанну»
3. В.А. Моцарт «Реквием»
4. Г. Перселл «Дидона и Эней»
5. К.В. Глюк «Орфей и Эвридика»
6. Л.В. Бетховен Симфония № 3 «Героическая»
7. Ж.-Ф. Рамо «Галантные Индии»
8. Г.Ф. Гендель «Мессия»

Заполните таблицу.

Группа А:	2478	
Группа Б:	1356	108

За каждый правильный ответ – 1 балл.  
Всего за задание 10 – 8 баллов.

### Задание № 3

#### РАССМОТРИТЕ КАРТИНУ



Заполните таблицу, ответив на вопросы

1. Название картины	«Утро стрелецкой Казни»	+
2. Художник	В. Суриков	+
3. Жанр изо	исторический	+

4. Число созданий картины (годы создания, место; где хранится картина; на чем основан сюжет и т.д...)	1881 г. <i>создания</i> Хранится в Третьяковской галерее.	85
--	--	----

по 1 баллу за каждый верный ответ

### Задание № 4

Заполни таблицу.

Определи рациональность	1	2	3	4	5	6	7	
Статуя							✓	+
Цирюльник					✓			+
Фанатик				✓				-
Монумент			✓					-
Статуэтка	✓							+
Вазон		✓						+
Атлант						✓		-



40

Всероссийская олимпиада  
школьников по искусству  
Холм Аштан  
10 "Б"  
школьный этап

328

Задание №1

- 1) В +
- 2) Г +
- 3) Д +
- 4) Г +
- 5) В +
- 6) Д +
- 7) Б +
- 8) Д +
- 9) Д +
- 10) Б +

10Б

Задание №2

- Грунт А: 2, 4, 7, 8
- Грунт Б: 1, 3, 5, 6

8Б

Задание №3

- 1) "Утро степной жизни" +
- 2) Василий Суриков +
- 3) исторический +
- 4) звериная в являюу. Хранится в Троицкой галерее.

основана на подвешении Мэри I стального буфта и казны  
испелных стрелков + 10Б

Задание №4

- Статуя - 5, памятник - 8, обелиск - 3, монумент - 6
- статуэтка - 7, бюст - 2, пила - 4,

4Б

Всероссийская олимпиада школьников  
Школьный этап по Искусству (мировой художественной культуре) 10 класс  
2023-2024 год

375

Задание № 1

Выбери верные ответы на вопросы. Каждый верный ответ - 1 балл

<p>1. Как в изобразительном искусстве называется закон, позволяющий показать на картине глубину изображения?</p> <p>А. Закон удалённости. Б. Закон Ома. + В. Закон перспективы. + Г. Закон глубины.</p>	<p>6. Какой материал используется в качестве основы при художественной росписи в технике "БАТИК"?</p> <p>А. Береста Б. Дерево + В. Бумага Г. Ткань +</p>
<p>2. Что из перечисленного не является архитектурным жанром?</p> <p>А. Классицизм Б. Готический + В. Барокко + Г. Древнеазиатский + Д. Модерн</p>	<p>7. Как в живописи называется вид спереди?</p> <p>А. Экстерьер Б. Анфас + В. Абрис + Г. Профиль</p>
<p>3. Какой из перечисленных видов искусства нельзя отнести к пластическим?</p> <p>А. Скульптура Б. Театр ? пространственно-временное + В. Живопись + Г. Графика + Д. Музыка ? временное +</p>	<p>8. Какая из этих росписей выполняется по металлу?</p> <p>А. Полхов-Майданская Б. Хохломская В. Палехская + Г. Гжельская + Д. Жостовская +</p>
<p>4. Как называются кусочки цветного непрозрачного стекла для создания мозаики?</p> <p>А. Витраж. Б. Галька. + В. Слюда. + Г. Смальта. + Д. Бисер.</p>	<p>9. Как называется собрание репродукций картин, изданных в виде книги, часто с пояснительным текстом?</p> <p>А. Портфолио Б. Альманах + В. Блокнот + Г. Альбом +</p>
<p>5. Как ещё называют эпоху Возрождения?</p> <p>А. Романтизм Б. Просвещение Г. Ренессанс + Г. Новейшее время +</p>	<p>10. Видом какого пластического искусства является искусство силуэта?</p> <p>А. Скульптуры Б. Графики + В. Живописи + Г. Архитектуры +</p>

105

Задание № 2

Распределите следующие произведения по эпохе их сочинения.

Группа А: Барокко

Группа Б: Классицизм

1. Й. Гайдн «Семь слов Спасителя на Кресте»
2. И.С. Бах «Страсти по Иоанну»
3. В.А. Моцарт «Реквием»
4. Г. Перселл «Дидона и Эней»
5. К.В. Глюк «Орфей и Эвридика»
6. Л.В. Бетховен Симфония № 3 «Героическая»
7. Ж.-Ф. Рамо «Галантные Индии»
8. Г.Ф. Гендель «Мессия»

Заполните таблицу.

Группа А:	2, 4, 7, 8	+	
Группа Б:	1, 3, 5, 6	+	100

За каждый правильный ответ – 1 балл.

Всего за задание 10 – 8 баллов.

### Задание № 3

#### РАССМОТРИТЕ КАРТИНУ



Заполните таблицу, ответив на вопросы

1. Название картины	„Утро стрелецкой казни“	+
2. Художник	Василий Иванович Суриков	+
3. Жанр живописи	историческая живопись	+

4. Заполните о создании картины (дата создания, место где хранится картина; на чём основан сюжет и т.д...)	Завершена в 1881 году. Хранится в Государствен- ной Третьяковской галерее в Москве. Тема произ- ведения связана с историческими событиями конца XVII века - походом Петра I стрельцов бунта 1698 года и казнью мятежных стрельцов Первые эскизы для будущей картины "Утро стре- лцкой казни" были созданы в 1878 году, а вся рабо- та над полотном закончена около трех лет
---	--


по 1 баллу за каждый верный ответ

108

### Задание № 4

Заполни таблицу.

Средели рациональность	1	2	3	4	5	6	7
Статуя							+
Памятник					+		
Обелиск			+				
Монумент						+	
Статуэтка	+						
Бюст		+					
Авант				+			



78

Менсёв А  
10 Б

Всероссийская олимпиада школьников  
Школьный этап по Искусству (мировой художественной культуре) 10 класс  
2023-2024 год

Задание № 1

375

Выбери верные ответы на вопросы. Каждый верный ответ - 1 балл

<p>1. Как в изобразительном искусстве называется закон, позволяющий показать на картине глубину изображения?</p> <p>А. Закон удалённости. Б. Закон Ома. <input checked="" type="checkbox"/> В. Закон перспективы. Г. Закон глубины.</p> <p>2. Что из перечисленного не является архитектурным жанром?</p> <p>А. Классицизм Б. Готический В. Барокко <input checked="" type="checkbox"/> Г. Древнеазиатский Д. Модерн</p> <p>3. Какой из перечисленных видов искусства нельзя отнести к пластическим?</p> <p>А. Скульптура Б. Театр В. Живопись Г. Графика <input checked="" type="checkbox"/> Д. Музыка</p> <p>4. Как называются кусочки цветного непрозрачного стекла для создания мозаики?</p> <p>А. Витраж. Б. Галька. В. Слюда. <input checked="" type="checkbox"/> Г. Смальта. Д. Бисер.</p> <p>5. Как ещё называют эпоху Возрождения?</p> <p>А. Романтизм Б. Просвещение <input checked="" type="checkbox"/> В. Ренессанс Г. Новейшее время</p>	<p>6. Какой материал используется в качестве основы при художественной росписи в технике "БАТИК"?</p> <p>А. Береста Б. Дерево В. Бумага <input checked="" type="checkbox"/> Г. Ткань</p> <p>7. Как в живописи называется вид спереди?</p> <p>А. Экстерьер <input checked="" type="checkbox"/> Б. Анфас В. Абрис Г. Профиль</p> <p>8. Какая из этих росписей выполняется по металлу?</p> <p>А. Полхов-Майданская Б. Хохломская В. Палехская Г. Гжельская <input checked="" type="checkbox"/> Д. Жостовская</p> <p>9. Как называется собрание репродукций картин, изданных в виде книги, часто с пояснительным текстом?</p> <p>А. Портфолио Б. Альманах В. Блокнот <input checked="" type="checkbox"/> Г. Альбом</p> <p>10. Видом какого пластического искусства является искусство силуэта?</p> <p>А. Скульптуры <input checked="" type="checkbox"/> Б. Графики В. Живописи Г. Архитектуры</p>
---	---

105

Задание № 2



Распределите следующие произведения по эпохе их сочинения.

Группа А: Барокко

Группа Б: Классицизм

1. Й. Гайдн «Семь слов Спасителя на Кресте»
  2. И.С. Бах «Страсти по Иоанну»
  3. В.А. Моцарт «Реквием»
  4. Г. Перселл «Дидона и Эней»
  5. К.В. Глюк «Орфей и Эвридика»
  6. Л.В. Бетховен Симфония № 3 «Героическая»
  7. Ж.-Ф. Рамо «Галантные Индии»
  8. Г.Ф. Гендель «Мессия»
- Заполните таблицу.

Группа А:	2, 7, 8, 4
Группа Б:	1, 3, 5, 6

За каждый правильный ответ – 1 балл.  
Всего за задание 10 – 8 баллов.

108

### Задание № 3

#### РАССМОТРИТЕ КАРТИНУ



Заполните таблицу, ответив на вопросы

1. Название картины	Утро стрелецкой казни
2. Художник	В.И. Суриков
3. Жанр изо	исторический живопись

4. Назови о селении картины (Годы создания, место, где хранится картина; История основан селения и т.д...)	Создана 1881г хранится в Гос. Третьяковской гал. в Москве. Картина посвящена Казань епископату после Божия 1698г.
---	---


по 1 баллу за каждый верный ответ

108

### Задание № 4

Заполни таблицу.

Определи разновидность	1	2	3	4	5	6	7
Скульптура							+
Памятник					+		
Скульптура			+				
Монумент						+	
Скульптура	+						
Скульптура		+					
Атлет				+			



75

Всероссийская олимпиада школьников  
Школьный этап по Искусству (мировой художественной культуре) 11 класс  
2023-2024 год

Задание № 1

308

Выбери верные ответы на вопросы.

1. Как ещё называют эпоху Возрождения?

- А. Ренессанс
- Б. Просвещение
- В. Романтизм
- Г. Новейшее время

2. Как называется собрание репродукций картин, изданных в виде книги, часто с пояснительным текстом?

- А. Портфолио
- Б. Альбом
- В. Блокнот
- Г. Альманах

3. Какой из перечисленных видов искусства нельзя отнести к пластическим?

- А. Музыка
- Б. Графика
- В. Живопись
- Г. Театр
- Д. Скульптура

4. Как в живописи называется вид спереди?

- А. Анфас
- Б. Экстерьер
- В. Абрис
- Г. Профиль

5. Голландцы, немцы, англичане называют этот жанр "Тихая природа" или "Тихая жизнь", французы и итальянцы говорят "Мёртвая природа".

- А. Анималистический.
- Б. Пейзаж.
- В. Батальный.
- Г. Натюрморт.

6. Что из перечисленного не является жанром изобразительного искусства?

- А. Готический
- Б. Портрет
- В. Пейзаж
- Г. Ботанический
- Д. Анималистический
- Е. Библейский
- Ж. Барокко
- З. Натюрморт

7. Как по-другому называется картина Леонардо да Винчи "Мона Лиза"?

- А. "Джоконда"
- Б. "Диана"
- В. "Олимпия"
- Г. "Юдифь"

8. Кто из художников родился раньше?

- А. Винсент Ван Гог
- Б. Сальвадор Дали
- В. Рафаэль Санти
- Г. Питер Пауль Рубенс

9. Художник, автор картины "Боярыня Морозова"

- А. Серов
- Б. Шишкин
- В. Суриков
- Г. Левитан

10. Какому архитектурному стилю свойственны признаки:

величественность, религиозность, устремлённость ввысь, наличие скульптур, лепнины, стрельчатых композиций, витражей на окнах...

- А. Барокко
- Б. Готика
- В. Классицизм
- Г. Древнеегипетский

98

## Задание № 2

Перед вами названия музыкальных произведений:

«Ленинградская», «Реквием», «Ромео и Джульетта», «Золушка», «Форель», «Детский уголок».

- 1). Определите жанровую принадлежность каждого из них.
- 2). Укажите номер иллюстрации с изображением автора.
- 3). Приведите пример произведения и его автора в оставшейся строке.
- 4). Заполните таблицу

Музыкальный жанр	Название произведения	Номер иллюстрации с изображением автора
Сюита	ДЕТСКИЙ УГОЛОК	А.К. ДЕБЮССИ +
Симфония	ЛЕНИНГРАДСКАЯ	Д.Д. ШОСТАКОВИЧ +
Опера	РОМЕО И ДЖУЛЬЕТА	Ш.Ф. ГУНО +
Балет	РОМЕО И ДЖУЛЬЕТА, ЗОЛУШКА	С.С. ПРОКОФЬЕВ 05
Месса	РЕКВИЕМ	В.А. МОЦАРТ +
Песня	ФОРЕЛЬ	Ф.П. ШУБЕРТ +
Серенада		

68



2.

Д.Д. Шостакович



3.

Ш.Ф. Гуно



В.А. Моцарт



4.

С.С. Прокофьев



5.

Ф.П. Шуберт



6.

А.К. Дебюсси

## Задание № 3

**РАССМОТРИТЕ КАРТИНУ**



Заполните таблицу, ответив на вопросы


1. Название картины	Последний день Помпеи	+
2. Художник	Карл Бруннер	+
3. Жанр изо	Исторический сюжет	+
4. Факты о создании картины (Годы создания, место; где хранится картина; на чём основан сюжет и т.д...)	Эта картина создана 1827-1833, и место где её создали в Италии, на данный момент картина находится в Государственном Русском Музее Санкт-Петербурга, основан сюжет картины о древнеримской трагедии шибби старинного города Помпеи.	+

по 1 баллу за каждый верный ответ

10

#### Задание № 4

На фотографиях памятники древних цивилизаций. Назвать их и страны, в которых они находились. (6 баллов)



Заполни таблицу

1	РИМ	+	2	ГРЕЦИЯ	+	3	ЕГИПЕТ	+
	Коллизей			Парфенон.	-		Бюст царицы Нефертити	+

+

-

58

Гульзага НВ

Всероссийская олимпиада школьников  
Школьный этап по Искусству (мировой художественной культуре) 11 класс  
2023-2024 год

308

Задание № 1

Выбери верные ответы на вопросы.

1. Как ещё называют эпоху Возрождения?

- А. Ренессанс
- Б. Просвещение
- В. Романтизм
- Г. Новейшее время

+

2. Как называется собрание репродукций картин, изданных в виде книги, часто с пояснительным текстом?

- А. Портфолио
- Б. Альбом
- В. Блокнот
- Г. Альманах

+

3. Какой из перечисленных видов искусства нельзя отнести к пластическим?

- А. Музыка
- Б. Графика
- В. Живопись
- Г. Театр
- Д. Скульптура

0,5

4. Как в живописи называется вид спереди?

- А. Анфас
- Б. Экстерьер
- В. Абрис
- Г. Профиль

+

5. Голландцы, немцы, англичане называют этот жанр "Тихая природа" или "Тихая жизнь", французы и итальянцы говорят "Мёртвая природа".

- А. Анималистический.
- Б. Пейзаж.
- В. Батальный.
- Г. Натюрморт.

+

6. Что из перечисленного не является жанром изобразительного искусства?

- А. Готический
- Б. Портрет
- В. Пейзаж
- Г. Ботанический
- Д. Анималистический
- Е. Библейский
- Ж. Барокко
- З. Натюрморт

0,5

7. Как по-другому называется картина Леонардо да Винчи "Мона Лиза"?

- А. "Джоконда"
- Б. "Диана"
- В. "Олимпия"
- Г. "Юдифь"

+

8. Кто из художников родился раньше?

- А. Винсент Ван Гог
- Б. Сальвадор Дали
- В. Рафаэль Санти
- Г. Питер Пауль Рубенс

+

9. Художник, автор картины "Боярыня Морозова"

- А. Серов
- Б. Шишкин
- В. Суриков
- Г. Левитан

+

10. Какому архитектурному стилю свойственны признаки:

величественность, религиозность, устремлённость ввысь, наличие скульптур, лепнины, стрельчатых композиций, витражей на окнах...

- А. Барокко
- Б. Готика
- В. Классицизм
- Г. Древнеегипетский

+

95

## Задание № 2

Перед вами названия музыкальных произведений:

«Ленинградская», «Реквием», «Ромео и Джульетта», «Золушка», «Форель», «Детский уголок».

- 1). Определите жанровую принадлежность каждого из них.
- 2). Укажите номер иллюстрации с изображением автора.
- 3). Приведите пример произведения и его автора в оставшейся строке.
- 4). Заполните таблицу

Музыкальный жанр	Название произведения	Номер иллюстрации с изображением автора
Сюита	Детский уголок	6 +
Симфония	Ленинградская	1 +
Опера	Ромео и Джульетта	2 +
Балет	Золушка	4 +
Месса	Реквием	3 +
Песня	Форель	5 +
Серенада		

120



2.

Д.Д. Шостакович



3.

Ш.Ф. Гуно



В.А. Моцарт



4.

С.С. Прокофьев



5.

Ф.П. Шуберт




6.

А.К. Дебюсси

## Задание № 3

**РАССМОТРИТЕ КАРТИНУ**



Заполните таблицу, ответив на вопросы


1. Название картины	Последний день Помпеи	+
2. Художник	сюжет из истории	+
3. Жанр изо	Бриггс	+
4. Факты о создании картины (Годы создания, место; где хранится картина; на чём основан сюжет и т.д...)	Российский художник посетил это место перед написанием картины	+

(68)

по 1 баллу за каждый верный ответ

### Задание № 4

На фотографиях памятники древних цивилизаций. Назвать их и страны, в которых они находились. (6 баллов)



Заполни таблицу

1	2	3
Рим	Греция	Египет

(36)



348

Задание № 1

Выбери верные ответы на вопросы.

<p>1. Как ещё называют эпоху Возрождения?</p> <p><input checked="" type="radio"/> А. Ренессанс Б. Просвещение В. Романтизм Г. Новейшее время</p> <p style="text-align: right;">+</p>	<p>6. Что из перечисленного не является жанром изобразительного искусства?</p> <p>А. Готический Б. Портрет В. Пейзаж Г. Ботанический Д. Анималистический Е. Библейский <input checked="" type="radio"/> Ж. Барокко З. Натюрморт</p> <p style="text-align: right;">0,5</p>
<p>2. Как называется собрание репродукций картин, изданных в виде книги, часто с пояснительным текстом?</p> <p>А. Портфолио <input checked="" type="radio"/> Б. Альбом В. Блокнот Г. Альманах</p> <p style="text-align: right;">+</p>	<p>7. Как по-другому называется картина Леонардо да Винчи "Мона Лиза"?</p> <p><input checked="" type="radio"/> А. "Джоконда" Б. "Диана" В. "Олимпия" Г. "Юдифь"</p> <p style="text-align: right;">+</p>
<p>3. Какой из перечисленных видов искусства нельзя отнести к пластическим?</p> <p><input checked="" type="radio"/> А. Музыка Б. Графика В. Живопись Г. Театр Д. Скульптура</p> <p style="text-align: right;">0,5</p>	<p>8. Кто из художников родился раньше?</p> <p>А. Винсент Ван Гог Б. Сальвадор Дали <input checked="" type="radio"/> В. Рафаэль Санти Г. Питер Пауль Рубенс</p> <p style="text-align: right;">+</p>
<p>4. Как в живописи называется вид спереди?</p> <p><input checked="" type="radio"/> А. Анфас Б. Экстерьер В. Абрис Г. Профиль</p> <p style="text-align: right;">+</p>	<p>9. Художник, автор картины "Боярыня Морозова"</p> <p>А. Серов Б. Шишкин <input checked="" type="radio"/> В. Суриков Г. Левитан</p> <p style="text-align: right;">+</p>
<p>5. Голландцы, немцы, англичане называют этот жанр "Тихая природа" или "Тихая жизнь", французы и итальянцы говорят "Мёртвая природа".</p> <p>А. Анималистический. Б. Пейзаж. В. Батальный. <input checked="" type="radio"/> Г. Натюрморт.</p> <p style="text-align: right;">+</p>	<p>10. Какому архитектурному стилю свойственны признаки: величественность, религиозность, устремлённость ввысь, наличие скульптур, лепнины, стрельчатых композиций, витражей на окнах...</p> <p>А. Барокко <input checked="" type="radio"/> Б. Готика В. Классицизм Г. Древнеегипетский</p> <p style="text-align: right;">5 +</p>

95

## Задание № 2

Перед вами названия музыкальных произведений:

«Ленинградская», «Реквием», «Ромео и Джульетта», «Золушка», «Форель», «Детский уголок».

- 1). Определите жанровую принадлежность каждого из них.
- 2). Укажите номер иллюстрации с изображением автора.
- 3). Приведите пример произведения и его автора в оставшейся строке.
- 4). Заполните таблицу

Музыкальный жанр	Название произведения	Номер иллюстрации с изображением автора
Сюита	детский уголок	6 +
Симфония	ленинградская	1 +
Опера	Ромео и Джульетта	2 +
Балет	Золушка	4 +
Месса	Реквием	3 +
Песня	Форель	5 +
Серенада	шп. коз. серенада	3 +



2.

Д. Д. Шостакович



3.

Ш. Ф. Гуно



В. А. Моцарт

148



4.

С. С. Прокофьев



5.

Ф. П. Шуберт




6.

А. К. Дебюсси

## Задание № 3

**РАССМОТРИТЕ КАРТИНУ**



Заполните таблицу, ответив на вопросы


1. Название картины	Последний день Помпеи
2. Художник	Карл Брюллов
3. Жанр изо	Историческая живопись
4. Факты о создании картины (Годы создания, место; где хранится картина; на чём основан сюжет и т.д...)	1833, хранится в Государственном Русском музее в Санкт-Петербурге,

95

по 1 баллу за каждый верный ответ

#### Задание № 4

На фотографиях памятники древних цивилизаций. Назвать их и страны, в которых они находились. (6 баллов)



Заполни таблицу

1	2	3
Коллизей		Царица Нефертити

1

0

1

25

# Свиридовой Мариины

5А



Школьный этап всероссийской олимпиады школьников  
2023-2024 учебного года по основам безопасности жизнедеятельности

5-6 классы

ТЕОРЕТИЧЕСКИЙ ТУР

Продолжительность 90 минут

## Задание 1. «Правила дорожного движения»

Соотнесите названия знаков с их изображением, записав в пустые поля правильный ответ.

Максимальная оценка за правильно выполненное задание - 6 баллов

	Пешеходный переход	+
	Падение камней	+
	Место остановки трамвая	+
	Конец жилой зоны Автомобилями	+
	(Парковка) Место стоянки	+
	Осторожно! Дети На дороге могут играть дети. Автомобилями	+

### Варианты:

Автомобилями, Место стоянки, Пешеходный переход, Падение камней, Конец жилой зоны, Место остановки трамвая

## Задание 2. «Безопасность в природной среде»

Определите название гриба, исходя из его описания.

Максимальная оценка за правильно выполненное задание - 10 баллов

Намаки светлые, червивые, по цвету похожи на опавшие листья дерева, под которым они

а) Шляпки этих грибов по цвету похожи на опавшие листья дерева, под которым они чаще всего встречаются - подосиновики

б) Живут эти грибы на деревьях или на пнях. Живут большими компаниями. Иногда с одного

дерева или пня можно собрать целое лукошко - опята  
в) Мякоть этого гриба никогда не темнеет, за что он получил свое название.

Это парь грибов - дубовик

г) Этот гриб является лекарством для лесей. Он ядовитый, но очень красивый - мухомор

д) Растёт в хвойных и лиственных лесах группами. Название свое получил за характерную яркую окраску, единственный гриб, который не мнётся и не крошится - лисички

## Задание 3. «Правила дорожного движения»

Установите соответствие между сигналами регулировщика и их значением для пешехода.

Максимальная оценка за правильно выполненное задание - 8 баллов

Сигналы регулировщика	Значение для пешехода	
1. Правая рука вытянута вперед	А. Со стороны груди и спины движение всех транспортных средств и пешеходов запрещено.	
2. Руки вытянуты в стороны или опущены	Б. Пешеходам разрешено переходить проезжую часть за спиной регулировщика В. Движение всех транспортных средств и пешеходов запрещено по всей проезжей части за спиной регулировщика	
3. Рука поднята вверх	В. Движение всех транспортных средств и пешеходов запрещено во всех направлениях Г. Со стороны левого и правого бока пешеходам разрешено переходить проезжую часть	
ОТВЕТ		
1	2	3
Г	А	Б

## Задание 4. «Международная кодовая таблица сигналов бедствия «земля-воздух».

Задание 4. «Международная кодовая таблица сигналов бедствия «земля-воздух».

Укажите соответствие изображения знаков Международной кодовой таблицы сигналов бедствия «земля-воздух» с его описанием. Ответ запишите в таблицу.

-	X	Не последнюю помощь, двигаться.
+	L	Самолет сильно поврежден
+	V	Требуется помощь.
+	N	Нет.
+	Y	Да.
+	LL	Все в порядке
+	K	Укажите направление следования

F

Нужна продовольствие и вода.

Максимальная оценка за правильно выполненное задание - 8 баллов

Варианты:

- Все в порядке
- Следовать дальше не в состоянии
- Нужны оружие и боеприпасы
- Самолет сильно поврежден
- Укажите направление следования Нет
- Да
- Нужны продовольствие и вода

Задание 5. «Безопасность человека»

Максимальная оценка за правильно выполненное задание - 4 балла

Из предложенных вариантов выберите и вставьте пропущенные слова, подходящие по смыслу. Среда обитания — среда жизни и производственной деятельности человека, окружающей каждого человека природный и созданный им материальный мир.

Варианты: деятельности, мир, жизни, человека.

Задание 6. «ЗОЖ»

Соотнесите какие из предложенных фраз относятся к спорту, а какие к избеганию конфликта. Ответ запишите.

Максимальная оценка за правильно выполненное задание - 6 баллов

Вот глупый.	ссора
Сегодня ты.	избегание конфликта
Давай попробуем вместе...	избегание конфликта
Сколько можно жрать...	ссора
Мне кажется.	избегание конфликта
Ты дури и врунишка.	ссора

Задание 7. «Основы первой помощи»

Определите для чего применяется каждое из указанных средств из аптечки.

Максимальная оценка за правильно выполненное задание - 10 баллов

Средства из аптечки	Для чего может пригодиться
Резиновые перчатки	Защита от заражения и заражения.
Лейкопластырь бактерицидный	Заклейка царапин, порезов, ссадин.
Стерильные марлевые салфетки (или бинты)	Наложение повязок.
Ножницы	Отрезание бинта.

Варианты:

1. Заклейка царапин, порезов, ссадин.

2. Защита от заражения. Отрезание бинта или лейкопластыря, Наложение повязки, Защита от заражения

Задание 8. «Туризм и выживание в природной среде»

Укажите соответствие снаряжения туриста по его описанию.

Максимальная оценка за правильно выполненное задание - 8 баллов

Компас, карта	ориентирование.
Спички, нож, пила, посуда	разведение костра.
Рюкзак	переноска вещей.
Средство от насекомых, аптечка	защита от насекомых

8

Варианты:

1. Для разведения костра и приготовления пищи
2. Для защиты от насекомых, на случай получения травм
3. Для переноски вещей
4. Для ориентирования на местности

ТЕСТОВЫЕ ЗАДАНИЯ

Определите один правильный ответ

За каждый правильный ответ начисляется по 1 баллу

20

1. От какого места начинается дорожное движение для школьника? а) от подъезда дома;

- б) от выхода на тротуар;
- в) от пешеходного перехода;
- г) от выхода со двора.

2. Можно ли впускать в квартиру посторонних, если они представляются сотрудниками ремонтной службы, а вы один (одна) дома?

- а) можно;
- б) нельзя;
- в) можно, если они предупредили по телефону;
- г) можно, если они показали удостоверение.

3. Безопасно ли тушить электрические приборы, находящиеся под напряжением?

- а) да, всегда;
- б) да, если напряжение ниже 220 V;
- в) нет;
- г) да, если напряжение ниже 230 V.

4. С какой стороны безопасно обходить трамвай, стоящий на остановке?

- а) спереди;
- б) сзади;
- в) всё равно;
- г) обход запрещен.

5. Где запрещается движение велосипедистам младше 14 лет?

- а) по пешеходным зонам;
- б) по тротуарам;
- в) по полосе для велосипедистов;
- г) по велосодорожкам.

6. В какую сторону следует идти, если в метро началась суматоха или вы заметили активное передвижение сотрудников спецслужб в определенном направлении?

- а) идти в противоположную сторону от сотрудников спецслужб;  
б) идти вместе с сотрудницами спецслужб;  
в) идти в центр зала;  
г) идти к выходу.

7. Какое расстояние от глаз человека до книги является оптимальным с гигиенической точки зрения?

- а) 10-20 см;  
б) 20-25 см;  
в) 30-35 см;  
г) 45-50 см.

8. Каким номером можно воспользоваться для вызова скорой медицинской помощи?

- а) 013;  
б) 933;  
в) 104;  
г) 112.

9. Как называется угол между направлением на север и направлением на любой предмет?

- а) биссектриса;  
б) обратный азимут;  
в) азимут.

10. Если вы стоите лицом к Полярной звезде, где будет находиться север, юг, запад, восток?

- а) север - впереди, юг - за спиной, запад - слева, восток - справа;  
б) север - за спиной, юг - впереди, запад - слева, восток - справа;  
в) север - впереди, юг - за спиной, запад - справа, восток - слева.

11. Что значит автономное существование?

- а) когда человек «один на один» с природой;  
б) отдых на городском пляже в большой компании;  
в) выезд за границу с друзьями;  
г) путешествие с семьей на корабле;  
д) поход в ближайший магазин.

12. Стороны света можно определить по:

- а) манометру;  
б) компасу;  
в) термометру.

13. Признаки отравления бытовым газом?

- а) ощущение сонливости, тошнота, рвота, ощущения удушья;  
б) температура, рвота, боли в животе, тошнота;  
в) температура, ощущения удушья, боли в животе, тошнота.

14. В каком году впервые были приняты правила дорожного движения?

- а) 1925;  
б) 1930;  
в) 1920.

15. Как называются пересечение и соединение дорог?

- а) перекрестки;  
б) переходы;  
в) развилки.

16. Ночью определить стороны света можно по Полярной звезде. Перпендикуляр проведенный к земле от Полярной звезды, покажет Вам направление на:

- а) север;

- б) юг;  
в) запад;  
г) восток.

17. День солидарности в борьбе с терроризмом отмечается:

- а) 3 сентября  
б) 2 сентября  
в) 8 сентября  
г) 1 сентября

18. В какой период дня клещи наиболее активны?

- а) утром и вечером;  
б) ночью и днем;  
в) всегда.

19. Что из перечисленного нельзя прикладывать к месту ожога?

- а) детский крем;  
б) подсолнечное масло;  
в) сливочное масло;  
г) все перечисленное.

20. Назовите международный сигнал бедствия:

- а) SOS;  
б) DOS;  
в) KOS;  
г) SOC;  
д) KOS.

Определите несколько правильных ответов

21. Какие значения имеет зелёный мигающий сигнал светофора для пешехода?

- а) разрешает движение;  
б) информирует, что время разрешения движения истекает;  
в) информирует, что время запрещения движения истекает;  
г) информирует о наличии нерегулируемого перекрестка;  
д) запрещает движение.

22. Укажите направления, угол между которыми является азимутом:

- а) на юг;  
б) на ориентир;  
в) на север;  
г) на запад;  
д) на световой ориентир.

23. Что из указанного относится к признакам сохранения плохой погоды?

- а) ласточки летают высоко над землей;  
б) сплошная облачность;  
в) ночью тихо и прохладно;  
г) низкое атмосферное давление.

24. Какие предметы увеличивают плавучесть человека?

- а) спасательный круг;  
б) лодка;  
в) спасательный жилет;  
г) плот.

25. Назовите, какие из указанных ниже костров относятся к жаровым:

- а) шалаш;
- б) звездный;
- в) таежный;
- г) решетка.

26. Где безопаснее находиться во время землетрясения?

- а) возле оконного проёма;
- б) в широком коридоре;
- в) в узком коридоре;
- г) в центре комнаты;
- д) в дверном проёме.

27. Что может являться источником ЧС техногенного характера?

- а) аварии;
- б) эпизодия;
- в) эпидемия;
- г) магнитные бури;
- д) катастрофы.

28. Какие из видов закалывания являются местными?

- а) обливание тела;
- б) обливание стоп;
- в) купание;
- г) обливание кистей;
- д) солнечные ванны.

29. Какие действия необходимо выполнить для оказания первой помощи при носовом кровотечении?

- а) наклонить голову вперёд;
- б) запрокинуть голову назад;
- в) повернуть голову набок;
- г) приложить холод к переносице;
- д) приложить тепло к переносице.

30. Какими средствами можно воспользоваться в качестве подручных для временной остановки артериального кровотечения?

- а) электрическим проводом;
- б) брючным ремнём;
- в) вёрвкой;
- г) проволокой;
- д) широким куском плотной ткани.

Школьный этап всероссийской олимпиады школьников  
2023-2024 учебного года по основам безопасности жизнедеятельности  
5-6 классы  
ТЕОРЕТИЧЕСКИЙ ТУР  
Продолжительность 90 минут

79  
6

Задание 1. «Правила дорожного движения»

Соотнесите названия знаков с их изображением, записав в пустые поля правильный ответ.

Максимальная оценка за правильно выполненное задание - 6 баллов

	пешеходный переход	+
	падение камней	+
	место остановки трамвая	+
	автомобилистравм	+
	место стоянки (парковки)	+
	конец жилой зоны	+

Варианты:  
- Автомобилистравм - Место стоянки - Пешеходный переход - Падение камней - Конец жилой зоны - Место остановки трамвая

Задание 2. «Безопасность в природной среде»

Определите название гриба, исходя из его описания.

Максимальная оценка за правильно выполненное задание - 10 баллов

Наши соседи в ершбавляюльету похожи на опавшие листья дерева, под которым они  
а) Шляпки этих грибов по цвету похожи на опавшие листья дерева, под которым они чаще всего встречаются - подосиновик  
б) Живут эти грибы на деревьях или на пнях. Живут большими компаниями. Иногда с одного

10

дерева или пня можно собрать целое лукошко - опята  
в) Мякоть этого гриба никогда не темнеет, за что он получил своё название. Это царь грибов - белый гриб  
г) Этот гриб является лекарством или дробей. Он ядовитый, но очень красивый - мухомор  
д) Растёт в хвойных и лиственных лесах группами. Название свое получил за характерную яркую окраску, единственный гриб, который не млеётся и не крошится - маслята

Задание 3. «Правила дорожного движения»

Установите соответствие между сигналами регулировщика и их значением для пешехода.

Максимальная оценка за правильно выполненное задание - 8 баллов

Сигналы регулировщика	Значение для пешехода	
1. Правая рука вытянута вперед	А. Со стороны груди и спины движение всех транспортных средств и пешеходов запрещено.	
2. Руки вытянуты в стороны или опущены	Б. Пешеходам разрешено переходить проезжую часть за спиной регулировщика. В. Движением всех транспортных средств и пешеходов запрещено переходить проезжую часть за спиной регулировщика.	
3. Рука поднята вверх	В. Движение всех транспортных средств и пешеходов запрещено во всех направлениях. Г. Со стороны левого и правого бока пешеходам разрешено переходить проезжую часть.	
ОТВЕТ		
1	2	3
Б	Г, А	В

Задание 4. «Международная кодовая таблица сигналов бедствия «земля-воздух».

Задание 4. «Международная кодовая таблица сигналов бедствия «земля-воздух».

Укажите соответствие изображения знаков Международной кодовой таблицы сигналов бедствия «земля-воздух» с его описанием. Ответ запишите в таблицу.

+	X	Неспособен двигаться
+	L7	самолет сильно поврежден
+	V	требуется помощь
+	N	нет
+	Y	да
+	LL	все в порядке
+	K	укажите направление следования

8



F

нужна пища и вода

Максимальная оценка за правильно выполненное задание - 8 баллов

Варианты:

- Все в порядке
- Следовать дальше не в состоянии
- Нужны оружие и боеприпасы
- Самолет сильно поврежден
- Укажите направление следования Нет
- Да
- Нужны продовольствие и вода

Задание 5. «Безопасность человека»

Максимальная оценка за правильно выполненное задание - 4 балла

Из предложенных вариантов выберите и вставьте пропущенные слова, подходящие по смыслу. Среда обитания — среда деятельности и производственной жизни человека человека, окружающий мир природный и созданный им материальный материальный объект

Варианты: деятельности, мир, жизни, человека.

Задание 6. «ЗОЖ»

Соотнесите какие из предложенных фраз относятся к ссоре, а какие к избеганию конфликта. Ответ запишите.

Максимальная оценка за правильно выполненное задание - 6 баллов

Вот глупый.	ссора	+
Сегодня ты.	избегание конфликта	+
Давай попробуем вместе...	избегание конфликта	+
Сколько можно жрать...	ссора	+
Мне кажется.	избегание конфликта	+
Ты лгун и врунишка..	ссора	+

Задание 7: «Основы первой помощи»

Определите для чего применяется каждое из указанных средств из аптечки.

Максимальная оценка за правильно выполненное задание - 10 баллов

Средства из аптечки	Для чего может пригодиться
Резиновые перчатки	защита от грязи,
Лейкопластырь бактерицидный	защита от заражения
Стерильные марлевые салфетки (или бинты)	заклейка царапин, порезов
Ножницы	ссадин
	наложение повязки
	отрезание бинта или лейкопластыря

Варианты:

1. Заклейка царапин, порезов, ссадин,

2. Защита от загрязнения, Отрезание бинта или лейкопластыря, Наложение повязки, Защита от заражения

Задание 8. «Туризм и выживание в природной среде»

Укажите соответствие снаряжения туриста по его описанию.

Максимальная оценка за правильно выполненное задание - 8 баллов

→	Компас, карта	для ориентирования на местности
→	Спички, нож, пила, посуда	для разведения костра и приготовления пищи
+	Рюкзак	для переноски вещей
+	Средство от насекомых, аптечка	для защиты от насекомых на случай получения травм.

Варианты:

1. Для разведения костра и приготовления пищи
2. Для защиты от насекомых, на случай получения травм
3. Для переноски вещей
4. Для ориентирования на местности

ТЕСТОВЫЕ ЗАДАНИЯ

Определите один правильный ответ

За каждый правильный ответ начисляется по 1 баллу

1. От какого места начинается дорожное движение для школьника?  а) от подъезда дома;
- б) от выхода на тротуар;
- в) от пешеходного перехода;
- г) от выхода со двора.
2. Можно ли впускать в квартиру посторонних, если они представляются сотрудниками ремонтной службы, а вы один (одна) дома?
  - а) можно;
  - б) нельзя;
  - в) можно, если они предупредили по телефону;
  - г) можно, если они показали удостоверение.
3. Безопасно ли тушить электрические приборы, находящиеся под напряжением?
  - а) да, всегда;
  - б) да, если напряжение ниже 220 V;
  - в) нет;
  - г) да, если напряжение ниже 230 V.
4. С какой стороны безопасно обходить трамвай, стоящий на остановке?
  - а) спереди;
  - б) сзади.
  - в) всё равно;
  - г) обход запрещён.
5. Где запрещается движение велосипедистам младше 14 лет?
  - а) по пешеходным зонам;
  - б) по тротуарам;
  - в) по полосе для велосипедистов;
  - г) по велодорожкам.
6. В какую сторону следует идти, если в метро началась суматоха или вы заметили активное передвижение сотрудников спецслужб в определённом направлении?

- а) идти в противоположную сторону от сотрудников спецслужб;
- б) идти вместе с сотрудниками спецслужб;
- в) идти в центр зала;
- г) идти к выходу.

7. Какое расстояние от глаз человека до книги является оптимальным с гигиенической точки зрения?

- а) 10-20 см;
- б) 20-25 см;
- в) 30-35 см;
- г) 45-50 см.

8. Каким номером можно воспользоваться для вызова скорой медицинской помощи?

- а) 013;
- б) 933;
- в) 104;
- г) 112.

9. Как называется угол между направлением на север и направлением на любой предмет?

- а) биссектриса;
- б) обратный азимут;
- в) азимут.

10. Если вы стоите лицом к Полярной звезде, где будет находиться север, юг, запад, восток?

- а) север - впереди, юг - за спиной, запад - слева, восток - справа;
- б) север - за спиной, юг - впереди, запад - слева, восток - справа;
- в) север - впереди, юг - за спиной, запад - справа, восток - слева.

11. Что значит автономное существование?

- а) когда человек «один на один» с природой;
- б) отдых на городском пляже в большой компании;
- в) выезд за границу с друзьями;
- г) путешествие с семьей на корабле;
- д) поход в ближайший магазин.

12. Стороны света можно определить по:

- а) манометру;
- б) компасу;
- в) термометру.

13. Признаки отравления бытовым газом?

- а) ощущение сонливости, тошнота, рвота, ощущения удушья;
- б) температура, рвота, боли в животе, тошнота;
- в) температура, ощущения удушья, боли в животе, тошнота.

14. В каком году впервые были приняты правила дорожного движения?

- а) 1925;
- б) 1930;
- в) 1920.

15. Как называются пересечение и соединение дорог?

- а) перекрестки;
- б) переходы;
- в) развилки.

16. Ночью определить стороны света можно по Полярной звезде. Перпендикуляр проведенный к земле от Полярной звезды, покажет Вам направление на:

- а) север.

- б) юг;
- в) запад;
- г) восток.

17. День солидарности в борьбе с терроризмом отмечается:

- а) 3 сентября
- б) 2 сентября
- в) 8 сентября
- г) 1 сентября

18. В какой период дня клещи наиболее активны?

- а) утром и вечером;
- б) ночью и днем;
- в) всегда.

19. Что из перечисленного нельзя прикладывать к месту ожога?

- а) детский крем;
- б) подсолнечное масло;
- в) сливочное масло;
- г) все перечисленное.

20. Назовите международный сигнал бедствия:

- а) SOS;
- б) DOS;
- в) KOS;
- г) SOC;
- д) KOS.

Определите несколько правильных ответов

21. Какие значения имеет зелёный мигающий сигнал светофора для пешехода?

- а) разрешает движение;
- б) информирует, что время разрешения движения истекает;
- в) информирует, что время запрещения движения истекает;
- г) информирует о наличии нерегулируемого перекрестка;
- д) запрещает движение.

22. Укажите направления, угол между которыми является азимутом:

- а) на юг;
- б) на ориентир;
- в) на север;
- г) на запад;
- д) на световой ориентир.

23. Что из указанного относится к признакам сохранения плохой погоды?

- а) ласточки летают высоко над землей;
- б) сплошная облачность;
- в) ночью тихо и прохладно;
- г) низкое атмосферное давление.

24. Какие предметы увеличивают плавучесть человека?

- а) спасательный круг;
- б) лодка;
- в) спасательный жилет;
- г) плот.

25. Назовите, какие из указанных ниже костров относятся к жаровым:

- а) шалаши;
- б) звездный;
- в) таскный;
- г) решетка.

26. Где безопаснее находиться во время землетрясения?

- а) возле оконного проёма;
- б) в широком коридоре;
- в) в узком коридоре;
- г) в центре комнаты;
- д) в дверном проёме.

27. Что может являться источником ЧС техногенного характера?

- а) аварии;
- б) эпизоотии;
- в) эпидемии;
- г) магнитные бури;
- д) катастрофы.

28. Какие из видов закаливания являются местными?

- а) обливание тела;
- б) обливание стоп;
- в) купание;
- г) обливание кистей;
- д) солнечные ванны.

29. Какие действия необходимо выполнить для оказания первой помощи при носовом кровотечении?

- а) наклонить голову вперёд;
- б) запрокинуть голову назад;
- в) повернуть голову набок;
- г) приложить холод к переносице;
- д) приложить тепло к переносице.

30. Какими средствами можно воспользоваться в качестве подручных для временной остановки артериального кровотечения?

- а) электрическим проводом;
- б) брючным ремнём;
- в) верёвкой;
- г) проволокой;
- д) широким куском плотной ткани.

Школьный этап всероссийской олимпиады школьников  
2023-2024 учебного года по основам безопасности жизнедеятельности  
5-6 классы  
ТЕОРЕТИЧЕСКИЙ ТУР  
Продолжительность 90 минут

76

5А Скударнова Света

дерева или пня можно собрать целое лукошко - ОЯ ТА  
в) Мякоть этого гриба никогда не темнеет, за что он получил своё название.  
Это царь грибов - БЕЛЫЙ ГРИБ  
г) Этот гриб является лекарством для досок. Он ядовитый, но очень красивый - МУХОМОР  
д) Растёт в хвойных и лиственных лесах группами. Название свое получил за характерную яркору  
рыжую окраску, единственный гриб, который не мнётся и не крошится - ЛЕСИЧКИ

**Задание 1. «Правила дорожного движения»**  
Соотнесите названия знаков с их изображением, записав в пустые поля правильный ответ.  
Максимальная оценка за правильно выполненное задание - 6 баллов

6  
+  
+  
+  
+  
+  
+

	ПЕШЕХОДНЫЙ ПЕРЕХОД
	ПАДЕНИЕ КАМНЕЙ
	МЕСТО ОСТАНОВКИ ТРАМВАЯ
	АВТОМАГИСТРАЛЬ
	МЕСТО СТОЯНКИ
	КОНЕЦ ЖИЛОЙ ЗОНЫ

**Варианты:**  
Автомагистраль, Место стоянки, Пешеходный переход, Падение камней,  
Конец жилой зоны, Место остановки трамвая

**Задание 2. «Безопасность в природной среде»**  
Определите название гриба, исходя из его описания.

Максимальная оценка за правильно выполненное задание - 10 баллов  
Иногда можно увидеть на опавших листьях дерева, под которым они  
а) Шляпки этих грибов по цвету похожи на опавшие листья дерева, под которым они чаще всего  
встречаются - ШРЯБКИ ИЛИ В. И. К.  
б) Живут эти грибы на деревьях или на пнях. Живут большими компаниями. Иногда с одного

10

**Задание 3. «Правила дорожного движения».**  
Установите соответствие между сигналами регулировщика и их значением для пешехода.

Максимальная оценка за правильно выполненное задание - 8 баллов

Сигналы регулировщика	Значение для пешехода
1. Правая рука вытянута вперед	А. Со стороны груди и спины движение всех транспортных средств и пешеходов запрещено.
2. Руки вытянуты в стороны или опущены	Б. Пешеходам разрешено переходить проезжую часть за спиной регулировщика В. Движение всех транспортных средств и пешеходов запрещено по проезжей части за спиной регулировщика
3. Рука поднята вверх	В. Движение всех транспортных средств и пешеходов запрещено со стороны левого и правого бока пешеходам разрешено переходить проезжую часть

ОТВЕТ

1	2	3
Б	А, Г	В

**Задание 4. «Международная кодовая таблица сигналов бедствия «земля-воздух».**

**Задание 4. «Международная кодовая таблица сигналов бедствия «земля-воздух».**  
Укажите соответствие изображения знаков Международной кодовой таблицы сигналов бедствия «земля-воздух» с его описанием. Ответ запишите в таблицу.

8

X	СЛЕДОВАТЬ ДАЛЬШЕ НЕ В СОСТОЯНИИ
П	САМОЛЕТ СИЛЬНО ПОВРЕЖДЕН
V	НУЖНЫ ОРУЖИЕ И БОЕПРЕПАСЫ
N	НЕТ
Y	ДА
LL	ВСЕ В ПОРЯДКЕ
K	УКАЖИТЕ НАПРАВЛЕНИЕ СЛЕДОВАНИЯ

**F** НУЖНЫ ПРОДОВОЛЬСТВИЕ И ВОДА

Максимальная оценка за правильно выполненное задание - 8 баллов

- Варианты:
- L Все в порядке
  - X Следовать дальше не в состоянии
  - V Нужны оружие и боеприпасы
  - L Самолет сильно поврежден
  - K Укажите направление следования Нет - N
  - Y Да
  - F Нужны продовольствие и вода

**Задание 5. «Безопасность человека»**

Максимальная оценка за правильно выполненное задание - 4 балла

Из предложенных вариантов выберите и вставьте пропущенные слова, подходящие по смыслу.  
 Средства обитания — среда ЖИЗНИ и производственной ДЕЯТЕЛЬНОСТИ человека, окружающей ЧЕЛОВЕКА природный и созданный им материальный МИР.

Варианты: деятельности, мир, жизни, человека.

**Задание 6. «ЗОЖ»**

Соотнесите какие из предложенных фраз относятся к ссоре, а какие к избеганию конфликта. Ответ запишите.

Максимальная оценка за правильно выполненное задание - 6 баллов

Вот глупый.	ССОРА	+
Сегодня ты.	КОНФЛИКТ	+
Давай попробуем вместе...	КОНФЛИКТ	+
Сколько можно жрать...	ССОРА	+
Мне кажется.	КОНФЛИКТ	+
Ты лгун и врунишка..	ССОРА	+

**Задание 7. «Основы первой помощи»**

Определите для чего применяется каждое из указанных средств из аптечки.

Максимальная оценка за правильно выполненное задание - 10 баллов

Средства из аптечки	Для чего может пригодиться	
2 Резиновые перчатки	ЗАЩИТА ОТ ЗАГРЯЗНЕНИЯ	+
1 Лейкопластырь бактерицидный	ЗАКЛЕЙКА ЦАРАТИН, ПОРЕЗОВ, ССАДИН	+
4 Стерильные марлевые салфетки (или бинты)	НАЛОЖЕНИЕ ПОВЯЗКИ	+
3 Ножницы	ОТРЕЗАНИЕ БИНТА ИЛИ ЛЕЙКОПЛАСТЫРЯ	+

- Варианты:
1. Заклейка царапин, порезов, ссадин.

2. Защита от загрязнения, Отрезание бинта или лейкопластыря, Наложение повязки, Защита от заражения

**Задание 8. «Туризм и выживание в природной среде»**

Укажите соответствие снаряжения туриста по его описанию.

Максимальная оценка за правильно выполненное задание - 8 баллов

Компас, карта	4
Спички, нож, пила, посуда	1
Рюкзак	3
Средство от насекомых, аптечка	2

Варианты:

1. Для разведения костра и приготовления пищи
2. Для защиты от насекомых, на случай получения травм
3. Для переноски вещей
4. Для ориентирования на местности

**ТЕСТОВЫЕ ЗАДАНИЯ**

Определите один правильный ответ  
 За каждый правильный ответ начисляется по 1 баллу

1. От какого места начинается дорожное движение для школьника? а) от подъезда дома; б) от выхода на тротуар; в) от пешеходного перехода; г) от выхода со двора.
2. Можно ли впускать в квартиру посторонних, если они представляются сотрудниками ремонтной службы, а вы одни (одна) дома? а) можно; б) нельзя; в) можно, если они предупредили по телефону; г) можно, если они показали удостоверение.
3. Безопасно ли тушить электрические приборы, находящиеся под напряжением? а) да, всегда; б) да, если напряжение ниже 220 V; в) нет; г) да, если напряжение ниже 230 V.
4. С какой стороны безопасно обходить трамвай, стоящий на остановке? а) спереди; б) сзади; в) всё равно; г) обход запрещён.
5. Где запрещается движение велосипедистам младше 14 лет? а) по пешеходным зонам; б) по тротуарам; в) по полосе для велосипедистов; г) по велодорожкам.
6. В какую сторону следует идти, если в метро началась суматоха или вы заметили активное передвижение сотрудников спецслужб в определённом направлении?

- а) идти в противоположную сторону от сотрудников спецслужб;
- б) идти вместе с сотрудниками спецслужб;
- в) идти в центр зала;
- г) идти к выходу.

7. Какое расстояние от глаз человека до книги является оптимальным с гигиенической точки зрения?

- а) 10-20 см;
- б) 20-25 см;
- в) 30-35 см;
- г) 45-50 см.

8. Каким номером можно воспользоваться для вызова скорой медицинской помощи?

- а) 013;
- б) 933;
- в) 104;
- г) 112.

9. Как называется угол между направлением на север и направлением на любой предмет?

- а) биссектриса;
- б) обратный азимут;
- в) азимут.

10. Если вы стоите лицом к Полярной звезде, где будет находиться север, юг, запад, восток?

- а) север - впереди, юг - за спиной, запад - слева, восток - справа;
- б) север - за спиной, юг - впереди, запад - слева, восток - справа;
- в) север - впереди, юг - за спиной, запад - справа, восток - слева.

11. Что значит автономное существование?

- а) когда человек «один на один» с природой;
- б) отдых на городском пляже в большой компании;
- в) выезд за границу с друзьями;
- г) путешествие с семьёй на корабле;
- д) поход в ближайший магазин.

12. Стороны света можно определить по:

- а) манометру;
- б) компасу;
- в) термометру.

13. Признаки отравления бытовым газом?

- а) ощущение сонливости, тошнота, рвота, ощущения удушья;
- б) температура, рвота, боли в животе, тошнота;
- в) температура, ощущения удушья, боли в животе, тошнота.

14. В каком году впервые были приняты правила дорожного движения?

- а) 1925;
- б) 1930;
- в) 1920.

15. Как называются пересечение и соединение дорог?

- а) перекрестки;
- б) переходы;
- в) развилки.

16. Ночью определить стороны света можно по Полярной звезде. Перпендикуляр проведённый к земле от Полярной звезды, покажет Вам направление на:

- а) север.

- б) юг;
- в) запад;
- г) восток.

17. День солидарности в борьбе с терроризмом отмечается:

- а) 3 сентября
- б) 2 сентября
- в) 8 сентября
- г) 1 сентября

18. В какой период дня клещи наиболее активны?

- а) утром и вечером;
- б) ночью и днём;
- в) всегда.

19. Что из перечисленного нельзя прикладывать к месту ожога?

- а) детский крем;
- б) подсолнечное масло;
- в) сливочное масло;
- г) все перечисленное.

20. Назовите международный сигнал бедствия:

- а) SOS;
- б) DOS;
- в) KOS;
- г) SOC;
- д) KOS.

Определите несколько правильных ответов

21. Какие значения имеет зелёный мигающий сигнал светофора для пешехода?

- а) разрешает движение;
- б) информирует, что время разрешения движения истекает;
- в) информирует, что время запрещения движения истекает;
- г) информирует о наличии нерегулируемого перекрестка;
- д) запрещает движение.

22. Укажите направления, угол между которыми является азимутом:

- а) на юг;
- б) на ориентир;
- в) на север;
- г) на запад;
- д) на световой ориентир.

23. Что из указанного относится к признакам сохранения плохой погоды?

- а) дятлочки летают высоко над землёй;
- б) сплошная облачность;
- в) ночью тихо и прохладно;
- г) низкое атмосферное давление.

24. Какие предметы увеличивают плавучесть человека?

- а) спасательный круг;
- б) лодка;
- в) спасательный жилет;
- г) плот.

25. Назовите, какие из указанных ниже костров относятся к жаровым:

- а) шалаш;
- б) звездный;
- в) таскый;
- г) решетка.

26. Где безопаснее находиться во время землетрясения?

- а) возле оконного проёма;
- б) в широком коридоре;
- в) в узком коридоре;
- г) в центре комнаты;
- д) в дверном проёме.

27. Что может являться источником ЧС техногенного характера?

- а) аварии;
- б) эпизоотии;
- в) эпидемии;
- г) магнитные бури;
- д) катастрофы.

28. Какие из видов закалывания являются местными?

- а) обливание тела;
- б) обливание стоп;
- в) купание;
- г) обливание кистей;
- д) солнечные ванны.

29. Какие действия необходимо выполнить для оказания первой помощи при носовом кровотечении?

- а) наклонить голову вперёд;
- б) запрокинуть голову назад;
- в) повернуть голову набок;
- г) приложить холод к переносице;
- д) приложить тепло к переносице.

30. Какими средствами можно воспользоваться в качестве подручных для временной остановки артериального кровотечения?

- а) электрическим проводом;
- б) брючным ремнём;
- в) верёвкой;
- г) прорезинкой;
- д) широким куском льняной ткани.

Шабанова 55

Школьный этап всероссийской олимпиады школьников  
2023-2024 учебного года по основам безопасности жизнедеятельности  
5-6 классы  
ТЕОРЕТИЧЕСКИЙ ТУР  
Продолжительность 90 минут

74 10

Задание 1. «Правила дорожного движения»

Соотнесите названия знаков с их изображением, записав в пустые поля правильный ответ.

Максимальная оценка за правильно выполненное задание - 6 баллов

	Пешеходный переход.	+
	Падение камней	+
	Место остановки трамвая.	+
	Автомаштраиль.	+
	Место стоянки.	+
	Конец жилой зоны.	+

6  
+  
+  
+  
+  
+

Варианты:

Автомаштраиль, Место стоянки, Пешеходный переход, Падение камней, Конец жилой зоны, Место остановки трамвая

Задание 2. «Безопасность в природной среде»

Определите название гриба, исходя из его описания.

Максимальная оценка за правильно выполненное задание - 10 баллов

Иногда можно увидеть пожелтевшие опавшие листья дерева, под которым они

- Шляпки этих грибов по цвету похожи на опавшие листья дерева, под которым они чаще всего встречаются - подберезовик
- Живут эти грибы на деревьях или на пнях. Живут большими компаниями. Иногда с одного

дерева или пня можно собрать целое лукошко - опята

н) Микоть этого гриба никогда не темнеет, за что он получил свое название.

Это царь грибов - белый гриб.

г) Этот гриб является лекарством для лесей. Он ядовитый, но очень красивый - мухомор

д) Растёт в хвойных и лиственных лесах группами. Название свое получил за характерную ярко-рыжую окраску, единственный гриб, который не мнётся и не крошится - масленок.

Задание 3. «Правила дорожного движения»

Установите соответствие между сигналами регулировщика и их значением для пешехода.

Максимальная оценка за правильно выполненное задание - 8 баллов

Сигналы регулировщика	Значение для пешехода	
1. Правая рука вытянута вперед	А. Со стороны груди и спины движение всех транспортных средств и пешеходов запрещено.	
2. Руки вытянуты в стороны или опущены	Б. Пешеходам разрешено переходить проезжую часть за спиной регулировщика В. Движение всех транспортных средств и пешеходов запрещено	
3. Рука поднята вверх	В. Движение всех транспортных средств и пешеходов разрешено со стороны левого и правого бока пешеходов разрешено переходить проезжую часть	
ОТВЕТ		
1	2	3
Б	А	В

Задание 4. «Международная кодовая таблица сигналов бедствия «земля-воздух».

Задание 4. «Международная кодовая таблица сигналов бедствия «земля-воздух».

Укажите соответствие изображения знаков Международной кодовой таблицы сигналов бедствия «земля-воздух» с его описанием. Ответ запишите в таблицу.

+	X	Следовать дальше не в состоянии.
+	L	Самолёт сильно повреждён
+	V	Крупные оружие и боеприпасы
+	N	Нет
+	Y	Да
+	LL	Всё в порядке.
+	K	Укажите направление следования.



**F** **F** Нужны продовольствие и вода.

Максимальная оценка за правильно выполненное задание - 8 баллов

- Варианты:**  
 Все в порядке  
 Следовать дальше не в состоянии  
 Нужны оружие и боеприпасы  
 Самолет сильно поврежден  
 Укажите направление следования Нет  
 Да  
 Нужны продовольствие и вода

**Задание 5. «Безопасность человека»**

Максимальная оценка за правильно выполненное задание - 4 балла  
 Из предложенных вариантов выберите и вставьте пропущенные слова, подходящие по смыслу.  
 Среда обитания — среда жизни и производственной деятельности  
 человека, окружающий человека природный и созданный им материальный мир

**Варианты:** деятельности, мир, жизни, человека.

**Задание 6. «ЗОЖ»**

Соотнесите какие из предложенных фраз относятся к спорту, а какие к избеганию конфликта. Ответ запишите.

Максимальная оценка за правильно выполненное задание - 6 баллов

Вот глухой.	к спорту
Сегодня ты.	к избеганию конфликта
Давай попробуем вместе...	к избеганию конфликта
Сколько можно жрать...	к спорту
Мне кажется.	к избеганию конфликта
Ты лгу и врунишка.	к спорту

**Задание 7. «Основы первой помощи»**

Определите для чего применяется каждое из указанных средств из аптечки.

Максимальная оценка за правильно выполненное задание - 10 баллов

Средства из аптечки	Для чего может пригодиться
Резиновые перчатки	Защита от заражения
Лейкопластырь бактерицидный	Защита от заражения.
Стерильные марлевые салфетки (или бинты)	Заклейка царапин, порезов, ссадин.
Ножницы	Наложение повязки. Отрезание бинта или лейкопластыря.

**Варианты:**

1. Заклейка царапин, порезов, ссадин.

2. Защита от загрязнения. Отрезание бинта или лейкопластыря. Наложение повязки. Защита от заражения

**Задание 8. «Туризм и выживание в природной среде»**

Укажите соответствие снаряжения туриста по его описанию.

Максимальная оценка за правильно выполненное задание - 8 баллов

Компас, карта	4
Спички, нож, пила, посуда	1
Рюкзак	3
Средство от насекомых, аптечка	2

**Варианты:**

1. Для разведения костра и приготовления пищи
2. Для защиты от насекомых, на случай получения травм
3. Для переноски вещей
4. Для ориентирования на местности

**ТЕСТОВЫЕ ЗАДАНИЯ**

Определите один правильный ответ  
 За каждый правильный ответ начисляется по 1 баллу

1. От какого места начинается дорожное движение для школьника? **в)** от подъезда дома;
  - а) от выхода на тротуар;
  - б) от пешеходного перехода;
  - г) от выхода со двора.
2. Можно ли впускать в квартиру посторонних, если они представляются сотрудниками ремонтной службы, а вы один (одна) дома?
  - а) можно;
  - б) нельзя;**
  - в) можно, если они предупредили по телефону;
  - г) можно, если они показали удостоверение.
3. Безопасно ли тушить электрические приборы, находящиеся под напряжением?
  - а) да, всегда;**
  - б) да, если напряжение ниже 220 V;
  - в) нет;
  - г) да, если напряжение ниже 230 V.
4. С какой стороны безопасно обходить трамвай, стоящий на остановке?
  - а) спереди;**
  - б) сзади;
  - в) всё равно;
  - г) обход запрещён.
5. Где запрещается движение велосипедистам младше 14 лет?
  - а) по пешеходным зонам;**
  - б) по тротуарам;
  - в) по полосе для велосипедистов;
  - г) по велодорожкам.
6. В какую сторону следует идти, если в метро началась суматоха или вы заметили активное передвижение сотрудников спецслужб в определённом направлении?

- а) идти в противоположную сторону от сотрудников спецслужб;  
б) идти вместе с сотрудниками спецслужб;  
в) идти в центр зала;  
г) идти к выходу
7. Какое расстояние от глаз человека до книги является оптимальным с гигиенической точки зрения?  
а) 10-20 см;  
б) 20-25 см;  
в) 30-35 см;  
г) 45-50 см.
8. Каким номером можно воспользоваться для вызова скорой медицинской помощи?  
а) 013;  
б) 933;  
в) 104;  
г) 112.
9. Как называется угол между направлением на север и направлением на любой предмет?  
а) биссектриса;  
б) обратный азимут;  
в) азимут.
10. Если вы стоите лицом к Полярной звезде, где будет находиться север, юг, запад, восток?  
а) север - впереди, юг - за спиной, запад - слева, восток - справа;  
б) север - за спиной, юг - впереди, запад - слева, восток - справа;  
в) север - впереди, юг - за спиной, запад - справа, восток - слева.
11. Что значит автономное существование?  
а) когда человек «один на один» с природой;  
б) отдых на городском пляже в большой компании;  
в) выезд за границу с друзьями;  
г) путешествие с семьей на корабле;  
д) поход в ближайший магазин.
12. Стороны света можно определить по:  
а) манометру;  
б) компасу;  
в) термометру.
13. Признаки отравления бытовым газом?  
а) ощущение сонливости, тошнота, рвота, ощущения удушья;  
б) температура, рвота, боли в животе, тошнота;  
в) температура, ощущения удушья, боли в животе, тошнота.
14. В каком году впервые были приняты правила дорожного движения?  
а) 1925;  
б) 1930;  
в) 1920.
15. Как называются пересечение и соединение дорог?  
а) перекрестки;  
б) переходы;  
в) развилки.
16. Ночью определять стороны света можно по Полярной звезде. Перпендикуляр проведенный к земле от Полярной звезды, покажет Вам направление на:  
а) север;

- б) юг;  
в) запад;  
г) восток.
17. День солидарности в борьбе с терроризмом отмечается:  
а) 3 сентября;  
б) 2 сентября;  
в) 8 сентября;  
г) 1 сентября
18. В какой период дня клещи наиболее активны?  
а) утром и вечером;  
б) ночью и днем;  
в) всегда.
19. Что из перечисленного нельзя прикладывать к месту ожога?  
а) детский крем;  
б) подсолнечное масло;  
в) сливочное масло;  
г) все перечисленное.
20. Назовите международный сигнал бедствия:  
а) SOS;  
б) DOS;  
в) KOS;  
г) SOC;  
д) KOS.

Определите несколько правильных ответов

21. Какие значения имеет зелёный мигающий сигнал светофора для пешехода?  
а) разрешает движение;  
б) информирует, что время разрешения движения истекает;  
в) информирует, что время запрещения движения истекает;  
г) информирует о наличии нерегулируемого перекрестка;  
д) запрещает движение.
22. Укажите направления, угол между которыми является азимутом:  
а) на юг;  
б) на ориентир;  
в) на север;  
г) на запад;  
д) на световой ориентир.
23. Что из указанного относится к признакам сохранения плохой погоды?  
а) ласточки летают высоко над землей;  
б) сплошная облачность;  
в) ночью тихо и прохладно;  
г) низкое атмосферное давление.
24. Какие предметы увеличивают плавучесть человека?  
а) спасательный круг;  
б) лодка;  
в) спасательный жилет;  
г) плот.

25. Назовите, какие из указанных ниже костров относятся к жаровым:

- а) шалаши;
- б) звездный;
- в) тасжный;
- г) решетка.

26. Где безопаснее находиться во время землетрясения?

- а) возле оконного проёма;
- б) в широком коридоре;
- в) в узком коридоре;
- г) в центре комнаты;
- д) в дверном проёме.

27. Что может являться источником ЧС техногенного характера?

- а) аварии;
- б) эпизоотии;
- в) эпидемии;
- г) магнитные бури;
- д) катастрофы.

28. Какие из видов закаливания являются местными?

- а) обливание тела;
- б) обливание стоп;
- в) купание;
- г) обливание кистей;
- д) солнечные ванны.

29. Какие действия необходимо выполнить для оказания первой помощи при носовом кровотечении?

- а) наклонить голову вперёд;
- б) запрокинуть голову назад;
- в) повернуть голову набок;
- г) приложить холод к переносице;
- д) приложить тепло к переносице.

30. Какими средствами можно воспользоваться в качестве подручных для временной остановки артериального кровотечения?

- а) электрическим проводом;
- б) брючным ремнём;
- в) верёвкой;
- г) проволокой;
- д) широким куском плотной ткани.

Школьный этап всероссийской олимпиады школьников  
2023-2024 учебного года по основам безопасности жизнедеятельности  
5-6 классы  
ТЕОРЕТИЧЕСКИЙ ТУР  
Продолжительность 90 минут

74

6

Задание 1. «Правила дорожного движения»

Соотнесите названия знаков с их изображением, записав в пустые поля правильный ответ.

Максимальная оценка за правильно выполненное задание - 6 баллов

	Пешеходный переход	+
	Падение камней	+
	Место остановки трамвая	+
	Автомагистраль	+
	Место стоянки	+
	Конец жилой зоны	+

Важные:

Автомагистраль, Место стоянки, Пешеходный переход, Падение камней, Конец жилой зоны, Место остановки трамвая

Задание 2. «Безопасность в природной среде»

Определите название гриба, исходя из его описания.

Максимальная оценка за правильно выполненное задание - 10 баллов

Мягкие шляпки грибов по цвету похожи на опавшие листья дерева, под которым они встречаются - подосиновик

б) Живут эти грибы на деревьях или на пнях. Живут большими компаниями. Иногда с одного

10

дерева или пня можно собрать целое лукошко - Опята,  
в) Мякоть этого гриба никогда не темнеет, за что он получил своё название.  
Это царь грибов - Белый гриб.

г) Этот гриб является лекарством для людей. Он ядовитый, но очень красивый - мухомор.  
д) Растёт в хвойных и лиственных лесах группами. Название свое получил за характерную яркую окраску, единственный гриб, который не мнётся и не крошится - Белый гриб.

Задание 3. «Правила дорожного движения».

Установите соответствие между сигналами регулировщика и их значением для пешехода.

Максимальная оценка за правильно выполненное задание - 8 баллов

Сигналы регулировщика	Значение для пешехода	
1. Правая рука вытянута вперед	А. Со стороны груди и спины движение всех транспортных средств и пешеходов запрещено.	
2. Руки вытянуты в стороны или опущены	Б. Пешеходам разрешено переходить проезжую часть за спиной регулировщика В. Движением всех транспортных средств и пешеходов запрещено переходить проезжую часть за спиной регулировщика	
3. Рука поднята вверх	В. Движение всех транспортных средств и пешеходов запрещено со стороны левого и правого бока пешеходам разрешено переходить проезжую часть	
ОТВЕТ		
1	2	3
А	В	Б

Задание 4. «Международная кодовая таблица сигналов бедствия «земля-воздух».

Задание 4. «Международная кодовая таблица сигналов бедствия «земля-воздух».

Укажите соответствие изображения знаков Международной кодовой таблицы сигналов бедствия «земля-воздух» с его описанием. Ответ запишите в таблицу.

+	X	Неспособны двигаться
+	L	самолёт сильно повреждён.
+	V	крупное оружие и боеприпасы.
+	N	Нет.
+	Y	да.
+	LL	все в порядке.
+	K	Укажите направление следования.

F

Мужские продовольствие и вода.

Максимальная оценка за правильно выполненное задание - 8 баллов

Варианты:

- Все в порядке
- Следовать дальше не в состоянии
- Нужны оружие и боеприпасы
- Самолет сильно поврежден
- Укажите направление следования Нет
- Да
- Нужны продовольствие и вода

Задание 5. «Безопасность человека»

Максимальная оценка за правильно выполненное задание - 4 балла

Из предложенных вариантов выберите и вставьте пропущенные слова, подходящие по смыслу. Среда обитания — среда жизни и производственной деятельности, человека, окружающей мир природный и созданный им материальный человек.

Варианты: деятельности, мир, жизни, человека.

Задание 6. «ЗОЖ»

Соотнесите какие из предложенных фраз относятся к спорту, а какие к избеганию конфликта. Ответ запишите.

Максимальная оценка за правильно выполненное задание - 6 баллов

Вот глупый.	к спорту.	+
Сегодня ты.	к избеганию конфликта.	+
Давай попробуем вместе.	к избеганию конфликта.	+
Сколько можно жрать...	к спорту.	+
Мне кажется.	к спорту.	+
Ты дура и врунишка.	к спорту.	+

Задание 7. «Основы первой помощи»

Определите для чего применяется каждое из указанных средств из аптечки.

Максимальная оценка за правильно выполненное задание - 10 баллов

Средства из аптечки	Для чего может пригодиться
Резиновые перчатки	От загрязнения.
Лейкопластырь бактерицидный	Заклейка царапин.
Стерильные марлевые салфетки (или бинты)	От загрязнения гематома.
Ножницы	Отрезание бинта.

Варианты:

1. Заклейка царапин, порезов, ссадин.

2. Защита от загрязнения, Отрезание бинта или лейкопластыря, Наложение повязки, Защита от заражения

Задание 8. «Туризм и выживание в природной среде»

Укажите соответствие снаряжения туриста по его описанию.

Максимальная оценка за правильно выполненное задание - 8 баллов

Компас, карта	для ориентирования на местности
Спички, нож, пила, посуда	для разведения костра и приготовления пищи
Рюкзак	для переноски вещей
Средство от насекомых, аптечка	для защиты от насекомых и оказания первой помощи.

Варианты:

1. Для разведения костра и приготовления пищи
2. Для защиты от насекомых, на случай получения травм
3. Для переноски вещей
4. Для ориентирования на местности

ТЕСТОВЫЕ ЗАДАНИЯ

Определите один правильный ответ

За каждый правильный ответ начисляется по 1 баллу

1. От какого места начинается дорожное движение для школьника? а) от подъезда дома; б) от выхода на тротуар; в) от пешеходного перехода; г) от выхода со двора
2. Можно ли впускать в квартиру посторонних, если они представляются сотрудниками ремонтной службы, а вы один (одна) дома? а) можно; б) нельзя; в) можно, если они предупредили по телефону; г) можно, если они показали удостоверение
3. Безопасно ли тушить электрические приборы, находящиеся под напряжением? а) да, всегда; б) да, если напряжение ниже 220 V; в) нет; г) да, если напряжение ниже 230 V
4. С какой стороны безопасно обходить трамвай, стоящий на остановке? а) спереди; б) сзади; в) всё равно; г) обход запрещён
5. Где запрещается движение велосипедистам младше 14 лет? а) по пешеходным зонам; б) по тротуарам; в) по полосе для велосипедистов; г) по велодорожкам
6. В какую сторону следует идти, если в метро началась суматоха или вы заметили активное передвижение сотрудников спецслужб в определённом направлении?

13) идти в противоположную сторону от сотрудников спецслужб; \*

- б) идти вместе с сотрудниками спецслужб;
- в) идти в центр зала;
- г) идти к выходу.

7. Какое расстояние от глаз человека до книги является оптимальным с гигиенической точки зрения?

- а) 10-20 см;
- б) 20-25 см;
- в) 30-35 см;
- г) 45-50 см.

8. Каким номером можно воспользоваться для вызова скорой медицинской помощи?

- а) 013;
- б) 933;
- в) 104;
- г) 112.

9. Как называется угол между направлением на север и направлением на любой предмет?

- а) биссектриса;
- б) обратный азимут;
- в) азимут.

10. Если вы стоите лицом к Полярной звезде, где будет находиться север, юг, запад, восток?

- а) север - впереди, юг - за спиной, запад - слева, восток - справа;
- б) север - за спиной, юг - впереди, запад - слева, восток - справа;
- в) север - впереди, юг - за спиной, запад - справа, восток - слева.

11. Что значит автономное существование?

- а) когда человек «один на один» с природой;
- б) отдых на городском пляже в большой компании;
- в) выезд за границу с друзьями;
- г) путешествие с семьёй на корабле;
- д) поход в ближайший магазин.

12. Стороны света можно определить по:

- а) манометру;
- б) компасу;
- в) термометру.

13. Признаки отравления бытовым газом?

- а) ощущение сонливости, тошнота, рвота, ощущения удушья;
- б) температура, рвота, боли в животе, тошнота;
- в) температура, ощущения удушья, боли в животе, тошнота.

14. В каком году впервые были приняты правила дорожного движения?

- а) 1925;
- б) 1930;
- в) 1920.

15. Как называются пересечение и соединение дорог?

- а) перекрестки;
- б) переходы;
- в) развилки.

16. Ночью определить стороны света можно по Полярной звезде. Перпендикуляр проведенный к земле от Полярной звезды, покажет Вам направление на:

- а) север.

- б) юг;
- в) запад;
- г) восток.

17. День солидарности в борьбе с терроризмом отмечается:

- а) 3 сентября
- б) 2 сентября
- в) 8 сентября
- г) 1 сентября

18. В какой период дня клещи наиболее активны?

- а) утром и вечером;
- б) ночью и днем;
- в) всегда.

19. Что из перечисленного нельзя прикладывать к месту ожога?

- а) детский крем;
- б) подсолнечное масло;
- в) сливочное масло;
- г) все перечисленное.

20. Назовите международный сигнал бедствия:

- а) SOS;
- б) DOS;
- в) KOS;
- г) SOC;
- д) KOS.

Определите несколько правильных ответов

21. Какие значения имеет зелёный мигающий сигнал светофора для пешехода?

- а) разрешает движение;
- б) информирует, что время разрешения движения истекает;
- в) информирует, что время запрещения движения истекает;
- г) информирует о наличии нерегулируемого перекрестка;
- д) запрещает движение.

22. Укажите направления, угол между которыми является азимутом:

- а) на юг;
- б) на ориентир;
- в) на север;
- г) на запад;
- д) на световой ориентир.

23. Что из указанного относится к признакам сохранения плохой погоды?

- а) ласточки летают высоко над землёй;
- б) сплошная облачность;
- в) ночью тихо и прохладно;
- г) низкое атмосферное давление.

24. Какие предметы увеличивают плавучесть человека?

- а) спасательный круг;
- б) лодка;
- в) спасательный жилет;
- г) плот.

25. Назовите, какие из указанных ниже костров относятся к жаровым:

- а) шалаш;
- б) звездный;
- в) таяжный;
- г) решетка.

26. Где безопаснее находиться во время землетрясения?

- а) возле оконного проёма;
- б) в широком коридоре;
- в) в узком коридоре;
- г) в центре комнаты;
- д) в дверном проёме.

27. Что может являться источником ЧС техногенного характера?

- а) аварии;
- б) эпизоотии;
- в) эпидемии;
- г) магнитные бури;
- д) катастрофы.

28. Какие из видов закалывания являются местными?

- а) обливание тела;
- б) обливание стоп;
- в) купание;
- г) обливание кистей;
- д) солнечные ванны.

29. Какие действия необходимо выполнить для оказания первой помощи при носовом кровотечении?

- а) наклонить голову вперед;
- б) запрокинуть голову назад;
- в) повернуть голову набок;
- г) приложить холод к переносице;
- д) приложить тепло к переносице.

30. Какими средствами можно воспользоваться в качестве подручных для временной остановки артериального кровотечения?

- а) электрическим проводом;
- б) брючным ремнём;
- в) верёвкой;
- г) проволокой;
- д) широким куском плотной ткани.

Бронников Иван 7Б класс. 695

Всероссийская олимпиада школьников по истории, 2023-2024 учеб. год  
Школьный этап. 7 класс. Задания.  
Время выполнения 60 мин. максимальное кол-во баллов – 100.

**Задание 1.** По какому принципу образованы ряды (2 балла за каждый правильный ответ, максимальный балл – 6)?

1. Дулебы, северяне, драговичи русские племена –
2. 907 г., 911 г., 941 г., 944 г. подписание договоров между Русью и Византией 2
3. Закупы, рядовичи, смерды зависимое население 2

**Задание 2.** Определите прозвища русских князей (2 балла за каждое правильно указанное прозвище, максимальный балл – 6)?

1. Управлял Ростовом, Новгородом, Киевом. Конфликтовал с отцом, восстал с братом. Объединил под своей властью почти все русские земли (кроме Полоцка). Ходил походами на литовцев, ятвягов. Находился в родственных связях с царствующими домами Англии, Франции, Германии, Польши, Скандинавии, Венгрии и Византии Ярослав Мудрый 2
2. Сын Юрия Долгорукого. Был женат на дочери боярина Степана Кучки. Убит заговорщиками Кучковичами. После него остались Золотые ворота во Владимире, церковь Покрова на Нерли Андрей Боголюбский 2
3. По красоте его сравнивали с патриархом Иосифом, которого фараон поставил начальником над всею Египетскою страной, по силе - с ветхозаветным судиею Самсоном, по уму - с царем Соломоном. Выиграл он две значительные битвы. В честь одной из них получил прозвище. Навсегда остался в памяти народной. Канонизирован. Художник П.Д. Корин написал картину Александр Невский 2

**Задание 3.** Прочитайте исторический документ и ответьте на вопросы. (2 балла за каждый правильный ответ, максимальный балл 8)

«... и вот князь великий Дмитрий Иванович и брат его, князь Владимир Андреевич, помолившись богу и пречистой его матери, укрепив ум свой силой, закалив сердца свои мужеством, преисполнившись ратного духа, урядили свои храбрые полки в Русской земле...»

О жаворонок, летняя птица, радостных дней утеха, взлети к синим небесам, взгляни на могучий город Москву, воспой славу великому князю Дмитрию Ивановичу и брату его, князю Владимиру Андреевичу! ... Звенит слава по всей земле Русской: в Москве кони ржут, трубы трубят в Коломне, бубны бьют в Серпухове, стоят знамена русские у Дона великого на берегу.

Звонят колокола вечевые в Великом Новгороде, собрались мужи новгородские у храма святой Софии и говорят так: "Неужто нам, братья, не поспеть на подмогу к великому князю Дмитрию Ивановичу?"...

И сказал... князь великий Дмитрий Иванович: "Брат Владимир Андреевич! Два брата мы с тобой, а внуки мы великого князя Владимира Киевского. Воеводы у нас уже поставлены — семьдесят бояр, и отважны князья... а воннов с нами — триста тысяч латников. А воеводы у нас надежные, а дружина в бою испытанная... и все как один готовы головы свои положить за землю за Русскую и за веру христианскую..."

- 1) Какое историческое событие описано в документе? Куликовская битва 2
- 2) В каком году оно произошло? 1380г. 2
- 3) Как называется этот документ? Задонщина 2
- 4) Какое прозвище получил князь, который был инициатором этого события? Дмитрий Донской 2

**Задание 4.** Расположите события в хронологической последовательности, внося свой ответ в таблицу (1 балл за каждый правильный ответ, максимальный балл – 6):

- А) Учреждение опричнины;
- Б) «Повесть временных лет»;
- В) Нашествие Неврюевой рати;
- Г) Захват Олегом Киева;
- Д) Начало Столетней войны;
- Ж) Присоединение Новгородской земли к Москве

1	Г	2	Б	3	В	4	Д	5	Ж	6	А
---	---	---	---	---	---	---	---	---	---	---	---

--	--	--	--	--	--	--	--	--	--

**Задание 5.** Расставьте предложенные ниже слова в местах пропусков. Слова даются в именительном падеже. Ответом должно быть сочетание соответствующих букв, поставленных в том порядке, в котором в тексте пропущены слова. Учтите, что два понятия лишние. (1 балл за каждое правильно установленное соответствие, максимум – 6 баллов)

А) земельная аристократия	Г) вече	Ж) половцы
Б) Владимиро-Суздальское	Д) Галицко-Волынское	З) князь
В) республиканский строй	Е) княжеская власть	

Крупнейшими русскими землями в XIII стали княжества: Владимиро-Суздальское, (1) Д, Полоцкое, Рязанское, Смоленское, Черниговское и Новгородская земля. Главной особенностью Новгородской земли был (2) Б, при котором (3) Г во главе с боярством назначало посадников, приглашало и изгоняло (4) Ж. Во Владимиро-Суздальском княжестве утвердилась сильная (5) Е. Галицко-Волынское княжество, включившее в себя земли Прикарпатья и Волыни, отличалось мощной (6) А.

1	2	3	4	5	6
Д	Б	Г	Ж	Е	А

**Задание 6.** Соотнесите имя исторического деятеля с основным содержанием его деятельности. Свой ответ внесите в таблицу. (2 балла за каждый правильный ответ – 20 баллов)

исторический деятель	факты деятельности
1. Епифаний Премудрый	А. Последний из Рюриковичей на русском престоле
2. Алексей Адашев	Б. Князь, который умелой политикой обезопасил русские земли от католической экспансии, пойдя на компромисс с Монгольской империей
3. Федор Иванович	В. Князь, который построил белокаменный Московский Кремль. Вступил в открытую борьбу с Золотой Ордой
4. Александр Невский	Г. Русский живописец, крупнейший мастер московской школы живописи
5. Феофан Грек	Д. Князь, при котором были сооружены Софийский собор в Киеве, Золотые ворота, возник Печерский монастырь.
6. Сильвестр	Е. Автор «Домостроя»
7. Дмитрий Донской	Ж. Автор жития Сергия Радонежского
8. Андрей Рублев	З. Начальник Челобитного приказа, постельничий и хранитель личного архива царя вместе с печатью, член Избранной рады
9. Ярослав Мудрый	И. Сделал г. Владимир столицей Ростово-Суздальской земли
10. Андрей Боголюбский	К. Византийский живописец, работавший в России. Расписал старый Благовещенский собор Московского Кремля.

1	2	3	4	5	6	7	8	9	10
Ж	В	А	Б	К	Е	В	Г	Д	И

**Задание 7.** Решите историческую задачу (за ответ на первый вопрос 3 балла, за ответ на второй вопрос 3 балла, максимальный балл - 6).

Предок этого человека – новгородский дворянин Юрий Репех, был выслан в 1478 году вместе с группой антимосковски настроенных бояр (во главе с Марфой Борещкой) Иваном III в центральные уезды страны. Дети и внуки Репеха получили вотчину во Владимирском уезде, в бассейне реки Дубна и поэтому сменили фамилию на соответствующую месту своих владений. В последствии этот человек сыграл важнейшую роль в истории города Красноярска

1. Назовите имя и фамилию этого человека? Андрей Дуденский
2. Какую роль в истории города Красноярска он сыграл? положил начало городу Красноярску 6

**Задание 8.** Перед Вами известные картины, изображающие события всемирной и русской истории. Рассмотрите их внимательно и выполните задания. Укажите, какому событию посвящена каждая из



картин, укажите, в каком веке происходили данные события, и назовите историческую личность, принимавшую участие в этом событии. Ответ внесите в таблицу (за каждый правильный ответ 3 балла, максимальный балл – 36 баллов).

1)



2)



3)



4)



Номер картины	Событие	Век	Историческая личность
1	Образование Руси	IX	Рюрик
2	Монгольское нашествие на Русь	XIII	Александр Невский
3	Крещение Руси	IX	Владимир Красное Солнышко
4	Взятие Бастилии	XVIII	Марианна Дарк

215

Задание 9. Выполните задания по карте. (за каждый правильный ответ 2 балла, максимальный балл – 6 баллов).



9.1 Напишите название реки, обозначенной на схеме цифрой «1». Нева

9.2 Напишите название города, обозначенного на схеме цифрой «2». Санкт-Петербург

9.3 Напишите название пути, обозначенного на схеме пунктирной линией из Варшавы в Гданьск

Зайцева, Максимила Иб. 885.

Всероссийская олимпиада школьников по истории, 2023-2024 уч.год

Школьный этап, 7 класс. Задания.

Время выполнения 60 мин. максимальное кол-во баллов – 100.

**Задание 1.** По какому принципу образованы ряды (2 балла за каждый правильный ответ, максимальный балл – 6)?

1. Дулебы, северяне, драговичи Русские племена
2. 907 г., 911 г., 941 г., 944 г. Подписания договоров Р. и Виз.
3. Закупы, рядовичи, смерды Зависимые

**Задание 2.** Определите прозвища русских князей (2 балла за каждое правильно указанное прозвище, максимальный балл – 6)?

1. Управлял Ростовом, Новгородом, Киевом. Конфликтовал с отцом, воевал с братом. Объединил под своей властью почти все русские земли (кроме Полоцка). Ходил походами на литовцев, ятвягов. Находился в родственных связях с правящими домами Англии, Франции, Германии, Польши, Скандинавии, Венгрии и Византии.
2. Сын Юрия Долгорукого. Был женат на дочери боярина Степана Кучки. Убит заговорщиками Кучковичами. После него остались Золотые ворота во Владимире, церковь Покрова на Нерли Князь Боголюбский
3. По красоте его сравнивали с патриархом Иосифом, которого фараон поставил начальником над всею Египетскою страной, по силе - с ветхозаветным судиею Самсоном, по уму - с царем Соломоном. Выиграл он две значительные битвы. В честь одной из них получил прозвище. Навсегда остался в памяти народной. Канонизирован. Художник П.Д. Корин написал картину Невский

**Задание 3.** Прочитайте исторический документ и ответьте на вопросы. (2 балла за каждый правильный ответ, максимальный балл 8)

«...и вот князь великий Дмитрий Иванович и брат его, князь Владимир Андреевич, помолвившись богу и пречистой его матери, укрепив ум свой силой, закалив сердца свои мужеством, преисполнившись ратного духа, урядили свои храбрые полки в Русской земле...»

О жаворонок, летняя птица, радостных дней утеха, взлети к синим небесам, взгляни на могучий город Москву, воспой славу великому князю Дмитрию Ивановичу и брату его, князю Владимиру Андреевичу! ... Звенит слава по всей земле Русской: в Москве кони ржут, трубы трубят в Коломне, бубны бьют в Серпухове, стоят знамена русские у Дона великого на берегу.

Звонят колокола вечерые в Великом Новгороде, собрались мужи новгородские у храма святой Софии и говорят так: "Неужто нам, братья, не поспеть на подмогу к великому князю Дмитрию Ивановичу?"

И сказал... князь великий Дмитрий Иванович: "Брат Владимир Андреевич! Два брата мы с тобой, а внуки мы великого князя Владимира Киевского. Воеводы у нас уже поставлены — семьдесят бояр, и отважны князья... а воинов с нами — триста тысяч латников. А воеводы у нас надежные, а дружина в боях испытанная... и все как один готовы головы свои подложить за землю за Русскую и за веру христианскую.»

1. Какое историческое событие описано в документе? 1288
2. В каком году оно произошло? 1288
3. Как называется этот документ? Завоковщина
4. Какое прозвище получил князь, который был инициатором этого события? Долгорукий

**Задание 4.** Расположите события в хронологической последовательности, внося свой ответ в таблицу (1 балл за каждый правильный ответ, максимальный балл – 6):

- А) Учреждение опричнины;
- Б) «Повесть временных лет»;
- В) Нашествие Неврюевой рати;
- Г) Захват Олегом Киева;
- Д) Начало Столетней войны;
- Ж) Присоединение Новгородской земли к Москве.

1	Ж	2	Б	3	Г	4	В	5	Д	6	А
---	---	---	---	---	---	---	---	---	---	---	---

--	--	--	--	--	--

**Задание 5.** Расставьте предложенные ниже слова в местах пропусков. Слова даются в именительном падеже. Ответом должно быть сочетание соответствующих букв, поставленных в том порядке, в котором в тексте пропущены слова. Учтите, что два понятия лишние. (1 балл за каждое правильно установленное соответствие, максимум – 6 баллов)

А) земельная аристократия	Г) вече	Ж) половцы
Б) Владимиро-Суздальское	Д) Галицко-Волыньское	З) князь
В) республиканский строй	Е) княжеская власть	

Крупнейшими русскими землями в XIII стали княжества: Владимиро-Суздальское, Полоцкое, Рязанское, Смоленское, Черниговское и Новгородская земля. Главной особенностью Новгородской земли был (2) Б, при котором (3) З во главе с боярством назначало посадников, приглашало и изгоняло (4) Ж. Во Владимиро-Суздальском княжестве утвердилась сильная (5) Е. Галицко-Волыньское княжество, включившее в себя земли Прикарпатья и Волыни, отличалось мощной (6) А.

1	2	3	4	5	6
Д	Б	Г	Ж	Е	А

**Задание 6.** Соотнесите имя исторического деятеля с основным содержанием его деятельности. Свой ответ впишите в таблицу. (2 балла за каждый правильный ответ – 20 баллов)

исторический деятель	факты деятельности
1. Епифаний Премудрый	А. Последний из Рюриковичей на русском престоле
2. Алексей Адашев	Б. Князь, который умелой политикой обезопасил русские земли от католической экспансии, пойдя на компромисс с Монгольской империей
3. Федор Иванович	В. Князь, который построил белокаменный Московский Кремль. Вступил в открытую борьбу с Золотой Ордой
4. Александр Невский	Г. Русский живописец, крупнейший мастер московской школы живописи
5. Феофан Грек	Д. Князь, при котором были сооружены Софийский собор в Киеве, Золотые ворота, возник Печерский монастырь.
6. Сильвестр	Е. Автор «Домостроя»
7. Дмитрий Донской	Ж. Автор жития Сергия Радонежского
8. Андрей Рублев	З. Начальник Челобитного приказа, постельничий и хранитель личного архива царя вместе с печатью, член Избранной рады
9. Ярослав Мудрый	И. Сделал г. Владимир столицей Ростово-Суздальской земли
10. Андрей Боголюбский	К. Византийский живописец, работавший в России. Расписал старый Благовещенский собор Московского Кремля.

1	2	3	4	5	6	7	8	9	10
Ж	З	А	Б	Г	Е	В	Д	И	К

**Задание 7.** Решите историческую задачу (за ответ на первый вопрос 3 балла, за ответ на второй вопрос 3 балла, максимальный балл – 6).

Предок этого человека – новгородский дворянин Юрий Репех, был выслан в 1478 году вместе с группой антимосковски настроенных бояр (во главе с Марфой Борешкой) Иваном III в центральные уезды страны. Дети и внуки Репеха получили вотчину во Владимирском уезде, в бассейне реки Дубна и поэтому сменили фамилию на соответствующую месту своих владений. В последствии этот человек сыграл важнейшую роль в истории города Красноярск.

1. Назовите имя и фамилию этого человека? Долженский
2. Какую роль в истории города Красноярск он сыграл? положил начало городу Красноярск

**Задание 8.** Перед Вами известные картины, изображающие события всемирной и русской истории. Рассмотрите их внимательно и выполните задания. Укажите, какому событию посвящена каждая из

картин, укажите, в каком веке происходили данные события, и назовите историческую личность, принимавшую участие в этом событии. Ответ внесите в таблицу (за каждый правильный ответ 3 балла, максимальный балл – 36 баллов).

1)



2)



3)



4)



Номер картины	Событие	Век	Историческая личность
1	—	IX	Россия
2	—	XIII	Чингисхан
3	✓	IX	Вл. Красное Солнышко
4	—	XIII	Иван Грозный

Задание 9. Выполните задания по карте. (за каждый правильный ответ 2 балла, максимальный балл – 6 баллов).



9.1 Напишите название реки, обозначенной на схеме цифрой «1». Иева

9.2 Напишите название города, обозначенного на схеме цифрой «2». Санкт-Петербург

9.3 Напишите название пути, обозначенного на схеме пунктирной линией из Балтийского моря

6

Всероссийская олимпиада школьников

Школьный этап по музыке 8 класс

2023-2024 учебный год

33

Фамилия: Бут

Имя: Сергей

Отчество: Александрович

Число, месяц, год рождения: 11.08.09

Время выполнения заданий: 40 минут

Инструкция для учащихся

Перед выполнением заданий внимательно прочитайте инструкцию.

Задание № 1 включает 10 вопросов. К каждому вопросу даны варианты ответов, из которых нужно выбрать правильный вариант ответа. За каждый правильный ответ 1 балл. Общее количество баллов – 10.

Задание № 2 включает задание, в котором необходимо правильно вписать названия музыкальных инструментов симфонического оркестра по группам. За каждый правильный ответ 1 балл. Общее количество баллов – 16.

Задание № 3 в этом задании вам нужно написать определение терминов, за каждый правильный ответ 1 балл. Общее количество баллов – 5.

Задание № 4 разгадать ребус. Общее количество баллов – 4.

Общее количество баллов за 4 задания 35 баллов.

Задание № 1

Выберите из предложенных ответов верный:

1. Как называется балет Р.Щедрина?

- А) «Кармен – сюита» +    В) «Кармен – симфония»  
Б) «Кармен – соната»    Г) «Кармен – fuga»

2. Исполнители какого музыкального направления объединяются в банды?

- А) джаз +    Б) рок    В) блюз    Г) панк

3. Какая шекспировская пьеса легла в основу мюзикла и оперы?

- А) «Укрощение строптивой» +     В) «Ромео и Джульетта»

- Б) «Венецианский купец»    Г) «Много шума из ничего»

4. Какой из жанров в музыке означает «Качание на волнах»:

- А) Ноктюрн    В) Сюита  
 Б) Баркарола +    Г) Романс

5. Как называется сообщество музыкантов, членами которого были М.П.Мусоргский, М.А.Балакирев, Ц.Кюи?

- А) «Единая Россия»    В) «Мир искусства»  
 Б) «Могучая кучка» +    Г) «Новая волна»

6. На каком «языке» говорит – музыка?

- А) Линия и пятно    В) Цвет  
 Б) Звук и интонация +    Г) Объём

7. Как называется оперетта И.Штрауса?

- А) «Летучая мышь» +    В) «Летучая рыба»  
Б) «Летучая собака»    Г) «Летучая белка»

8. Какого певца юмористы назвали «сигнализацией нашей эстрады»?

- А) Баскова    +     В) Витаса  
Б) Буйнова    Г) Киркорова

9. Как называется инструментальное вступление к опере, балету, оперетте?

- А) Рапсодия    В) Прелюдия  
 Б) Увертюра +    Г) Симфония

10. Кто не является бардом?

- А) Окуджава    В) Визбор  
Б) Высоцкий    +     Г) Газманов

95

Задание № 2

Дайте определения терминам:

1. Ноктюрн – небольшое лирическое музыкальное произведение.
2. Баркарола – песня венецианских gondoleros, поётся в венецианском стиле.
3. Кульминация – кульминация действия через метафоры +
4. Тарантелла – итальянский нар. тан. в быстрой, ожив. темпе, а также муз. пьеса в таком темпе. +

5. Одноголосие – принцип, при котором звуки координируются в виде попевочек. Во времени (мелодия), один голос ♪

Задание № 3

Симфонический оркестр. Расставьте правильно по группам инструменты:

- Гобой      Альт      Контрабас      Валторна
- Скрипка      Тромбон      Ксилофон      Кларнет
- Литавры      Барабан      Флейта      Фагот
- Туба      Виолончель      Тарелки      Труба

Струнные смычковые	Духовые деревянные	Духовые медные	Ударные
Виолончель	Флейта	Труба	Тарелки
Скрипка	Кларнет	Туба	Барабан
Альта	Гобой	Валторна	Слитавры
Контрабас	Фагот	Тромбон	Ксилофон

♠      ♠      ♠      ♠

♪ 16.

Задание № 4

Разгадай ребус. Зашифрована фраза великого русского композитора П.И. Чайковского.



Мемория - душа музыки.

♪ ♠

Вспросническая олимпиада школьников

Школьный этап по музыке 8 класса

2023-2024 учебный год

Фамилия: Мавельд 33

Имя: Арина

Отчество: \_\_\_\_\_

Число, месяц, год рождения: 16.01.2009

Время выполнения задания: 40 минут

Инструкция для учащихся

Перед выполнением заданий внимательно прочитайте инструкцию.

Задание № 1 включает 10 вопросов. К каждому вопросу даны варианты ответов, из которых нужно выбрать правильный вариант ответа. За каждый правильный ответ 1 балл. Общее количество баллов – 10.

Задание № 2 включает задание, в котором необходимо правильно написать названия музыкальных инструментов симфонического оркестра по группам. За каждый правильный ответ 1 балл. Общее количество баллов – 16.

Задание № 3 в этом задании вам нужно написать определённые термины, за каждый правильный ответ 1 балл. Общее количество баллов – 5.

Задание № 4 распалать ребус. Общее количество баллов – 4.

Общее количество баллов за 4 задания 35 баллов.

Задание № 1

Выберите из предложенных ответов верный:

1. Как называется балет Р.Щедрина? 1

А) «Кармен – скиталец»    В) «Кармен – симфония»

Б) «Кармен – соната»    Г) «Кармен – фантаз»

2. Используйте ли какого музыкального направления объясняются в балеты?

А) джаз    Б) рок    В) блюз    Г) танк 1

3. Какая шедевривка была написана в основу мюзикла и оперы?

А) «Укрощение строптивого»    В) «Ромео и Джульетта» —

Б) «Венецианский купец»    Г) «Много шума из ничего»

4. Какое из жанров в музыке означает «Качиние на волнах»:

А) Ноктюрн    В) Сюита

Б) Баркарола    Г) Романс +

5. Как называется сообщество музыкантов, членами которого были М.П.Мусоргский, М.А.Балакирев, Ц.Кюи?

А) «Единая Россия»    В) «Мир искусства» +

Б) «Могучая кучка»    Г) «Новая волна»

6. На каком языке говорит – мучика?

А) Латвия и явто    В) Цвет

Б) Звук и интонация    Г) Обаян +

7. Как называется оперета И.Штрауса?

А) «Летучая мышь»    В) «Летучая рыба» +

Б) «Летучая собака»    Г) «Летучая белка»

8. Какого певца юмористы назвали «свиной пинией нашей страны»?

А) Басков     Б) Витаса +

В) Бульова    Г) Киркорова

9. Как называется инструментальное выступление к опере, балету, оперетте?

А) Рандолия    В) Прелюдия +

Б) Увертюра    Г) Симфония

10. Кто не является бардом?

А) Оруэлл    В) Вилбор

Б) Виллелли     Г) Ланов +

Задание № 2

Дайте определения терминам:

1. Ноктюрн – кабальное широкое произведение —

2. Баркарола – морская веселая, ритмичная танцевальная +

3. Кюминания – юмористическое произведение +

4. Трагедия – имеет антик. характер, трагический конец +

5. Одноименно - муз. солов, симфоничный оркестр в 3 частях, малая симфония № 3

Симфонический оркестр. Расставьте правильно по группам инструменты:

Гобой Альт Контрабас Вальторна  
 Скрипка Тромбон Ксилофон Кларнет  
 Литавры Барабан Флейта Флагот  
 Туба Виолончель Гарелки Труба

Струнные смычковые	4	4	4	4	Ударные
Альта	Гобой	Тромбон	Духовые медные	Вальторна	
Контрабас	Флагот	Вальторна	Труба	Кларнет	
Скрипка	Кларнет	Труба	Ударные	Вальторна	
Виолончель	Контрабас	Ударные		Кларнет	

Задание № 4

Разгадай ребус. Зашифрована фраза великого русского композитора П.И. Чайковского



Мелодия - душа музыки +4

Всероссийская олимпиада школьников

Школьный этап по музыке 8 класс

2023-2024 учебный год

Фамилия: Тимофеев 34 балла

Имя: Дмитрий

Отчество: Тимофеевич

Число, месяц, год рождения: 10.06.2009

Время выполнения заданий: 40 минут

Инструкция для учащихся

Перед выполнением заданий внимательно прочитайте инструкцию.

Задание № 1 включает 10 вопросов. К каждому вопросу даны варианты ответов, из которых нужно выбрать правильный вариант ответа. За каждый правильный ответ 1 балл. Общее количество баллов – 10.

Задание № 2 включает задание, в котором необходимо правильно вписать названия музыкальных инструментов симфонического оркестра по группам. За каждый правильный ответ 1 балл. Общее количество баллов – 16.

Задание № 3 в этом задании вам нужно написать определение терминов, за каждый правильный ответ 1 балл. Общее количество баллов – 5.

Задание № 4 разгадать ребус. Общее количество баллов – 4.

Общее количество баллов за 4 задания 35 баллов.

Задание № 1

Выберите из предложенных ответов верный:

1. Как называется балет Р.Щедрина?

- +  А) «Кармен – сюита»    В) «Кармен – симфония»  
Б) «Кармен – соната»    Г) «Кармен – fuga»

2. Исполнители какого музыкального направления объединяются в банды?

- +  А) джаз    Б) рок    В) блюз    Г) панк

3. Какая шекспировская пьеса легла в основу мюзикла и оперы?

- +  А) «Укрощение строптивой»     Б) «Ромео и Джульетта»

- Б) «Венецианский купец»    Г) «Много шума из ничего»

4. Какой из жанров в музыке означает «Качание на волнах»:

- А) Ноктюрн    В) Сюита  
+  Б) Баркарола    Г) Романс

5. Как называется сообщество музыкантов, членами которого были М.П.Мусоргский, М.А.Балакирев, Ц.Кюи?

- А) «Единая Россия»    В) «Мир искусства»  
+  Б) «Могучая кучка»    Г) «Новая волна»

6. На каком «языке» говорит – музыка?

- А) Линия и пятно    В) Цвет  
+  Б) Звук и интонация    Г) Объём

7. Как называется оперетта И.Штрауса?

- +  А) «Летучая мышь»    В) «Летучая рыба»  
Б) «Летучая собака»    Г) «Летучая белка»

8. Какого певца юмористы называли «сигнализацией нашей эстрады»?

- +  А) Баскова     В) Витаса  
Б) Буйнова    Г) Киркорова

9. Как называется инструментальное вступление к опере, балету, оперетте?

- А) Равсодия    В) Прелюдия  
+  Б) Увертюра    Г) Симфония

10. Кто не является бардом?

- А) Окуджава    В) Визбор  
+  Б) Высоцкий     Г) Газманов

Задание № 2

Дайте определения терминам:

- 10+  
- 1. Ноктюрн – небольшое лирическое произведение  
+ 2. Баркарола – легкая веселая венецианская танцевальная  
+ 3. Кульминация – самый напряженный момент  
+ 4. Тарантелла – итальянская танцевальная музыка



5. Одноголосие - *написано одним голосом*  
 Задание № 3 *4+*

Симфонический оркестр. Расставьте правильно по группам инструменты:

- Гобой      Альт      Контрабас      Валторна
- Скрипка      Тромбон      Ксилофон      Кларнет
- Литавры      Барабан      Флейта      Фагот
- Туба      Виолончель      Тарелки      Труба

Струнные смычковые	Духовые деревянные	Духовые медные	Ударные
<i>скрипки</i>	<i>флейта</i>	<i>труба</i>	<i>барабан</i>
<i>виолончель</i>	<i>фагот</i>	<i>труба</i>	<i>литавры</i>
<i>контрабас</i>	<i>кларнет</i>	<i>валторна</i>	<i>тарелки</i>
<i>скрипки</i>	<i>контрабас</i>	<i>кларнет</i>	<i>литавры</i>

*4*      *4*      *4*      *4*      *16+*

Задание № 4

Разгадай ребус. Зашифрована фраза великого русского композитора П.И. Чайковского



*Мозарт - душа музыки + 4 балла*

Всероссийская олимпиада школьников

Школьный этап по музыке 8 класс

2023-2024 учебный год

Фамилия: Тундешева

Имя: Виктория

Отчество: Александровна

Число, месяц, год рождения: 30.03.08

Время выполнения заданий: 40 минут

Инструкция для учащихся

Перед выполнением заданий внимательно прочитайте инструкцию.

Задание № 1 включает 10 вопросов. К каждому вопросу даны варианты ответов, из которых нужно выбрать правильный вариант ответа. За каждый правильный ответ 1 балл. Общее количество баллов – 10.

Задание № 2 включает задание, в котором необходимо правильно вписать названия музыкальных инструментов симфонического оркестра по группам. За каждый правильный ответ 1 балл. Общее количество баллов – 16.

Задание № 3 в этом задании вам нужно написать определение терминов, за каждый правильный ответ 1 балл. Общее количество баллов – 5.

Задание № 4 разгадать ребус. Общее количество баллов – 4.

Общее количество баллов за 4 задания 35 баллов.

Задание № 1

Выберите из предложенных ответов верный:

1. Как называется балет Р.Щедрина?  
 А) «Кармен – сюита»    В) «Кармен – симфония»  
Б) «Кармен – соната»    Г) «Кармен – fuga»
2. Исполнители какого музыкального направления объединяются в банды?  
 А) джаз     Б) рок    В) блюз    Г) панк
3. Какая шекспировская пьеса легла в основу мюзикла и оперы?  
А) «Укрощение строптивой»     Б) «Ромео и Джульетта»

3А

Б) «Венецианский купец»    Г) «Много шума из ничего»

4. Какой из жанров в музыке означает «Качание на волнах»:

- А) Ноктюрн    В) Сюита  
 Б) Баркарола    Г) Романс

5. Как называется сообщество музыкантов, членами которого были М.П.Мусоргский, М.А.Балакирев, П.Кюи?

- А) «Единая Россия»    В) «Мир искусства»  
 Б) «Могучая кучка»    Г) «Новая волна»

6. На каком «языке» говорит – музыка?

- А) Линия и пятно    В) Цвет  
 Б) Звук и интонация    Г) Объем

7. Как называется оперетта И.Штрауса?

- А) «Летучая мышь»    В) «Летучая рыба»  
Б) «Летучая собака»    Г) «Летучая белка»

8. Какого певца юмористы назвали «сигнализацией нашей эстрады»?

- А) Баскова     В) Витаса  
Б) Буйнова    Г) Киркорова

9. Как называется инструментальное вступление к опере, балету, оперетте?

- А) Рапсодия    В) Прелюдия  
 Б) Увертюра    Г) Симфония

10. Кто не является бардом?

- А) Окуджава    В) Визбор  
 Б) Высоцкий     Г) Газманов

Задание № 2

Дайте определения терминам:

1. Ноктюрн – *кейбывшее журт. муз. произведение*
- + 2. Баркарола – *народная песня венецианский восточный*
- + 3. Кульминация – *момент наибольшего напряжения*
- + 4. Тарантелла – *итальянский народный танец*

5. Одноголосие – *стиль, основанный на одной мелодии*

**Задание № 3**

Симфонический оркестр. Расставьте правильно по группам инструменты:

Гобой      Альт      Контрабас      Валторна  
 Скрипка      Тромбон      Ксилофон      Кларнет  
 Литавры      Барабан      Флейта      Фагот  
 Туба      Виолончель      Тарелки      Труба

*4                      4                      4                      4*

Струнные смычковые	Духовые деревянные	Духовые медные	Ударные
<i>Виолончель</i>	<i>Гобой</i>	<i>ВАЛТОРНА</i>	<i>БАРАБАН</i>
<i>КОНТРАБАС</i>	<i>КЛАРNET</i>	<i>ТУБА</i>	<i>ЛИТАВРЫ</i>
<i>АЛТ</i>	<i>ФАГОТ</i>	<i>ТРОМБОН</i>	<i>ТАРЕЛКИ</i>
<i>СКРИПКА</i>	<i>ФЛЕЙТА</i>	<i>ТРУБА</i>	<i>КСИЛОФОН</i>

**Задание № 4**

Разгадай ребус. Зашифрована фраза великого русского композитора П.И.Чайковского



*Мелодия – душа музыки*

Всероссийская олимпиада школьников

Школьный этап по музыке 8 класс

2023-2024 учебный год

Фамилия: Числова 33

Имя: Катя

Отчество: Александровна

Число, месяц, год рождения: 28 ноября 2008 г.р.

Время выполнения заданий: 40 минут

Инструкция для учащихся

Перед выполнением заданий внимательно прочитайте инструкцию.

Задание № 1 включает 10 вопросов. К каждому вопросу даны варианты ответов, из которых нужно выбрать правильный вариант ответа. За каждый правильный ответ 1 балл. Общее количество баллов – 10.

Задание № 2 включает задание, в котором необходимо правильно внести названия музыкальных инструментов симфонического оркестра по группам. За каждый правильный ответ 1 балл. Общее количество баллов – 16.

Задание № 3 в этом задании вам нужно написать определение терминов, за каждый правильный ответ 1 балл. Общее количество баллов – 5.

Задание № 4 разгадать ребус. Общее количество баллов – 4.

Общее количество баллов за 4 задания 35 баллов.

Задание № 1

Выберите из предложенных ответов верный:

1. Как называется балет Р.Шедрина?  
+  А) «Кармен – сюита»    В) «Кармен – симфония»  
Б) «Кармен – соната»    Г) «Кармен – фуга»
2. Исполнители какого музыкального направления объединяются в банды?  
+  А) джаз    Б) рок    В) блюз    Г) панк
3. Какая шекспировская пьеса легла в основу мюзикла и оперы?  
+  А) «Укрощение строптивой»     Б) «Ромео и Джульетта»

Б) «Венецианский купец»    Г) «Много шума из ничего»

4. Какой из жанров в музыке означает «Качание на волнах»:

А) Ноктюрн    В) Сюита

+  Б) Баркарола    Г) Романс

5. Как называется сообщество музыкантов, членами которого были М.П.Мусоргский, М.А.Балакирев, П.Кюи?

А) «Единая Россия»    В) «Мир искусства»

+  Б) «Могучая кучка»    Г) «Новая волна»

6. На каком «языке» говорит – музыка?

А) Линия и пятно    В) Цвет

+  Б) Звук и интонация    Г) Объем

7. Как называется оперетта И.Штрауса?

+  А) «Летучая мышь»    В) «Летучая рыба»

Б) «Летучая собака»    Г) «Летучая белка»

8. Какого певца юмористы называли «сигнализацией нашей эстрады»?

+  А) Баскова     Б) Витаса

Б) Буйнова    Г) Киркорова

9. Как называется инструментальное вступление к опере, балету, оперетте?

А) Рапсодия    В) Прелюдия

+  Б) Увертюра    Г) Симфония

10. Кто не является бардом?

А) Окуджава    В) Визбор

-  Б) Высоцкий    Г) Газманов

Задание № 2

Дайте определения терминам:

1. Ноктюрн – педагогическая инструментальная композиция -
2. Баркарола – жанр камерной музыки в Венеции +
3. Кульминация – момент наибольшего напряжения в музыкальном произведении +
4. Тарантелла – итальянская народная танцевальная музыка +

5. Одноголосие – музыка, для которой характерно только однолинейное + мелодичное развитие

Задание № 3

Симфонический оркестр. Расставьте правильно по группам инструменты:

- Гобой            Альт            Контрабас        Валторна
- Скрипка        Тромбон        Ксилофон        Кларнет
- Литавры        Барабан        Флейта            Фагот
- Туба            Виолончель    Тарелки          Труба

Струнные смычковые	Духовые деревянные	Духовые медные	Ударные
Виолончель	гобой	Валторна	Барабан
Контрабас	Кларнет	Труба	Литавры
Альт	Флейта	Туба	тарелки
Скрипка	Флейта	Тромбон	Ксилофон

Задание № 4

Разгадай ребус. Зашифрована фраза великого русского композитора П. И. Чайковского



Мелодия - душа музыки

Всероссийская олимпиада школьников  
школьный этап по музыке 6 класс  
2023-2024 учебный год

Фамилия: Медведева

Имя: Таисия

Отчество: \_\_\_\_\_

Число, месяц, год рождения: 07.05.11

Время выполнения заданий: 40 минут

Инструкция для учащихся

Перед началом работы задание внимательно прочитайте инструкцию.

Задание №1 включает 10 вопросов. К каждому вопросу даны 4 варианта ответа, из которых только один правильный. За каждый правильный ответ - 1 балл. Общее количество баллов - 10.

Задание №2 требует выбрать вариант, в который необходимо внести правильные ответы, из предложенных вариантов. Каждый правильный ответ оценивается в 1 балл. Общее количество баллов за задание - 11.

Задание №3 в этом задании вам нужно написать определение терминов. За каждое правильное определение 1 балл. Общее количество баллов за задание - 5.

Общее количество баллов за 3 задания 24.

Задание № 1

1. Симфония - это:

- А. Крупное музыкальное произведение для оркестра
- Б. Музыкальное произведение для солистов, хора и оркестра
- В. Музыкальное произведение для солирующего инструмента
- Г. Инструментальное вступление к театральному спектаклю

2. Святослав Рихтер, известный:

- А. Пьянист
- Б. Арфист
- В. Аккордеонист
- Г. Арфист

3. Тембр, это:

- А. Настроение в музыке
- Б. Окраска голоса или инструмента
- В. Душа музыки
- Г. Высота звука

20

4. Кто из композиторов НЕ относится к числу великих классиков?

- А. Ф. Шуберт
- Б. И. Гайда
- В. Л. Бетховен
- Г. В. Моцарт

5. Средний мужской певческий голос, это:

- А. Тенор
- Б. Баритон
- В. Бас
- Г. Дискант

6. Что такое камерная музыка?

- А. название хорового произведения,
- Б. музыка, исполняемая небольшим количеством исполнителей в небольшом помещении,
- В. музыка, исполняемая симфоническим оркестром

7. Укажите два английских термина - очень тихо.

- А. «mezzo forte»
- Б. «pianissimo»
- В. «fortissimo»
- Г. «mezzo piano»

8. Назовите автора произведения «Танцы в обмороке из балета «Гамлет».

- А. А. И. Хачатурян
- Б. И. Ф. Стравинский
- В. Р. К. Щедрин
- Г. Р. М. Гайэр

9. Метислав Ростропович известный:

- А. Саксофонист
- Б. Виолончелист
- В. Органист
- Г. Арфист

10. Какой музыкальный инструмент НЕ относится к струнно - смычковой группе симфонического оркестра?

- А. Контрабас
- Б. Челеста
- В. Виолончель
- Г. Альт

Задание № 2

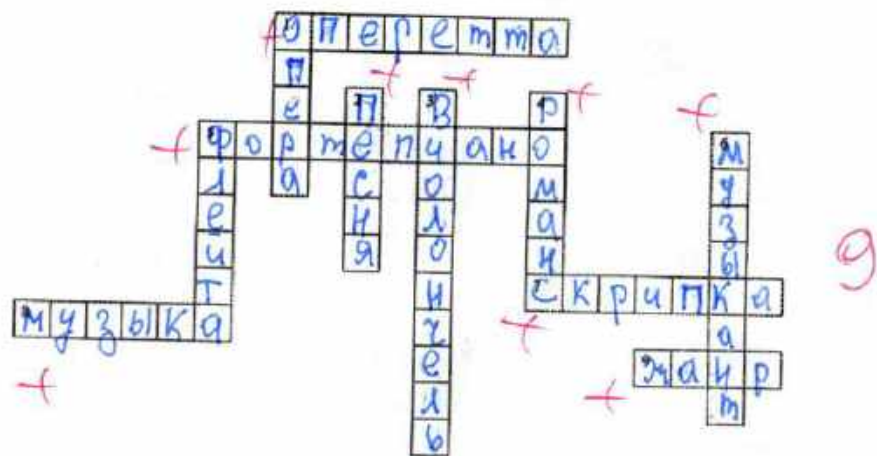
По горизонтали:

1. Музыкально-драматическое произведение (часто с комедийными элементами), в котором поется чередуется с танцами и диалогами.
2. Клавишный музыкальный инструмент.
3. Четырехструнный смычковый музыкальный инструмент высокого регистра.
4. Искусство, отражающее действительность в звуковых художественных образах.
5. Вид музыкальных (художественных) произведений, характеризующийся теми или иными сюжетными или стилистическими признаками.

По вертикали:

1. Музыкально-драматическое произведение, в котором действующие лица поют в сопровождении оркестра.

2. Стихотворное и музыкальное произведение для исполнения голосом или голосами.
3. Смычковый музыкальный инструмент, средний по регистру и размерам между скрипкой и контрабасом.
4. Небольшое лирическое музыкально-поэтическое произведение для голоса с музыкальным сопровождением.
5. Деревянный духовой музыкальный инструмент высокого тона в виде прямой трубки с отверстиями и клапанами.
6. Артист, играющий на музыкальном инструменте.



### Задание № 3

Дайте определения терминам:

1. Бас - самый низкий мужской голос. +
  2. Увертюра - вокально-инструментальное произведение. -
  3. Мажор - музыкальный лад, возмужное настроение -
  4. Пауза - это временная остановка звучания +
  5. Бард - это певец и поэт в средние века +
- 3

Всероссийская олимпиада школьников

школьный этап по музыке 6 класс

2023-2024 учебный год

Фамилия: Сатыхова

Имя: Василиса

Отчество: Александровна

Имя, месяц, год рождения: 17.11.2016

Время выполнения заданий: 40 минут

### Инструмент для учащихся

Ученикам предлагается задание индивидуально прочитать инструкцию.

Задание №1 состоит из 10 вопросов. К каждому вопросу даны 4 варианта ответа, из которых только один правильный. За каждый правильный ответ - 1 балл. Общее количество баллов - 10.

Задание №2 будет вам известно, в который необходимо вписать правильные ответы, пропущенные в задании. За каждое правильное слово начисляется 1 балл. Общее количество баллов за задание - 11.

Задание №3 в этом задании вам нужно написать определение терминов. За каждое правильное определение 1 балл. Общее количество баллов за задание - 5.

Общее количество баллов за 3 задания 24.

### Задание №1

1. Симфония - это:

- А) Крупное музыкальное произведение для оркестра
- Б) Музыкальное произведение для солистов, хора и оркестра
- В) Музыкальное произведение для солирующего инструмента
- Г) Инструментальное вступление к театральному спектаклю

2. Святослав Рихтер, известный:

- А) Пьянист
- Б) Арфист
- В) Аккордеонист
- Г) Арфист

3. Тембр, это:

- А) Настроение в музыке
- Б) Окраска голоса или инструмента
- В) Душа музыки
- Г) Высота звука

4. Кто из композиторов НЕ относится к числу венских классиков:

- А. Ф. Шуберт ✓
- Б. Л. Бетховен
- В. И. Гайда
- Г. В. Моцарт -

5. Средний мужской певческий голос, это:

- А. Тенор
- Б. Баритон ✓
- В. Бас
- Г. Дискант +

6. Что такое камерная музыка?

- А. название хорового произведения,
- Б. музыка, исполняемая небольшим ансамблем в небольшом помещении,
- В. музыка, исполняемая симфоническим оркестром. +

7. Укажите динамический оттенок - очень тихо.

- А. «mezzo forte»
- Б. «pianissimo» ✓ +
- В. «fortissimo»
- Г. «mezzo piano»

8. Назовите автора произведения «Танец с саблями» из балета «Гаяз». +

- А. А. И. Хачатурян ✓
- Б. И. Ф. Стравинский
- В. Р. К. Шеллин
- Г. Р. М. Глазр

9. Мстислав Ростропович известный:

- А. Саксофонист
- Б. Виолончелист
- В. Органист
- Г. Арфист +

10. Какой музыкальный инструмент НЕ относится к струнно - смычковой группе симфонического оркестра?

- А. Контрабас
- Б. Челеста ✓ +
- В. Виолончель
- Г. Альт

### Задание №2

**По горизонтали:**

1. Музыкально-драматическое произведение (часто с комедийными элементами), в котором пение чередуется с танцами и диалогами.
5. Клавишный музыкальный инструмент.
7. Четырехструнный смычковый музыкальный инструмент высокого регистра.
8. Искусство, отражающее действительность в звуковых художественных образах.
9. Вид музыкальных (художественных) произведений, характеризующийся теми или иными сюжетными или стилистическими признаками.

**По вертикали:**

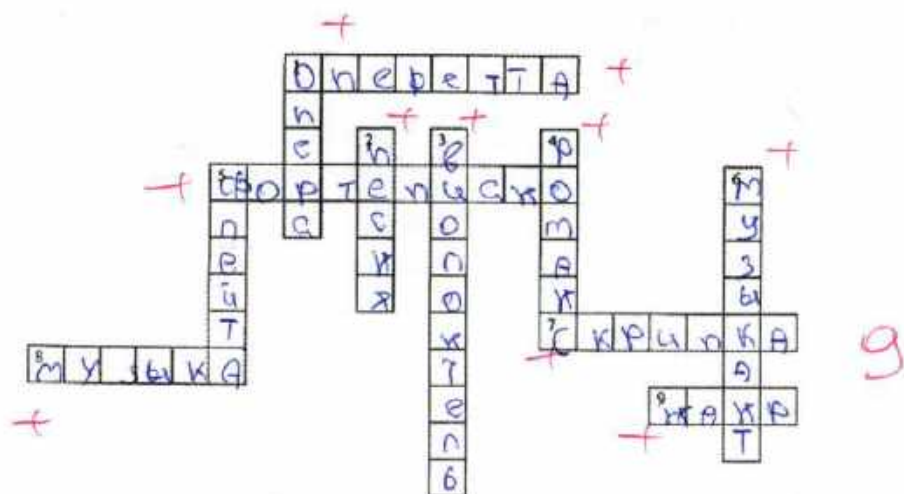
1. Музыкально-драматическое произведение, в котором действующие лица поют в сопровождении оркестра.

20

9



2. Стихотворное и музыкальное произведение для исполнения голосом или голосами.
3. Смычковый музыкальный инструмент, средний по регистру и размерам между скрипкой и контрабасом.
4. Небольшое лирическое музыкально-поэтическое произведение для голоса с музыкальным сопровождением.
5. Деревянный духовой музыкальный инструмент высокого тона в виде прямой трубки с отверстиями и клапанами.
6. Артист, играющий на музыкальном инструменте.



### Задание № 3

Дайте определения терминам:

1. Бас - низкий мужской голос
2. Увертюра - вступление
3. Мажор - веселая тональность
4. Пауза - остановка
5. Бард - певец, исполнитель песен собственн. сочинения.

Музыкальная олимпиада школьников  
школьный этап по музыке 6 класс  
2023-2024 учебный год

Фамилия: Степанова

Имя: Наина

Отчество: Гавриловна

Имя, месяц, год рождения: 10.04.2011

Время выполнения заданий: 40 минут

Инструмент, для которого

\*Прочитайте внимательно задание внимательно прочитайте инструкцию.

Задание №1. Выберите 10 инструментов. К каждому инструменту дан 4 варианта ответа, из которых только один правильный. За каждый правильный ответ - 1 балл. Общее количество баллов - 10.

Задание №2. Вставьте пропущенные названия инструментов, которые необходимо вписать в таблицу. За каждое правильное название начисляется 1 балл. Общее количество баллов за задание - 11.

Задание №3. В этом задании вам нужно написать определение терминов. За каждое правильное определение 1 балл. Общее количество баллов за задание - 5.

Общее количество баллов за 3 задания 24.

Задание № 1

1. Симфония - это:

- А. Крупное музыкальное произведение для оркестра
- Б. Музыкальное произведение для солистов, хора и оркестра
- В. Музыкальное произведение для солирующего инструмента
- Г. Инструментальное вступление к театральному спектаклю

2. Святослав Рихтер, известный:

- А. Пянист
- В. Аккордеонист
- Б. Арфист
- Г. Арфист

3. Тембр, это:

- А. Настроение в музыке
- В. Душа музыки
- Б. Окраска голоса или инструмента
- Г. Высота звука

4. Кто из композиторов НЕ относится к числу венских классиков?

- А. Ф. Шуберт
- В. И. Гайдан
- Б. Л. Бетховен
- Г. В. Моцарт

5. Средний мужской нечастный голос, это:

- А. Тенор
- В. Бас
- Б. Баритон
- Г. Дискант

6. Что такое камерная музыка?

- А. название хорового произведения;
- Б. музыка, исполняемая небольшим количеством в небольшом помещении;
- В. музыка, исполняемая симфоническим оркестром.

7. Укажите динамический оттенок - очень тихо.

- А. «mezzo forte»
- Б. «pianissimo»
- В. «fortissimo»
- Г. «mezzo piano»

8. Выберите автора произведения «Танго с обаянием» из балета «Гамма».

- А. А. И. Хачатурян
- В. Р. К. Щедрин
- Б. И. Ф. Стравинский
- Г. Р. М. Глиэр

9. Метислав Ростропович известный:

- А. Саксофонист
- В. Органист
- Б. Виолончелист
- Г. Арфист

10. Какой музыкальный инструмент НЕ относится к струнно - смычковой группе симфонического оркестра?

- А. Контрабас
- В. Челеста
- Г. Альт

Задание № 2

По горизонтали:

1. Музыкально-драматическое произведение (часто с комедийными элементами), в котором пение чередуется с танцами и диалогами.
5. Клавишный музыкальный инструмент.
7. Четырехструнный смычковый музыкальный инструмент высокого регистра.
8. Искусство, отражающее действительность в звуковых художественных образах.
9. Вид музыкальных (художественных) произведений, характеризующийся теми или иными сюжетными или стилистическими признаками.

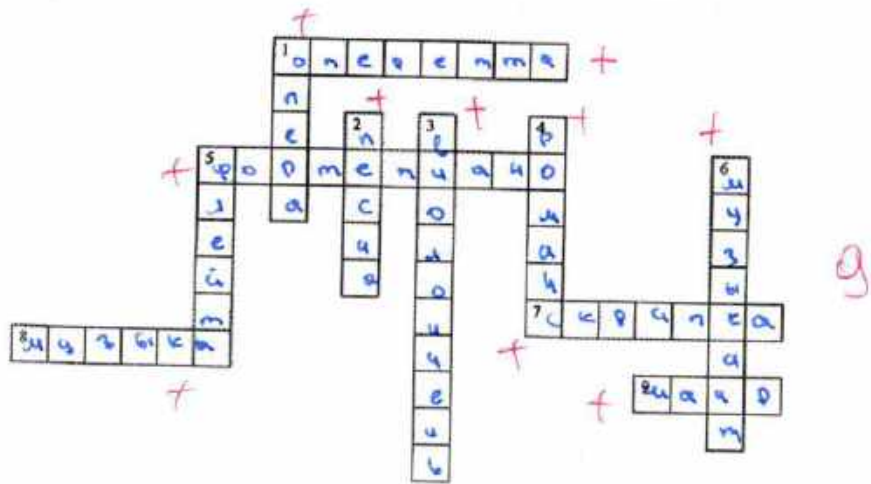
По вертикали:

1. Музыкально-драматическое произведение, в котором действующие лица поют в сопровождении оркестра.

21

8

2. Стихотворное и музыкальное произведение для исполнения голосом или голосами.
3. Смычковый музыкальный инструмент, средний по регистру и размерам между скрипкой и контрабасом.
4. Небольшое лирическое музыкально-поэтическое произведение для голоса с музыкальным сопровождением.
5. Деревянный духовой музыкальный инструмент высокого тона в виде прямой трубки с отверстиями и клапанами.
6. Артист, играющий на музыкальном инструменте.



Задание № 3

Дайте определения терминам:

1. Бас - самый низкий мужское певческий голос +
2. Увертюра - развёрнутая пьеса -
3. Майор - радостный лад +
4. Пауза - прерыв в звучании +
5. Бард - певец +

4

Московская олимпиада школьников

школьный этап по музыке 6 класс

2023-2024 учебный год

Фамилия: Лозубова

Имя: Алиса

Отчество: Дмитриевна

Число, месяц, год рождения: 30.09.2011

Время выполнения заданий: 40 минут

Инструкция для учащихся

1. Прочтите внимательно задания и внимательно прочитайте инструкции.  
2. Задание №1 состоит из 10 вопросов. К каждому вопросу даны 4 варианта ответа, из которых только один правильный. За каждый правильный ответ - 1 балл. Общее количество баллов - 10.

3. Задание №2 - это задание, в котором необходимо написать правильные ответы, соответствующие условию задания. Правильные ответы должны быть записаны разборчиво. За каждое правильное слово начисляется 1 балл. Общее количество баллов за задание - 11.

4. Задание №3 в этом задании вам нужно написать определение терминов. За каждое правильное определение 1 балл. Общее количество баллов за задание - 5.

Общее количество баллов за 3 задания 24.

Задание № 1

1. Симфония - это:

- А. Крупное музыкальное произведение для оркестра
- Б. Музыкальное произведение для солистов, хора и оркестра
- В. Музыкальное произведение для солирующего инструмента
- Г. Инструментальное выступление к театральному спектаклю

2. Святослав Рихтер, известный:

- А. Пьянист
- Б. Арфист
- В. Аккордеонист
- Г. Арфист

3. Тембр, это:

- А. Настроение в музыке
- Б. Окраска голоса или инструмента
- В. Душа музыки
- Г. Высота звука

22

4. Кто из композиторов НЕ относится к числу великих классиков:

- А. Ф. Шуберт
- Б. Л. Бетховен
- В. М. Гайден
- Г. В. Моцарт

5. Средний мужской певческий голос, это:

- А. Тенор
- Б. Баритон
- В. Бас
- Г. Дискант

6. Что такое камерная музыка?

- А. Музыка королевского двора
- Б. Музыка, исполняемая небольшим количеством инструментов в небольшом помещении
- В. Музыка, исполняемая симфоническим оркестром

7. Укажите динамический оттенок - очень тихо.

- А. «mezzo forte»
- Б. «pianissimo»
- В. «fortissimo»
- Г. «mezzo piano»

8. Писатель драмы «Три дня в жизни» - Тургенев известен по балету «Три дня».

- А. А. И. Хачатурян
- Б. И. Ф. Стравинский
- В. Р. К. Щелерин
- Г. Р. М. Глэр

9. Мстислав Ростропович известный:

- А. Саксофонист
- Б. Виолончелист
- В. Органист
- Г. Арфист

10. Какой музыкальный инструмент НЕ относится к струнно - смычковой группе симфонического оркестра?

- А. Контрабас
- Б. Виолончель
- В. Челеста
- Г. Альт

Задание № 2

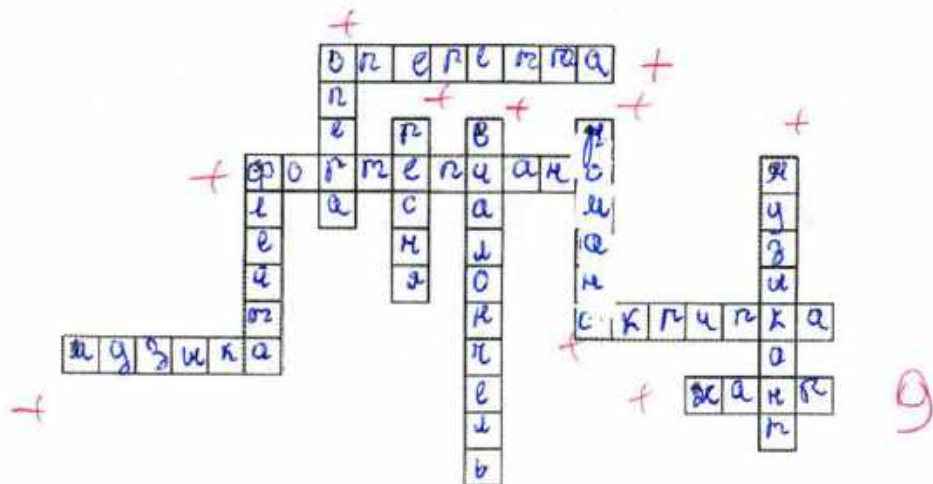
По горизонтали:

- 1. Музыкально-драматическое произведение (часто с комедийными элементами), в котором пение чередуется с танцами и диалогами.
- 5. Клавишный музыкальный инструмент.
- 7. Четырехструнный смычковый музыкальный инструмент высокого регистра.
- 8. Искусство, отражающее действительность в звуковых художественных образах.
- 9. Вид музыкальных (художественных) произведений, характеризующийся теми или иными сюжетными или стилистическими признаками.

По вертикали:

- 1. Музыкально-драматическое произведение, в котором действующие лица поют в сопровождении оркестра.

2. Стихотворное и музыкальное произведение для исполнения голосом или голосами.
3. Смычковый музыкальный инструмент, средний по регистру и размерам между скрипкой и контрабасом.
4. Небольшое лирическое музыкально-поэтическое произведение для голоса с музыкальным сопровождением.
5. Деревянный духовой музыкальный инструмент высокого тона в виде прямой трубки с отверстиями и клапанами.
6. Артист, играющий на музыкальном инструменте.



### Задание № 3

Дайте определения терминам:

1. Бас - самый низкий мужской голос.
2. Увертюра - музыкальное вступление.
3. Мажор - великий радостный лад.
4. Пауза - перемена в музыке.
5. Бард - певец или поэт.

14

Фамилия: Григорьев  
Имя: Иван  
Отчество: Александрович  
Число, месяц, год рождения: 14.07.2010  
Время выполнения задания: 40 минут

Инструкция для учащихся

Перед выполнением задания внимательно прочитайте инструкцию.

Задание № 1 включает 10 вопросов. К каждому вопросу даны варианты ответов, из которых нужно выбрать правильный вариант ответа. За каждый правильный ответ 1 балл. Общее количество баллов – 15.

Задание № 2 включает 3 задания в которых необходимо выбрать из предложенных вариантов ответов и дополнить цитату. За каждый правильный ответ 1 балл. Общее количество баллов – 3.

Задание № 3 в этом задании вам нужно написать определение терминам, на каждый правильный ответ 1 балл. Общее количество баллов – 5.

Общее количество баллов за 3 задания 23 балла.

Задание № 1

1. Кто из представленных ниже композиторов написал пьесу «Времена года»?  
А) М. И. Глинка  
Б) Н. А. Римский - Корсаков  
В) П. И. Чайковский  
Г) А. Вивальди +
2. Перечное пение это .....  
А) одноклассное церковное пение  
Б) церковное многоголосие  
В) вид светской музыки -
3. Из представленных ниже жанров музыкальных произведений выберите те, что являются инструментальными.  
А) романс  
Б) балет  
В) опера  
Г) симфония  
Д) эпос  
Ж) песня  
З) увещание -
4. Кто такой бард?  
А) крестьянский певец  
Б) дворянин-исполнитель.

В) использовать, как синонимичный слова, музыку, исполняемая им песен под аккомпанемент гитары. +

5. Что такое Па-де-де?  
А) название в балете танца паром.  
Б) название в балете танца втроем.  
В) название в балете фольклорного танца. +

6. Что такое романс?  
А) вокальное произведение, объединяющее поэтический текст с несложной, легко запоминающейся мелодией.  
Б) вокальное сочинение, выходящее на небольшие стихотворные поэты - классика лирического содержания. +  
В) вокальное произведение без слов, состоящее только из гласных звуков.

7. К деревянным духовым инструментам симфонического оркестра относятся  
А) скрипка, гобой, валторна, кларнет.  
Б) труба, флюгель, кларнет, фого.  
В) флюгель, гобой, кларнет, фого. +

8. Смешанный хор состоит из .....  
А) мужского хора.  
Б) мужского и женского хором. +  
В) детского хора.

9. Что такое камерная музыка?  
А) название хорového произведения.  
Б) музыка, исполняемая небольшим коллективом в небольшом помещении. +  
В) музыка, исполняемая симфоническим оркестром.

10. Музыкальный жанр, возникший в Италии на рубеже 16-17 веков, название которого в переводе с итальянского означает «груда», «сочинение».  
А) кантата  
Б) балет  
В) опера +  
Г) соната

Задание № 2

Дополни цитату:  
1. "Цель музыки - ... (И. С. Бак.)  
А) пролить сердце  
Б) душа моя -  
В) свет в музыке, имя тебе +

2. «Музыка - это откровение более высокое» ..... (Л.В. Бетховен)

А) универсальный язык человечества

Б) поэзия воздуха

В) чем мудрость и философия

3. Музыка соединяет народ. Мы композиторы ..... (М.И. Глинка)

А) отечество ее - вся вселенная

Б) только архаизируем ее

В) лучшим печаль

Задание № 3

Дополни определение:

1. Рок-опера -

опера, основанная на роке

2. Эпос -

Управление для павицеф

3. Соната -

произведение для фортепиано, исполняющееся одним человеком -

4. А капелла -

песня без музыки

5. Ритмо -

это муз. форма. Схема ABCABC

4

19

Фамилия: Ваикова

Имя: Мария

Отчество: Павловна

Число, месяц, год рождения 02.01.2011

Время выполнения задания: 40 минут

Инструкция для учащихся

Перед выполнением задания внимательно прочитайте инструкцию.

Задание № 1 включает 10 вопросов. К каждому вопросу даны варианты ответов, из которых нужно выбрать правильный вариант ответа. За каждый правильный ответ 1 балл. Общее количество баллов – 15

Задание № 2 включает 3 задания в которых необходимо выбрать из предложенных вариантов ответов и докончить фразу. За каждый правильный ответ 1 балл. Общее количество баллов – 3

Задание № 3 в этом задании вам нужно написать определение термина, за каждый правильный ответ 1 балл. Общее количество баллов – 5.

Общее количество баллов за 3 задания 23 балла.

Задание № 1

1. Кто из представленных ниже композиторов написал пьеса «Времена года»?

А) М.И. Глинка

В) Н.А. Римский - Корсаков

Б) П.И. Чайковский

Г) А. Вивальди

2. Народное песня это .....

А) одностопное церковное песнопение;

Б) церковное многоголосие;

В) вид светской музыки

3. Из представленных ниже жанров музыкальных произведений выберите те, что являются инструментальными

А) романс

В) балет

Д) опера

Ж) пьеса

Б) прелюдия

Г) симфония

Е) стод

З) увертюра

4. Кто такой бард?

А) страдальный певец;

Б) лжец, который исполнителю;

В) исполнитель, сам сочиняющий стихи, музыку, исполняемый им песня под аккомпанемент гитары.

5. Что такое Па-де-де?

А) название в балете танца балерм;

Б) название в балете танца втроем;

В) название в балете большого танца.

6. Что такое романс?

А) жанровое произведение, объединяющее поэтический текст с несложной, легко запоминающейся мелодией;

Б) вокальное сочинение, написанное на небольшое стихотворение поэта - классика лирического содержания;

В) вокальное произведение без слов, состоящее только из гласных звуков.

7. К деревянным духовым инструментам симфонического оркестра относятся:

А) скрипка, гобой, валторна, кларнет;

Б) труба, флейта, кларнет, фант;

В) флейта, гобой, кларнет, фант

8. Смешанный хор состоит из .....

А) мужского хора;

Б) мужского и женского хоров;

В) детского хора.

9. Что такое камерная музыка?

А) название хорового произведения;

Б) музыка, исполняемая небольшой коллективом в небольшом помещении;

В) музыка, исполняемая симфоническим оркестром.

10. Музыкальный жанр, возникший в Италии на рубеже 16-17 веков, название которого в переводе с итальянского означает «труд», «сочинение»:

А) кантата

Б) балет

В) опера

Г) сюита

Задание № 2

Докончи фразу:

1. "Цель музыки - ..." (И.С. Бак)

А) трепать сердце

Б) дунуть нос

В) свет в музыка, имя тебе



2. «Музыка - это откровение более высокое» ..... (Л.В. Бетховен)

А) универсальный язык человечества

Б) поэзия воздуха

В) чем мудрость и философия

+

3. Музыка соединяет народ. Мы композиторы ..... (М.И. Глинка)

А) отечество ее - вся вселенная

Б) только аранжируем ее

В) глушим печаль

+

3

Задание № 3

Дополни определение

1. Рок-опера - жанр рок-музыки. +

2. Укул - это инструментальная пьеса. -

3. Соната -

4. А капелла - пение без инструментального сопровождения. +

5. Рондо -

Всероссийская олимпиада школьников

Школьный этап по музыке 7 классе

2023-2024 учебный год

14

Фамилия: Мухоморова

Имя: Александр

Отчество: Александрович

Число, месяц, год рождения: 24.01.2010

Время выполнения заданий: 40 минут

Инструкция для учащихся

Перед выполнением заданий внимательно прочитайте инструкцию.

**Задание № 1** включает 10 вопросов. К каждому вопросу даны варианты ответов, из которых нужно выбрать правильный вариант ответа. За каждый правильный ответ 1 балл. Общее количество баллов – 15

**Задание № 2** включает 3 задания в которых необходимо выбрать из предложенных вариантов ответов и дополнить цитату. За каждый правильный ответ 1 балл. Общее количество баллов – 3

**Задание № 3** в этом задании вам нужно написать определение терминов, за каждый правильный ответ 1 балл. Общее количество баллов – 5.

**Общее количество баллов за 3 задания 23 балла.**

Задание № 1

1. Кто из представленных ниже композиторов написал цикл «Времена года»?
- А) М.И. Глинка
  - Б) П.И. Чайковский
  - В) Н.А. Римский - Корсаков
  - Г) А.Вивальди

2. Церковное пение это .....
- А) единственное церковное пение;
  - Б) церковное многоголосие;
  - В) вид светской музыки

3. Из представленных ниже жанров музыкальных произведений выберите те, что являются инструментальными:
- А) романс
  - Б) балет
  - В) опера
  - Г) симфония
  - Д) опера
  - Е) танец
  - Ж) песня
  - З) увертюра

4. Кто такой бард?
- А) жрицкий певец;
  - Б) жаконий исполнитель;

5. Что такое «Пар-де-се»?
- А) название в балете танца вальса;
  - Б) название в балете танца вприсяд;
  - В) название в балете большого танца.

6. Что такое романс?

- А) повальное произведение, объединяющее поэтический текст с инструментальной, жестко закоординированная мелодией;
- Б) вокальное сочинение, написанное на небольшие стихотворные поэты - классика лирического содержания;
- В) вокальное произведение без слов, состоящее только из гласных звуков.

7. К деревянным духовым инструментам симфонического оркестра относятся:

- А) скрипка, гобой, валторна, кларнет;
- Б) труба, флейта, кларнет, фанот;
- Г) флейта, гобой, кларнет, фанот.

8. Смешанный хор состоит из .....

- А) мужского хора
- Б) мужского и женского хоров;
- В) детского хора

9. Что такое камерная музыка?

- А) название хорошего произведения;
- Б) музыка, исполняемая небольшим коллективом в небольшом помещении;
- Г) музыка, исполняемая симфоническим оркестром;

10. Музыкальный жанр, возникший в Италии на рубеже 16-17 веков, название которого в переводе с итальянского означает «струда, усердие»:

- А) кантата
- Б) балет
- Г) опера
- Г) соната

Задание № 2

Дополни цитату:

1. "Сель музыки - ....." (И.С. Бак)

- А) тропать сердце
- Б) душа моя
- В) свет в музыке, имя тебе

2. Музыка - это откровение более высокое ..... (Л.В. Бетховен)

- A) универсальный язык человечества
- B) поэзия воздуха
- B) чистая мудрость и философия

3. Музыка сочиняет народ. Мы композиторы ..... (М.И. Глинка)

- A) общество ее - вся вселенная
- B) только транслируем ее...
- B) глупым печаль

#### Задание № 3

Дополни определение

1. Рок-опера - *мюзикл, мюзиклетто - субжанры рок-музыки*
2. Эпос - *литературно-художественная повесть*
3. Соната - *жанр инструментальной музыки*
4. А капелла - *хоровое пение*
5. Рандо - *литературная форма, близкая по форме к*

Всероссийская олимпиада школьников

Школьный этап по музыке 7 класс

2023-2024 учебный год

24

Фамилия: Курневич

Имя: Александр

Отчество: Сергеевич

Число, месяц, год рождения: 15.01 2010

Время выполнения задания: 40 минут

**Инструкция для учащихся**

Перед выполнением заданий внимательно прочитайте инструкцию.

**Задание № 1** включает 10 вопросов. К каждому вопросу даны варианты ответов, из которых нужно выбрать правильный вариант ответа. За каждый правильный ответ 1 балл. Общее количество баллов – 15.

**Задание № 2** включает 3 задания, в которых необходимо выбрать из предложенных вариантов ответов и дополнить текст. За каждый правильный ответ 1 балл. Общее количество баллов – 3.

**Задание № 3** в этом задании вам нужно написать определение терминов, за каждый правильный ответ 1 балл. Общее количество баллов – 5.

**Общее количество баллов за 3 задания 23 балла.**

**Задание № 1**

1. Кто из представленных ниже композиторов написал цикл «Времена года»?  
 А) М. И. Глинка  
 Б) П. И. Чайковский  
 В) П. А. Римский - Корсаков  
 Г) А. Вивальди **+**
2. Партерное пение это.....  
 А) одноголосное церковное песнопение.  
 Б) оперное милое пение.  
 В) вокальная музыка **+**
3. Из представленных ниже жанров музыкальных произведений выберите те, что являются инструментальными.  
 А) романс  
 Б) балет  
 В) прелюдия  
 Г) симфония  
 Д) опера  
 Е) твист  
 Ж) песня  
 З) увертюра **+**
4. Кто такой бард?  
 А) традиционный певец.  
 Б) джазовый исполнитель. **+**

Исподпідсвідомість, сам собою виокремлює слова, музику, ісполнюваних їм пісень под аккомпанемент гітари

5. Что такое романс?

- название в балете танца вальса.
- название в балете танца втроем.
- название в балете большого танца.

6. Что такое романс?

- название прочтенное, объединяющее поэтический текст с музыкальной, легко запоминающейся мелодией.
- вокальное сочинение, написанное на свободное стихотворение поэта - классика лирического содержания.
- название произведения без слов, состоящее только из гласных звуков.

7. К деревянным духовым инструментам симфонического оркестра относятся:

- скрипка (обой валторна, кларнет).
- труба, флейта, кларнет, фанго.
- флейта, обой, кларнет, фанго. **+**

8. Смешанный хор состоит из .....

- мужского хора.
- мужского и женского хоров. **+**
- детского хора.

9. Что такое камерная музыка?

- название хорошего произведения.
- музыка, исполняемая небольшим коллективом в небольшом помещении.
- музыка, исполняемая симфоническим оркестром.

10. Музыкальный жанр, возникший в Италии на рубеже 16-17 веков, название которого в переводе с итальянского означает «группа, сочинение»:

- капелла
- балет
- опера **+**
- симфония

15

**Задание № 2**

Дополни цитату:

1. "Цель музыки - ... (И. С. Бак)

- прогнать сердце **+**
- душа моя
- свет в музыке, имя тебе

2. «Музыка - это откровение более высокое .....» (Л. В. Бетховен)

А) универсальный язык человечества

Б) поэзия воздуха

В) джем музурость и философия

7

3. Музыка сочиняет народ. Мы композиторы ..... (М. И. Глинка)

А) отечество ее - вся вселенная

Б) только окружаем ее...

В) глушим пенью.

3

4

### Задание № 3

Дополни определение:

1. Рок-опера - *Этюдера в жанре рок-музыка.* +
2. Эпол - *Это интермедийная пьеса на божью тему.* -
3. Соната - *Это жанр инструментальной музыки.* +
4. А капелла - *Это певчие (хоровые) без инструментального сопровождения.* +
5. Ренессанс - *Это возрождение с ренессансом (привет).* -

3

Фамилия: Сурова  
Имя: Александра  
Отчество: Сергеевна  
Число, месяц, год рождения: 28.09.12

Время выполнения задания: 40 минут  
Инструкция для учащихся

Перед выполнением заданий внимательно прочитайте инструкции.

Задание №1 включает 10 вопросов. К каждому вопросу даны 4 варианта ответа, из которых только один правильный. За каждый правильный ответ - 1 балл. Общее количество баллов - 10.

Задание №2 перед вами кроссворд, в который необходимо вписать правильные ответы, внимательно читайте вопросы, ответы записывать необходимо в подготовленном листочке. Если все ваши ответы будут правильными, то в вертикальных клетках появится название музыкального инструмента. За каждое правильное слово начисляется 1 балл. За правильное ключевое слово 2 балла. Общее количество баллов за задание - 9.

Задание №3 в этом задании вам нужно написать определение терминов. За каждое правильное определение 1 балл. Общее количество баллов за задание - 5.

Общее количество баллов за 3 задания 24 балла.

Задание №1

1. Крупное музыкальное произведение для симфонического оркестра, состоящее из 4 частей, разного характера, объединенных общей темой, называется:

- А. ора́тория
- Б. увертюра
- В. кантата
- Г. симфония

2. В какой форме пишутся песни?

- А. двухчастная
- Б. трехчастная
- В. куплетная
- Г. вариационная

3. Укажите общий жанр, как для музыки, так и для литературы:

- А. симфония
- Б. токката
- В. баллада
- Г. соната

4. Автор балета «Лебединое озеро»:

- А. Г. Липка
- Б. Римский - Корсаков
- В. Чайковский
- Г. Рахманинов

5. Высочайший мужской голос, это:

- А. бас - профурадо
- Б. баритон
- Г. тенор
- Д. сопрано

6. Инструментальная пьеса, предназначенная для усовершенствования техники исполнителя, называется:

- А. соната
- Б. этюд

В. скерцо

7. Назови инструменты, которые относятся к клавишным?

- А. скрипка, виолончель, контрабас
- Б. барабан, литавры, бубен
- В. рояль, фортепиано, орган
- Г. гобой, флюгель

8. Музыкальный жанр, который зависит от литературы?

- А. симфония
- Б. балет
- В. опера
- Г. оратория

9. В каком старом балете П. И. Чайковского принц побеждает армию крыс?

- А. «Лебединое озеро»
- Б. «Спящая красавица»
- В. «Щелкучичко»
- Г. «Ромео и Джульетта»

10. В какой стране возникла опера?

- А. Франция
- Б. Италия
- В. Польша
- Г. Германия

Задание №2

1. Мастер струнных инструментов.
2. Острое музыкального произведения.
3. Певческий коллектив.
4. Качественный музыкальный инструмент.
5. Скорость движения.
6. Скрипичный...
7. Графическое обозначение звука.

и	о	м	а	с	т	р	а	г	у	и	б	а	р	ы
и	е	ш	н	а	н	и	н	о						
и	о	м	а	к	т									
и	о	м	а	к	т									

Дайте определение терминам:

Задание №3

1	Аккорд	Звучащие вместе звуки образуют группу звуков.
2	А капелла	Выполнение пьес без инструментального сопровождения.
3	Балет	Сценическое искусство.
4	Дилемма	Ситуация выбора между двумя вариантами.
5	Квартет	Музыкальный ансамбль из четырех участников.

Фамилия: Дергачев  
Имя: Сард  
Отчество: Жукович  
Число, месяц, год рождения: 24.10.2014

Время выполнения задания 40 минут

Инструкция для учащихся

Перед выполнением задания внимательно прочитайте инструкцию.

Задание №1 включает 10 вопросов. К каждому вопросу даны 4 варианта ответа, из которых только один правильный. За каждый правильный ответ - 1 балл. Общее количество баллов - 10.

Задание №2 перед вами проговорит, в который необходимо вписать правильные ответы, внимательно читайте вопросы, ответы записывайте разборчивым почерком. Если все ваши ответы будут правильными, то в вертикальных клетках появится название музыкального инструмента. За каждое правильное слово начисляется 1 балл. За правильное ключевое слово 2 балла. Общее количество баллов за задание - 9.

Задание №3 в этом задании вам нужно написать определение терминов. За каждое правильное определение 1 балл. Общее количество баллов за задание - 5.

Общее количество баллов за 3 задания 24 балла.

Задание №1

1. Крупное музыкальное произведение для симфонического оркестра, состоящее из 4 частей, разного характера, объединённых общей темой, называется:

- А. оратория
- Б. увертюра
- В. кантата
- Г. симфония

2. В какой форме пишутся сонаты?

- А. двухчастная
- Б. трехчастная
- В. куплетная
- Г. вариационная

3. Укажите общий жанр, как для музыки, так и для литературы:

- А. симфония
- Б. токката
- В. баллада
- Г. соната

4. Автор балета «Лебединое озеро»:

- А. Глинка
- Б. Римский - Корсаков
- В. Чайковский
- Г. Рахманинов

5. Высокый мужской голос, это:

- А. бас
- Б. баритон
- В. тенор
- Г. сопрано

6. Инструментальная пьеса, предназначенная для усовершенствования техники исполнения, называется:

- А. соната
- Б. этюд

В. скерцо  
Г. сюита

7. Назови инструменты, которые относятся к клавишным?

- А. скрипка, виолончель, контрабас
- Б. барабан, литавры, бубен
- В. рояль, фортепиано, орган
- Г. гобой, фанот, флейта

8. Музыкальный жанр, который зависит от литературы?

- А. симфония
- Б. балет
- В. пьеса
- Г. оратория

9. В каком сезоне балете П. И. Чайковского принц побеждает армию крас?

- А. «Лебединое озеро»
- Б. «Летняя сказавица»
- В. «Шелкунчик»
- Г. «Ромео и Джульетта»

10. В какой стране возникла опера?

- А. Франция
- Б. Италия
- В. Польша
- Г. Германия

Задание №2

1. Мастер струнных инструментов
2. Ортеок музыкального произведения
3. Невеселый коллектив
4. Клавишный музыкальный инструмент
5. Скорость движения
6. Серпичный
7. Радиическое обозначение звука

1	2	3	4	5	6	7	8	9	10
И	Т	Х	А	И	К	И	А	И	И
М	О	О	И	А	И	И	И	О	
Т	А	Р	И	И	И	И	И	О	
И	К	Д	И	И	И	И	И	О	
Т	К	И	И	И	И	И	И	О	
И	Т	И	И	И	И	И	И	О	
И	Т	И	И	И	И	И	И	О	
И	Т	И	И	И	И	И	И	О	
И	Т	И	И	И	И	И	И	О	

Дайте определение терминам:

Задание №3

1	Аккорд	Сочетание звуков в такт и бойл	
2	А капелла	Хор без помощи инструментов	
3	Балет	Сочетание танца и музыки	
4	Дюэтанка	Жанр вокального искусства	
5	Квартет	Сочетание 4 музыкантов	

Фамилия: Фролова  
Имя: Вера  
Отчество: Владимировна  
Число, месяц, год рождения: 29.06.2012

Время выполнения заданий: 40 минут

Инструкция для учащихся

Перед выполнением заданий внимательно прочитайте инструкцию.

Задание №1 включает 10 вопросов. К каждому вопросу даны 4 варианта ответа, из которых только один правильный. За каждый правильный ответ - 1 балл. Общее количество баллов - 10.

Задание №2 перед вами кроссворд, в который необходимо вписать правильные ответы, внимательно читайте вопросы, ответы записывайте разборчивым почерком. Если все ваши ответы будут правильными, то в вертикальных клетках появится название музыкального инструмента. За каждое правильное слово начисляется 1 балл. За правильное ключевое слово 2 балла. Общее количество баллов за задание - 9.

Задание №3 в этом задании вам нужно написать, определить термин. За каждое правильное определение 1 балл. Общее количество баллов за задание - 5.

Общее количество баллов за 3 задания 24 балла.

Задание №1

1. Крупное музыкальное произведение для симфонического оркестра, состоящее из 4 частей, разного характера, объединённых общей темой, называется:

- А. оперетта
- Б. увертюра
- В. кантата
- Г. симфония

+

2. В какой форме пишется песня?

- А. двухчастная
- Б. трёхчастная
- В. куплетная
- Г. вариационная

+

3. Укажите общий жанр, как для музыки, так и для литературы:

- А. симфония
- Б. токката
- В. баллада
- Г. соната

+

4. Автор балета «Лебединое озеро»:

- А. Глинка
- Б. Римский - Корсаков
- В. Чайковский
- Г. Рахманинов

+

5. Высший мужской голос, это:

- А. бас - профундо
- Б. тенор
- Г. сопрано
- Г. бас

-

6. Инструментальная пьеса, предназначенная для усовершенствования техники исполнителя, называется:

- А. соната
- Б. этюд

+

В. скрипка

Г. скрипка

7. Назови инструменты, которые относятся к клавишным?

А. скрипка, виолончель, контрабас

Б. барьяк, лигатура, бубен

В. рояль, фортепиано, орган

+

Г. гобой, флюгель, флейта

8. Музыкальный жанр, который возник от литературы?

А. симфония

Б. балет

В. опера

+

Г. оратория

9. В каком сказочном балете П. И. Чайковского принц побеждает армию кузца?

А. «Лебединое озеро»

Б. «Спящая красавица»

В. Щелкунчик

+

Г. «Ромео и Джульетта»

10. В какой стране возникла опера?

А. Франция

Б. Италия

+

В. Польша

Задание №2

1. Мастер струнных инструментов.

2. Отросток музыкального произведения.

3. Невеселый коллэктив.

4. Крайний музыкальный инструмент.

5. Скорость движения.

6. Скрипичный ...

7. Гидрофическое обозначение звука.

+

Кроссворд:

М	О	М	О	С	М	Р	А	Д	В	А	Р	И
М	Е	М	И	М	А	М	+	М	А	М	+	М
М	Е	М	И	М	А	М	+	М	А	М	+	М
М	Е	М	И	М	А	М	+	М	А	М	+	М
М	Е	М	И	М	А	М	+	М	А	М	+	М
М	Е	М	И	М	А	М	+	М	А	М	+	М
М	Е	М	И	М	А	М	+	М	А	М	+	М
М	Е	М	И	М	А	М	+	М	А	М	+	М
М	Е	М	И	М	А	М	+	М	А	М	+	М
М	Е	М	И	М	А	М	+	М	А	М	+	М

Дайте определение терминам:

Задание №3

1	Анкорд	<u>создающие ритм и более звонкий</u>	+
2	А канцелли	<u>короткие</u>	+
3	Балет	<u>театр</u>	+
4	Линдберг	<u>представитель шведского оперного искусства</u>	+
5	Кларнет	<u>духовный</u>	+



Фамилия: Иванович  
 Имя: Иван  
 Отчество: Иванович  
 Число, месяц, год рождения: 12.10.12

Время выполнения задания: 40 минут

Инструкция для учащихся

Перед выполнением заданий внимательно прочитайте инструкцию.

Задание №1 включает 10 вопросов. К каждому вопросу даны 4 варианта ответа, из которых только один правильный. За каждый правильный ответ - 1 балл. Общее количество баллов - 10.

Задание №2 перед вами просят в которых необходимо написать правильные ответы, внимательно читайте вопросы, ответы записывайте разборчивым почерком. Если все ваши ответы будут правильными, то в вертикальных клетках появится название музыкального инструмента. За каждое правильное слово начисляется 1 балл. За правильное ключевое слово 2 балла. Общее количество баллов за задание - 9.

Задание №3 в этом задании вам нужно написать определение терминов. За каждое правильное определение 1 балл. Общее количество баллов за задание - 5.

Общее количество баллов за 3 задания 24 балла.

Задание №1

1. Крупное музыкальное произведение для симфонического оркестра, состоящее из 4 частей, разного характера, объединенных общей темой, называется:

- А. опера
- Б. увертюра
- В. кантата
- Г. симфония

+

2. В какой форме пишется песня?

- А. трехчастная
- Б. куплетная
- Г. вариационная

+

3. Укажите общий жанр, как для музыки, так и для литературы:

- А. симфония
- Б. токката
- В. баллада
- Г. соната

-

4. Автор балета «Лебединое озеро»:

- А. Глинка
- Б. Римский - Корсаков
- Г. Чайковский
- Г. Рахманинов

+

5. Високосный мужской годок, это:

- А. бас - профуляло
- Б. баритон
- Г. тенор

+

6. Инструментальная пьеса, предназначенная для усовершенствования техники исполнителя, называется:

- А. соната
- Б. этюд

+

В. оперо

7. Какой инструмент, которые относятся к клавишным?

- А. скрипка, виолончель, контрабас
- Б. барабан, литавры, бубен
- Г. рожь, фортепиано, орган
- Г. гобой, флюгель, фисгарда

+

8. Музыкальный жанр, который зависит от литературы?

- А. симфония
- Б. балет
- В. оперо
- Г. оратория

-

9. В каком сказочном балете П. И. Чайковского принц побеждает дракона крыса?

- А. «Лебединое озеро»
- Б. «Спящая красавица»
- Г. «Щелкунчик»
- Г. «Ромео и Джульетта»

+

10. В какой стране возникла опера?

- А. Франция
- Б. Италия
- Г. Польша
- Г. Германия

+

Задание №2

8

1. Мастер струнных инструментов.
2. Оратор музыкального произведения.
3. Певческий коллектив.
4. Классический музыкальный инструмент.
5. Скорость движения.
6. Скрипичный.....
7. Графическое обозначение звука.

Т	А	К	М	С	Т	Р	А	Р	И	В	А	Р	И
Х	О	Р	А	Н	И	Н	О	К	Л	Ю	Н		
Т	Е	М	П	Л	Ю	Н							
Н	О	Т	А										

Дайте определение терминам:

Задание №3

1. Аккорд	Группа звуков	+
2. А кантата	Великое искусство	+
3. Балет	Музыкально-театральное искусство	+
4. Динамика	Сила звука, которая увеличивается как "пише-пише"	+
5. Квартет	Ансамбль из 4-х инструментов	+

4

Фамилия: ЯРОВАЦЕНКО  
Имя: ДАНИИЛ  
Отчество: ФЕДОРОВИЧ  
Число, месяц, год рождения: 15.09.2012

Время выполнения задания: 40 минут

Инструкция для учащихся

Перед выполнением задания внимательно прочитайте инструкцию.

Задание №1 включает 10 вопросов. К каждому вопросу даны 4 варианта ответа, из которых только один правильный. За каждый правильный ответ - 1 балл. Общее количество баллов - 10.

Задание №2 перед вами краткий, в который необходимо вписать правильные ответы, внимательно читайте вопросы, ответы внимательно разбирайтесь подчерком. Если все ваши ответы будут правильными, то в вертикальных клетках появится название музыкального инструмента. За каждое правильное слово начисляется 1 балл. За правильное ключевое слово 2 балла. Общее количество баллов за задание - 9.

Задание №3 в этом задании вам нужно написать, определение терминов. За каждое правильное определение 1 балл. Общее количество баллов за задание - 5.

Общее количество баллов за 3 задания 24 балла.

Задание №1

1. Крупное музыкальное произведение для симфонического оркестра, состоящее из 4 частей, раннего характера, обьективных особенностей, называется:

- А. оратория
- Б. увертюра
- В. кантата
- Г. симфония

2. В какой форме пишутся песни?

- А. двухчастная
- Б. трехчастная
- В. куплетная
- Г. вариационная

3. Укажите общий жанр, как для музыки, так и для литературы:

- А. симфония
- Б. баллада
- Г. соната

4. Автор балета «Лебединое озеро»:

- А. Етэнко
- Б. Римский - Корсаков
- В. Чайковский
- Г. Рахманинов

5. Высшей мужской голос, это:

- А. бас - профуццо
- Б. баритон
- Г. сопрано

6. Инструментальная пьеса, предназначенная для усовершенствования техники исполнения, называется:

- А. соната
- Б. этюд

- В. серенада
- Г. сюита

7. Назови инструменты, которые относятся к клавишным?

- А. скрипка, виолончель, контрабас
- Б. барабан, литавры, бубен
- В. рояль, фортепиано, орган
- Г. труба, флюгель, флейта

8. Музыкальный жанр, который зависит от литературы?

- А. симфония
- Б. балет
- В. песня
- Г. оратория

9. В каком сказочном балете П. И. Чайковского о принце побеждает дряхлую крысу?

- А. «Лебединое озеро»
- Б. «Тщетная предосторожность»
- В. «Щелкунчик»
- Г. «Фомка и Дюймовочка»

10. В какой стране возникла опера?

- А. Франция
- Б. Италия
- В. Польша
- Г. Германия

1. Мастер струнных инструментов.

2. Отрезок музыкального произведения.

3. Переческой коллектив.

4. Капитальный музыкальный инструмент.

5. Скорость движения.

6. Скрипичный.....

7. Г рафическое обозначение звука.

Н	О	Т	А	К	Т	Е	Т	Р	А	Г	У	Ц	В	А	Р	У
			Х	О	Р	А	К	Т								
			Т	Е	М	Н										
						К	Л	Ю	Н							

Дайте определение терминам:

Задание №3

1	Аккорд	Состояние трех и более звуков	+
2	А капелла	Музыка без звуковых инструментов	+
3	Балет	Искусство, объединяющее музыку, танец и сценическое искусство	+
4	Дюймовочка	Музыкальный жанр, который зависит от литературы	+
5	Кларнет	Музыкальный инструмент	+

Всероссийская олимпиада школьников  
школьный этап по музыке 4 класс  
2023-2024 учебный год

20+12

Фамилия: Викторовой  
Имя: Иры  
Отчество: Семёвны  
Число, месяц, год рождения: 17 сентября 2013г.

Время выполнения заданий: 40 минут

**Инструкция для учащихся**

Перед выполнением заданий внимательно прочитайте инструкцию.

**Задание №1** включает 10 вопросов. К каждому вопросу даны 4 варианта ответа, из которых только один правильный. За каждый правильный ответ - 1 балл. Общее количество баллов - 10.

**Задание №2** перед вами кроссворд, в который необходимо вписать правильные ответы, внимательно читайте вопросы, ответы записывайте разборчивым почерком. Если все ваши ответы будут правильными, то в вертикальных клетках появится название музыкального инструмента. За каждое правильное слово начисляется 1 балл. За правильное ключевое слово 2 балла. Общее количество баллов за задание - 9.

**Задание №3** в этом задании вам нужно написать определение терминов. За каждое правильное определение 1 балл. Общее количество баллов за задание - 5.

Общее количество баллов за 3 задания 24.

**Задание №1**

- Автор симфонической сказки «Петя и волк»
  - П. Чайковский
  - М. Глинка
  - В. С. Прокофьев +
  - Д. Кабалевский
- Лишний инструмент в группе струнных смычковых инструментов симфонического оркестра
  - скрипка
  - альт
  - В. арфа +
  - виолончель
- Исполнение музыкального произведения втроем
  - дуэт
  - квартет
  - В. трио +
  - соло
- Лишний инструмент в группе деревянных духовых инструментов симфонического оркестра
  - А. валторна +
  - гобой
  - фагот
  - кларнет
- Что обозначает слово «марш»?
  - бег
  - В. шествие +
  - игра
  - ходьба
- Главная песня страны
  - ода
  - В. гимн +
  - кант
  - дифирамб

7. Кто такой дирижёр?

- ✓А. руководитель оркестра
- Б. главный солист
- В. ведущий программы
- Г. музыкант

8. Инструмент, исполняющий тему волка в симфонической сказке «Петя и волк»

- ✓А. валторна
- Б. тромбон
- В. фагот
- Г. кларнет

9. Как называется самый большой инструмент струнно-смычковой группы?

- А. виолончель
- ✓Б. контрабас
- В. альт
- Г. скрипка

10. Без кого не может возникнуть музыка?

- А. дирижер
- ✓Б. исполнитель
- ✓В. композитор
- Г. слушатель

**Задание №2**

1. Музыкальный спектакль, в котором все артисты поют на сцене.
2. Исполнение произведения втроем.
3. Движение под музыку.
4. Главная песня страны.
5. Самый маленький инструмент струнно - смычковой группы.
6. Грустный лад в музыке.
7. Движение по кругу в музыке.

	1.	О	р	е	р	а
2.	П	р	ц	о		
	3.	П	а	н	е	ц
4.	У	и	л	н		
5.	С	к	л	ч	п	к
	6.	М	и	н	о	р
	7.	Д	о	н	д	о

**Задание №3**

Дайте определение терминам:

1	Регистр	высота звука
2	Темп	скорость музыки
3	Тембр	окраска звука
4	Динамика	громкость музыки
5	Лад	система отношения

- +
- +
- +
- +

3

устойчивых и не устойчивых звуков -

Всероссийская олимпиада школьников  
школьный этап по музыке 4 класс  
2023-2024 учебный год

21 + 2

Фамилия: Мерзанина  
Имя: Юлия  
Отчество: \_\_\_\_\_  
Число, месяц, год рождения: \_\_\_\_\_

Время выполнения заданий: 40 минут

**Инструкция для учащихся**

Перед выполнением заданий внимательно прочитайте инструкцию.

**Задание №1** включает 10 вопросов. К каждому вопросу даны 4 варианта ответа, из которых только один правильный. За каждый правильный ответ - 1 балл. Общее количество баллов - 10.

**Задание №2** перед вами кроссворд, в который необходимо вписать правильные ответы, внимательно читайте вопросы, ответы записывайте разборчивым почерком. Если все ваши ответы будут правильными, то в вертикальных клетках появится название музыкального инструмента. За каждое правильное слово начисляется 1 балл. За правильное ключевое слово 2 балла. Общее количество баллов за задание - 9.

**Задание №3** в этом задании вам нужно написать определение терминов. За каждое правильное определение 1 балл. Общее количество баллов за задание - 5.

Общее количество баллов за 3 задания 24.

**Задание №1**

- Автор симфонической сказки «Петя и волк»
  - П. Чайковский
  - М. Глинка
  - С. Прокофьев
  - Д. Кабалевский
- Лишний инструмент в группе струнных смычковых инструментов симфонического оркестра
  - скрипка
  - альт
  - арфа
  - виолончель
- Исполнение музыкального произведения втроём
  - дуэт
  - квартет
  - трио
  - соло
- Лишний инструмент в группе деревянных духовых инструментов симфонического оркестра
  - валторна
  - гобой
  - фагот
  - кларнет
- Что обозначает слово «марш»?
  - бег
  - шествие
  - игра
  - ходьба
- Главная песня страны
  - ода
  - гимн
  - кант
  - дифирамб

7. Кто такой дирижёр?

- А. руководитель оркестра
- Б. главный солист
- В. ведущий программы
- Г. музыкант

8. Инструмент, исполняющий тему волка в симфонической сказке «Петя и волк»

- А. валторна
- Б. тромбон
- В. фагот
- Г. кларнет

9. Как называется самый большой инструмент струнно-смычковой группы?

- А. виолончель
- Б. контрабас
- В. альт
- Г. скрипка

10. Без кого не может возникнуть музыка?

- А. дирижер
- Б. исполнитель
- В. композитор
- Г. слушатель

**Задание №2**

1. Музыкальный спектакль, в котором все артисты поют на сцене.
2. Исполнение произведения втроем.
3. Движение под музыку.
4. Главная песня страны.
5. Самый маленький инструмент струнно - смычковой группы.
6. Грустный лад в музыке.
7. Движение по кругу в музыке.

	1.	о	п	е	р	а
2.	т	р	и	о		
	3.	т	а	н	е	ц
4.	г	и	м	н		
5.	с	к	р	ч	п	к
	6.	м	и	н	о	р
	7.	р	о	ч	к	а

**Задание №3**

Дайте определение терминам:

1	Регистр	высота звука.	+
2	Темп	скорость	+
3	Тембр	окраска звука	+
4	Динамика	громкость	+
5	Лад	взаимное отношение звуков.	-

Всероссийская олимпиада школьников  
школьный этап по музыке 4 класс  
2023-2024 учебный год

19+2

Фамилия: Июшкова  
Имя: Кира  
Отчество: Анатовна  
Число, месяц, год рождения: 19.03.2013

Время выполнения заданий: 40 минут

**Инструкция для учащихся**

Перед выполнением заданий внимательно прочитайте инструкцию.

**Задание №1** включает 10 вопросов. К каждому вопросу даны 4 варианта ответа, из которых только один правильный. За каждый правильный ответ - 1 балл. Общее количество баллов - 10.

**Задание №2** перед вами кроссворд, в который необходимо вписать правильные ответы, внимательно читайте вопросы, ответы записывайте разборчивым почерком. Если все ваши ответы будут правильными, то в вертикальных клетках появится название музыкального инструмента. За каждое правильное слово начисляется 1 балл. За правильное ключевое слово 2 балла. Общее количество баллов за задание - 9.

**Задание №3** в этом задании вам нужно написать определение терминов. За каждое правильное определение 1 балл. Общее количество баллов за задание - 5.

Общее количество баллов за 3 задания 24.

**Задание №1**

- Автор симфонической сказки «Петя и волк»
  - П. Чайковский
  - М. Глинка
  - С. Прокофьев +
  - Д. Кабалевский
- Лишний инструмент в группе струнных смычковых инструментов симфонического оркестра
  - скрипка
  - альт
  - арфа +
  - виолончель
- Исполнение музыкального произведения втроем
  - дуэт
  - квартет
  - трио ↓
  - соло
- Лишний инструмент в группе деревянных духовых инструментов симфонического оркестра
  - валторна
  - гобой
  - фагот
  - кларнет
- Что обозначает слово «марш»?
  - бег
  - шествие +
  - игра
  - ходьба
- Главная песня страны
  - ода
  - гимн +
  - кант
  - дифирамб

7. Кто такой дирижёр?

- А. руководитель оркестра
- Б. главный солист
- В. ведущий программы
- Г. музыкант

8. Инструмент, исполняющий тему волка в симфонической сказке «Петя и волк»

- А. валторна
- Б. тромбон
- В. фагот
- Г. кларнет

9. Как называется самый большой инструмент струнно-смычковой группы?

- А. виолончель
- Б. контрабас
- В. альт
- Г. скрипка

10. Без кого не может возникнуть музыка?

- А. дирижер
- Б. исполнитель
- В. композитор
- Г. слушатель

Задание №2

1. Музыкальный спектакль, в котором все артисты поют на сцене.
2. Исполнение произведения втроем.
3. Движение под музыку.
4. Главная песня страны.
5. Самый маленький инструмент струнно - смычковой группы.
6. Грустный лад в музыке.
7. Движение по кругу в музыке.

		1.	О	п	е	р	а
2.	т	р	и	о			
		3.	т	а	н	е	ц
4.	з	и	м	н			
5.	с	к	р	и	п	к	а
		6.	м	и	н	о	р
		7.	р	о	н	д	о

Задание №3

Дайте определение терминам:

1	Регистр	это отрезок диапазона музыкального инструмента или певческого голоса
2	Темп	это скорость исполнения музыки
3	Тембр	это окраска звука
4	Динамика	это изменение громкости звучания в музыкальном произведении
5	Лад	это согласие звуков между собой



Фамилия: Пателашкина  
Имя: Алина  
Отчество: Максимовна  
Число, месяц, год рождения: 12.03.2013

Время выполнения заданий: 40 минут

### Инструкция для учащихся

Перед выполнением заданий внимательно прочитайте инструкцию.

**Задание №1** включает 10 вопросов. К каждому вопросу даны 4 варианта ответа, из которых только один правильный. За каждый правильный ответ - 1 балл. Общее количество баллов - 10.

**Задание №2** перед вами кроссворд, в который необходимо вписать правильные ответы, внимательно читайте вопросы, ответы записывайте разборчивым почерком. Если все ваши ответы будут правильными, то в вертикальных клетках появится название музыкального инструмента. За каждое правильное слово начисляется 1 балл. За правильное ключевое слово 2 балла. Общее количество баллов за задание - 9.

**Задание №3** в этом задании вам нужно написать определение терминов. За каждое правильное определение 1 балл. Общее количество баллов за задание - 5.

Общее количество баллов за 3 задания 24.

### Задание №1

1. Автор симфонической сказки «Петя и волк»

- А. П. Чайковский
- Б. М. Глинка
- В. С. Прокофьев
- Г. Д. Кабалевский

2. Лишний инструмент в группе струнных смычковых инструментов симфонического оркестра

- А. скрипка
- Б. альт
- В. арфа
- Г. виолончель

3. Исполнение музыкального произведения втроём

- А. дуэт
- Б. квартет
- В. трио
- Г. соло

4. Лишний инструмент в группе деревянных духовых инструментов симфонического оркестра

- А. валторна
- Б. гобой
- В. фагот
- Г. кларнет

5. Что обозначает слово «марш»?

- А. бег
- Б. шествие
- В. игра
- Г. ходьба

6. Главная песня страны

- А. ода
- Б. гимн
- В. кант
- Г. дифирамб

7. Кто такой дирижёр?

- А. руководитель оркестра
- Б. главный солист
- В. ведущий программы
- Г. музыкант

8. Инструмент, исполняющий тему волка в симфонической сказке «Петя и волк»

- А. валторна
- Б. тромбон
- В. фагот
- Г. кларнет

9. Как называется самый большой инструмент струнно-смычковой группы?

- А. виолончель
- Б. контрабас
- В. альт
- Г. скрипка

10. Без кого не может возникнуть музыка?

- А. дирижер
- Б. исполнитель
- В. композитор
- Г. слушатель

Задание №2

1. Музыкальный спектакль, в котором все артисты поют на сцене.
2. Исполнение произведения втроем.
3. Движение под музыку.
4. Главная песня страны.
5. Самый маленький инструмент струнно - смычковой группы.
6. Грустный лад в музыке.
7. Движение по кругу в музыке.

	о	п	е	р	а	
2.	т	р	а	о		
	т	а	м	е	ц	
4.	г	а	л	ь		
5.	с	к	р	и	п	к
	ш	и	м	о	н	
	р	о	н	д	о	

Задание №3

Дайте определение терминам:

1	Регистр	Рег. звуков
2	Темп	скорость муз.
3	Тембр	окраска звука
4	Динамика	сила звука
5	Лад	настроение муз.